

الوحدة المدرسية:
المستوى الدراسي: الثالث ابتدائي
الاستاذ(ة):

الأكاديمية الجهوية:
المديرية الإقليمية:
المجموعة المدرسية:

1 الأنشطة العددية :



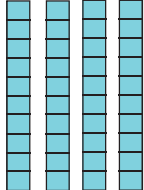

1 - أكتب الأعداد بالأرقام و بالحروف :

خمس مئة و أربعون
.....	165	ثلاثة و سبعون	35

2 - أقرن كل عددين بوضع أحد الرموز > أو < أو = :

62 55	35 35	38 75
------------	------------	------------



3 - أكتب عدد الوحدات و عدد العشرات و أكمل :

العشرات	الوحدات	العشرات	الوحدات
			




..... وحدات و عشرات هي

..... وحدات و عشرات هي

4 - أكتب عدد البيضات التي أكلها الثعبان :

	
12 - . = 7	12 - 7 = .

5 - أتمم العمليات التالية بما يناسب :

		
4 + . = .	12 - . = .	2 x . = .

6- أنجز العمليات التالية :

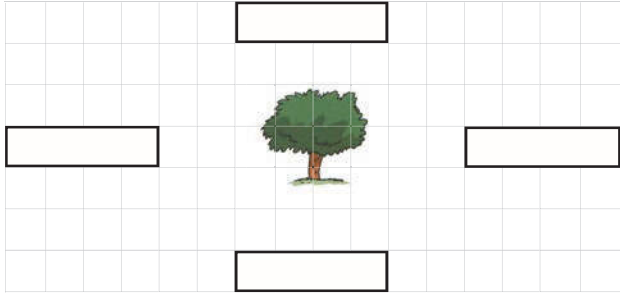
$$\begin{array}{r} 765 \\ \times 4 \\ \hline \end{array}$$

$$\begin{array}{r} 765 \\ - 674 \\ \hline \end{array}$$

$$\begin{array}{r} 265 \\ + 854 \\ \hline \end{array}$$

2 النشطة الهندسية :

1 - ألاحظ الجدول و أكتب :



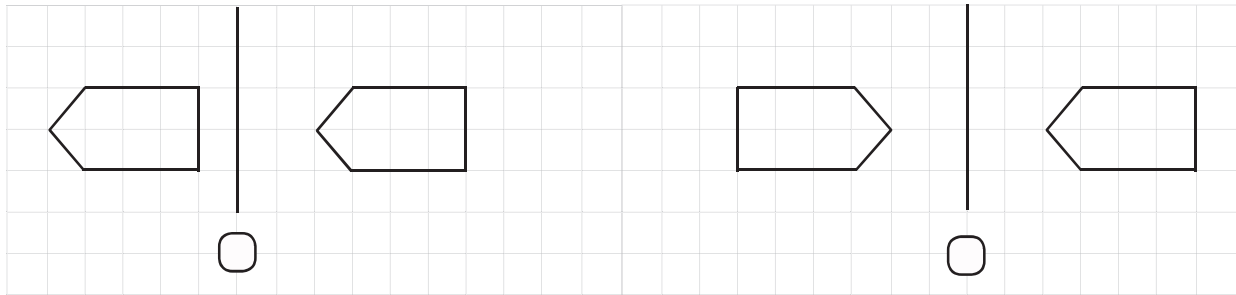
* أكتب الرقم 7 في الخانة يمين الشجرة .

* أكتب الرقم 5 في الخانة يسار الشجرة .

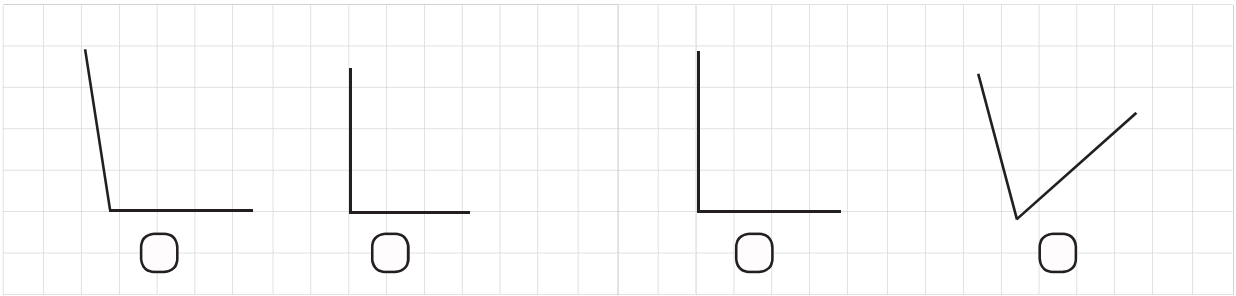
* أكتب الرقم 1 في الخانة أسفل الشجرة .

* أكتب الرقم 5 في الخانة أعلى الشجرة .

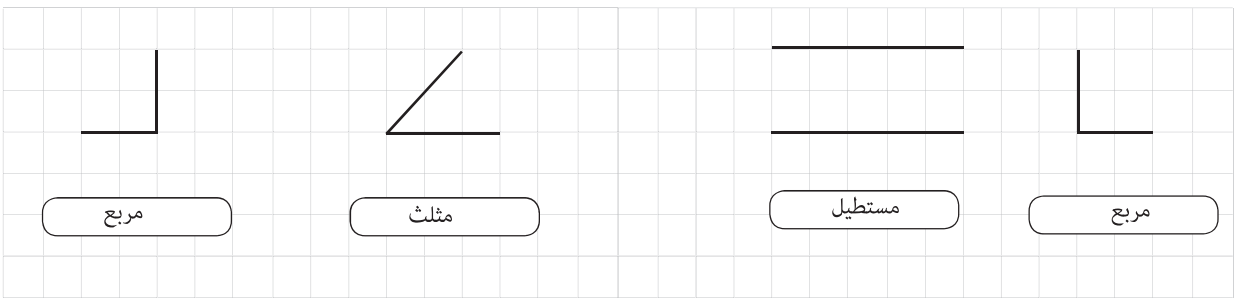
2 - أضع (x) تحت الشكلين المتماثلين :



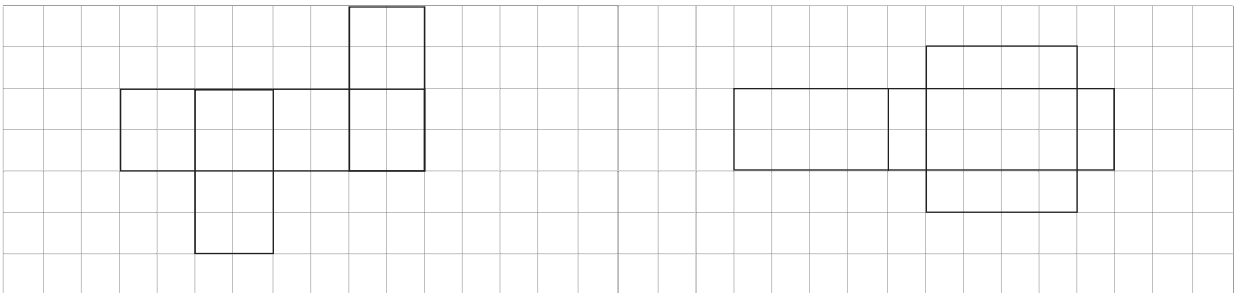
3 - أضع (x) تحت كل الزاوية القائمة :



4 - أتهم رسم الأشكال الهندسية :



5 - ماذا يمثل النشر التالي :



* يمثل النشر التالي نشر ل

* يمثل النشر التالي نشر ل

3 أنشظة القياس:

1 - أكتب و أرسم التوقيت الذي تشير اليه كل ساعة :



:



:



2 : 50



7 : 40

2 - أكتب أسماء الأوراق و القطع النقدية :



ورقة نقدية من فئة درهما



ورقة نقدية من فئة درهما



ورقة نقدية من فئة درهما



قطعة نقدية من فئة دراهم

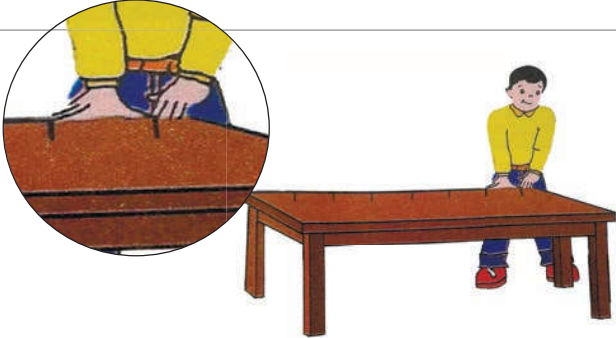


قطعة نقدية من فئة درهم



قطعة نقدية من فئة سنتيمات

3 - أحسب طول الطاولة :



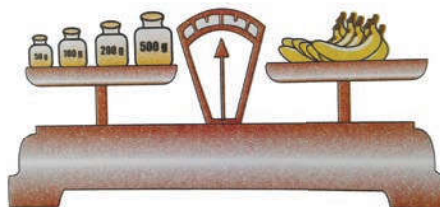

* طول الطاولة أشبار و أصابع

4 - أحسب طول القلم :



* طول القلم هو سنتمترات

5 - أحسب كتلة الموز :



* كتلة الموز هي غرام