

سلاح التلميذ

منذ عام ١٩٦٠

الدراسات الاجتماعية

اختبارات على شهري أكتوبر ونوفمبر



2022 - 2021

الصف الرابع الابتدائي

4

الاختبار ١

السؤال الأول اختر الإجابة الصحيحة مما بين القوسين:

- ١ تُعَدُّ من المصادر الأولية.
(مذكرات الملك فاروق - كتاب قناة السويس - الأبحاث عن الأهرامات - موسوعة الآثار المصرية)
- ٢ أي من عناصر الخريطة التالية يُستخدَم عند رسم البحر الأحمر في ورقة صغيرة
(العنوان - مقياس الرسم - وردة البوصلة - المفتاح)

السؤال الثاني اكتب كلمة (صواب) أمام العبارة الصحيحة، وكلمة (خطأ) أمام العبارة غير الصحيحة:

- ١ يختلف مناخ مصر مع مناخ سيرايليون. ()
- ٢ يتوسط علم مصر نسر به نفس ألوان العلم. ()

السؤال الثالث أكمل العبارات التالية بما يناسبها من كلمات:

- ١ يمكنك كطالب الاستفادة من GPS في
- ٢ يحيط بعالمنا محيطات.

السؤال الرابع أمامك خريطة صماء لمحافظة القاهرة، اكتب مدلول الأرقام الموقعة عليها:

- ١ يشير رقم (١) إلى محافظة
- ٢ تحيط المحافظة رقم (٢) القاهرة من اتجاهي و



محافظة القاهرة

السؤال الخامس أجب عما يلي:

- ١ حدد أوجه التشابه والاختلاف بين بحيرة ناصر وبحيرة المنزلة.
- ٢ حدد أحد مظاهر الاحتفال بالعيد القومي لمحافظةك.



الاختبار ٢

السؤال الأول اختر الإجابة الصحيحة مما بين القوسين:

- ١ يشير الرمز المقابل إلى أحد عناصر الخريطة وهو
(خطوط الطول - دوائر العرض - وردة البوصلة - مقياس الرسم)
- ٢ يدل اللون في علم دولة العراق على السلام.
(الأحمر - الأبيض - الأسود - الأخضر)

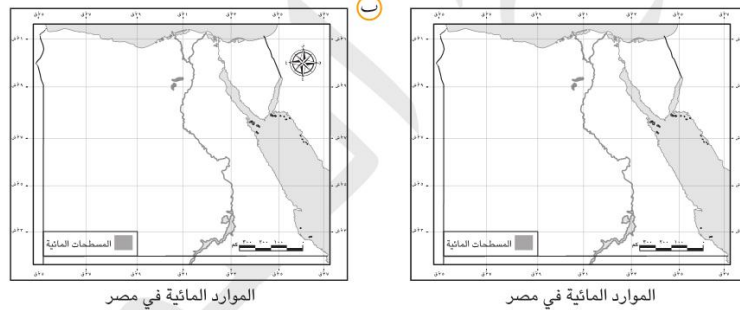
السؤال الثاني اكتب كلمة (صواب) أمام العبارة الصحيحة، وكلمة (خطأ) أمام العبارة غير الصحيحة:

- ١ تساهم العاصمة الإدارية في تحسين الحياة لسكان محافظة القاهرة. ()
- ٢ إذا أردت الاستمتاع بالشعاب المرجانية فعليك زيارة البحر المتوسط. ()

السؤال الثالث أكمل العبارات التالية بما يناسبها من كلمات:

- ١ تنحصر الصحراء الشرقية بين نهر النيل غربًا و شرقًا.
- ٢ المناخ يسود معظم الأراضي المصرية.

السؤال الرابع لاحظ الخرائط، ثم أجب:



- ١ العنصر الناقص بالخريطة (أ) هو
- ٢ نستفيد من العنصر الناقص في

السؤال الخامس أجب عما يلي:

- ١ ما سبب اختيار القاهرة عاصمة لمصر على مر العصور؟
- ٢ صنف العبارات التالية إلى حقيقة ورأي: (هرم خوفو هو الهرم الأكبر - سفاجا أجمل مدن البحر الأحمر)

رأي	حقيقة



الاختبار ٣

السؤال الأول اختر الإجابة الصحيحة مما بين القوسين:

- ١ أحد مظاهر الاحتفال بالعيد القومي لمحافظةك هو
(تزيين الشوارع - إقامة الصلاة - غلق الأسواق - ذبح الأضحية)
- ٢ لتنفيذ مشروع يحتاج إلى مساحات كبيرة فعلينا التوجه إلى أكبر محافظات مصر مساحة وهي
(الشرقية - بني سويف - الوادي الجديد - دمياط)

السؤال الثاني اكتب كلمة (صواب) أمام العبارة الصحيحة، وكلمة (خطأ) أمام العبارة غير الصحيحة:

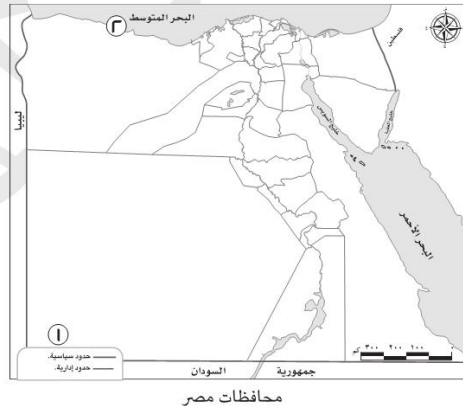
- ١ يقع اتجاه الشرق عكس اتجاه الغرب. ()
- ٢ تمتد محافظات الوجه القبلي إلى خارج مصر. ()

السؤال الثالث أكمل العبارات التالية بما يناسبها من كلمات:

- ١ يفصل بين قارتي إفريقيا وأمريكا الجنوبية المحيط
- ٢ تُصنّف محافظتك على أنها من محافظات

السؤال الرابع أمامك خريطة لمصر لاحظها جيدًا، ثم أجب:

- ١ يشير رقم (١) إلى هضبة
- ٢ يشير رقم (٢) للبيئة



السؤال الخامس أجب عما يلي:

- ١ قارن بين مصدر المياه في البيئة الصحراوية والبيئة الزراعية.
- ٢ حدد اثنين من المجالات التي تستفيد من بيانات الأرصاد الجوية.



الاختبار ٤

السؤال الأول

اختر الإجابة الصحيحة مما بين القوسين:

- ١ يتشابه الطقس مع المناخ أن كليهما يوضح
(حالة الجو - أشكال السطح - فصول السنة - الأنشطة الاقتصادية)
- ٢ اللحن الرائع للنشيد الوطني المصري من إبداع الفنان
(يونس القاضي - عمار الشريعي - مصطفى الراجعي - سيد درويش)

السؤال الثاني

اكتب كلمة (صواب) أمام العبارة الصحيحة، وكلمة (خطأ) أمام العبارة غير الصحيحة:

- ١ شبه جزيرة سيناء تحيط بها المياه من ثلاث جهات. ()
- ٢ احتلت مصر دورًا رئيسًا في التجارة حاليًا بعد حفر قناة سيزوستريس. ()

السؤال الثالث

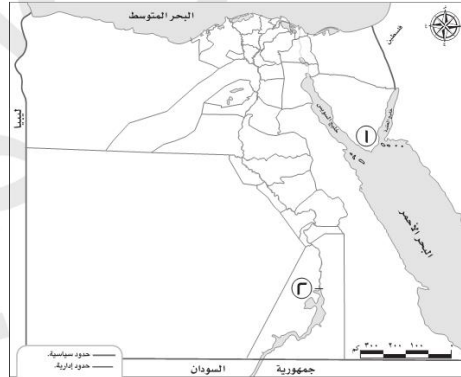
أكمل العبارات التالية بما يناسبها من كلمات:

- ١ الظاهرة التضاريسية التي توجد في القاهرة وارتفاعها أقل من ١٠٠٠ متر هي
- ٢ البيئة التي تحيط بنهر النيل تُسمى بيئة

السؤال الرابع

أمامك خريطة لمصر لاحظها جيدًا، ثم أجب:

- ١ يشير الرقم (١) لجبل
- ٢ يشير الرقم (٢) للسد



السؤال الخامس

أجب عما يلي:

- ١ حدد إحدى النتائج المترتبة على: حفر قناة السويس الجديدة؟
- ٢ وضح أهمية الخريطة للجيش.



الاختبار 0

السؤال الأول اختر الإجابة الصحيحة مما بين القوسين:

- ١ تُلَوَّن على خريطة التضاريس باللون الأخضر الداكن.
(المرتفعات - البحيرات - المنخفضات - البحار)
- ٢ من قارات العالم القديم ولا تقع بها مصر قارة
(أمريكا الجنوبية - أمريكا الشمالية - إفريقيا - أوروبا)

السؤال الثاني اكتب كلمة (صواب) أمام العبارة الصحيحة، وكلمة (خطأ) أمام العبارة غير الصحيحة:

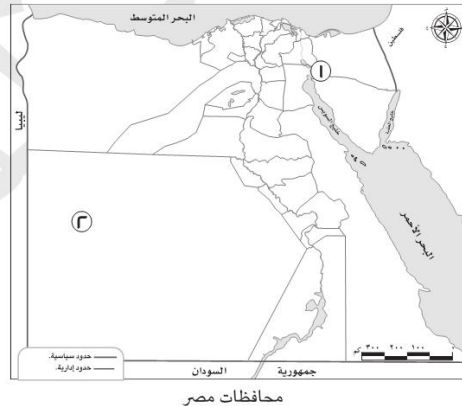
- ١ ترتبط البيئة الساحلية بوجود الأنهار. ()
- ٢ الآراء تعبر عن وجهات النظر المختلفة حول موضوع معين. ()

السؤال الثالث أكمل العبارات التالية بما يناسبها من كلمات:

- ١ نحدد الاتجاه الصحيح على الخريطة باستخدام
- ٢ سُمِّيت الصحراء السوداء بهذا الاسم؛ لأن سطحها تغطيه بقايا

السؤال الرابع أاماك خريطة لمصر لاحظها جيدًا، ثم أجب:

- ١ يشير الرقم (١) إلى
- ٢ يشير الرقم (٢) إلى بحر



السؤال الخامس أجب عما يلي:

- ١ فسّر سبب وجود اللون الأسود في علم مصر.
- ٢ حدد أحد أوجه التشابه بين الصور الجوية والصور الفضائية.

