

كؤكب النؤبة في التاريخ و الجؤرافيا - بكالوريا 2023 -

محطة البكالوريات التجريبية

القسم الأول : I

الاختبارات :

، من 01 إلى 12 ،،

المواضيع مرفقة بالتصحيح النموذجي و سلم التقييم

ملاحظة : ليس شرطا المحاولة في كل المواضيع ،، يمكن المحاولة في
50% فقط و الباقي أخذ المعلومات الطازجة منه بشكل مباشر ،،
، هذه الباقة خاصة بجميع الشعب العلمية : ع تج + ر + تر ،،

تحت شعار :

،، تَجْرِبَةُ الْيَوْم ،، عِبْرَةٌ لِلْغَد ،،

المذصرة العلمية = عقبة بن نافع

<https://www.facebook.com/okba.bac.2010>

على المترشح أن يختار أحد الموضوعين التاليين:

الموضوع الأول

التاريخ:

الجزء الأول : (06 نقاط)

"...يمكن اعتبار مؤتمر باندونغ أول انتصار دولي لدبلوماسية جبهة التحرير الوطني... وأنه أوصى بعرض القضية الجزائرية على هيئة الأمم المتحدة التي افتتحت الدورة في 30 سبتمبر 1955 غداة هجوم جيش التحرير الوطني على الشمال القسنطيني... ونتيجة للضغط الذي حققته القضية الجزائرية على الصعيد الدولي ورغبتها في تفعيل العمل الدبلوماسي أعلنت جبهة التحرير الوطني عن تأسيس حكومة مؤقتة بالمنفى كمرحلة جديدة في مسار الكفاح التحرري..."

1. اشرح ما تحته خط في النص

2. عرف الشخصيات التالية * محمد بوضياف * ليونيد بريجنيف * أحمد سوكارنو

الجزء الثاني (04 نقاط)

قال جورج بوش الاب يوم 05 جانفي 1992 "من الضروري أن تتحقق الزعامة الامريكية للعالم عقب الحرب الباردة وأن ندير درب الآخرين ولا أحد سوانا"

المطلوب: انطلاقا من المقولة واعتمادا على ما درست، أكتب مقالا تاريخيا تبين فيه :

1. ملامح تحقق الزعامة الامريكية للعالم بعد نهاية الحرب الباردة.

2. آليات تنفيذ زعامتها للعالم.

الجغرافيا:

الجزء الأول (06 نقاط):

"...كما أن الاتحاد الأوروبي يمتلك قدرة غير كافية على التجديد التكنولوجي فلقد استقرت حصة نفقات البحث والتطوير من الناتج الداخلي الخام في حدود 1.9% سنة 2003 في الوقت الذي بلغت فيه هذه الحصة 2.6% في الولايات المتحدة الامريكية و 3.1% في اليابان. ويدعوا هذا الامر إلى الانشغال خاصة في ظل تنامي جهود البحث والتطوير في البلدان الصاعدة مثل الصين الشعبية..."

المصدر: مسائل أوربية عدد 15 جانفي 2006 جان فرانسوا جامي: السياسة الصناعية للاتحاد الأوروبي.

1. أشرح ما تحته خط في النص

إليك جدولا يمثل مؤشرات حول وزن بعض الأطراف في الاستثمار الأجنبي المباشر (مليار دولار)

المناطق	الولايات المتحدة الامريكية	اليابان	الاتحاد الأوروبي	الصين
الاستثمار الأجنبي المباشر الصادر	342	160	435	124
الاستثمار الأجنبي المباشر الوارد	275	10	303	136

المصدر: مؤتمر الأمم المتحدة للتجارة والتنمية: تقرير الاستثمار العالمي 2017

2. مثل أرقام الجدول في أعمدة بيانية في مجال واحد 1 سم لكل عمود (منطقة) 1 سم لكل 50 مليار دولار

الجزء الثاني: (04 نقاط)

كتب فرانسواز نيكولا ضمن دراسة حول التنمية والعولمة "أنه علاوة على استمرار الفجوة بين الشمال والجنوب، فإن عدم تجانس مجموعة بلدان الجنوب يزداد ليس من حيث مستويات الثروة والتقدم فحسب، بل أيضا من حيث التخصص والاسهام في حركة العولمة"

المطلوب: انطلاقا من العبارة واعتمادا على ما درست، أكتب مقالا تاريخيا تبين فيه :

1- دلائل عدم التجانس الاقتصادي بين العالمين .

2- حلول دول الجنوب لتحقيق هذا التجانس

الموضوع الثاني التاريخ

الجزء الأول: (06 نقاط)

"... تجسيدا لسياسة الاحتواء ، و إيماننا بأن الرخاء الاقتصادي هو الكفيل باستبعاد خطر المد الشيوعي ، قررت الولايات المتحدة الأمريكية على لسان جورج مارشال تقديم حوالي 13 مليار دولار لحلفائها... أما الاتحاد السوفياتي فقد دعا جدانوف الديمقراطية الشعبية إلى المبادرة بالإصلاح الاقتصادي ، قبل بعث الكومينكون الذي ضم كل من أوروبا الشرقية ، باستثناء يوغسلافيا ، حيث قرر جوزيف بروز تيتو عدم الانحياز لموسكو..."
المصدر: أزمات العالم المعاصر وتحولاته، ص 167.

1. اشرح ما تحته خط في النص.

2. أكمل الجدول التالي:

التاريخ	الحدث
26 ماي 1972	
	معركة ديان بيان فو
13 ماي 1958	

الجزء الثاني: (04 نقاط)

إذا كانت فرنسا ترى اليوم أن ديغول و دستوره و استفتاءه هي ورقته الأخيرة فإنه أمام الثورة ليس إلا معركة أيام في حرب دارت أربع سنوات و المعركة ستستمر حتى نتمكن من بناء دولتنا المستقلة.
المطلوب : انطلاقا من العبارة و اعتمادا على ما درست اكتب مقالا تاريخيا تبين فيه:
1. الأسباب التي أجبرت شارل ديغول على الاعتراف بالمفاوضات واستقلال الجزائر.
2. المحطات الأساسية لقيام الدولة الجزائرية 1962.

الجغرافيا:

الجزء الأول (06 نقاط):

"... رأس المال يقف عقبة أمام كثير من الدول النامية لاستغلال مواردها الطبيعية... فصناعة تكرير البترول لم تكن ممكنة في دول الخليج قبل توافر رؤوس الأموال الكافية، ولذلك كان البترول يصدر خاما إلى الدول الأجنبية خاصة بهيمنة الشركات المتعددة الجنسيات منهم الشقيقات السبع التي تعرف بكارتل البترول لمواجهة كارتل العالم الثالث أوبيك وأوبيك +".
المصدر: د.علي هارون، جغرافية الصناعة - بتصرف -

1. اشرح ما تحته خط في النص .

إليك الجدول الآتي يمثل أكبر منتجي الغاز الطبيعي في العالم سنة 2022. الوحدة: مليار متر مكعب

الدول	الو.م.أ.	روسيا	إيران	قطر	السعودية	النرويج	الجزائر
الإنتاج (م.م 3)	934.2	701.7	256.7	177	117.3	114.3	100.8
النسبة %	23.1	17.4	6.4	4.4	2.9	2.8	2.5

المصدر: 5-8-2022 (Visual capitalist)

2. علق على المعطيات الإحصائية الواردة في الجدول.

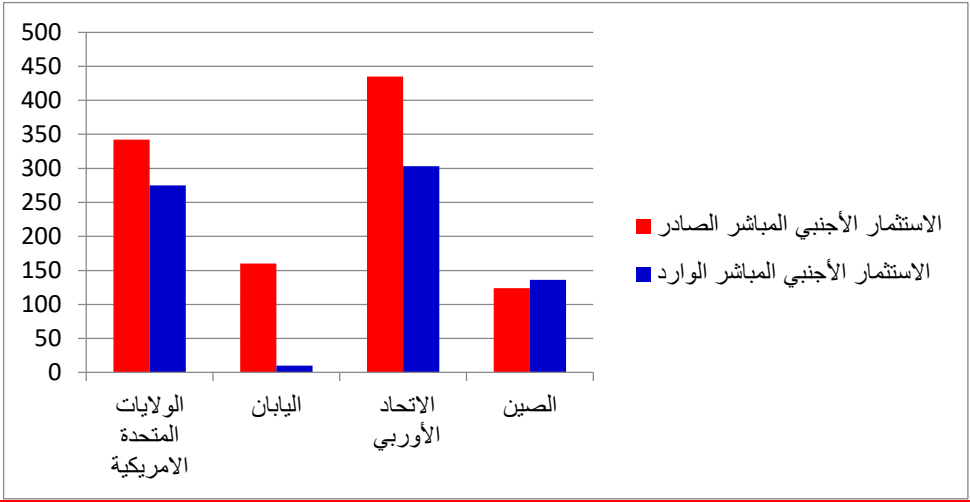
الجزء الثاني (04 نقاط)

قطعت دول شرق و جنوب شرق آسيا خطوات استثنائية في العقود القليلة الماضية، وكان جزء كبير من النجاح يكمن في الانفتاح على التجارة و على الاستثمار في العنصر البشري.
المطلوب : انطلاقا من الفقرة واعتمادا على ما درست، اكتب مقالا جغرافيا تبين فيه :

1. دور العنصر البشري في تطوير النمو الاقتصادي.

2. المشاكل التي تعترض التنمية في المنطقة.

العلامة		عناصر الإجابة (الموضوع الأول)	
مجموع	مجزأة		
06	01	<u>أولا: التاريخ</u>	
		➤ <u>الجزء الأول: (6)</u>	
		<u>ج1: شرح المصطلحات:</u>	
		❖ <u>جبهة التحرير الوطني:</u> هو حزب سياسي في الجزائر كان يمثل القيادة السياسية للثورة التحريرية ظهر أول نوفمبر 1954 وهو امتداد للجنة الثورية للوحدة والعمل.	
		❖ <u>العمل الدبلوماسي:</u> مصطلح ، يقصد به الدور الذي لعبه ممثلي الثورة التحريرية في الخارج لإيصال القضية الجزائرية الى الرأي العام العالمي والتعريف بها ضمن منابر المنظمات العالمية و جلب الدعم المعنوي والمادي لها.	
		❖ <u>الحكومة المؤقتة:</u> هي هيئة تنفيذية مؤقتة أعلن عن تشكيلها رسميا في القاهرة في 19 سبتمبر 1958 برئاسة فرحات عباس مهمتها تنفيذ قرارات المجلس الوطني للثورة.	
06	01	<u>ج2: تعريف الشخصيات:</u>	
		❖ <u>محمد بوضياف :</u> احد مناضلي الثورة الجزائرية انضم إلى صفوف حزب الشعب ثم عضوا في المنظمة السرية عضو مجموعة 22 اعتقل في حادثة اختطاف الطائرة 22 أكتوبر 1956 من طرف السلطات الاستعمارية إلى غاية وقف إطلاق النار استدعي لينصب رئيسا 1992 توفي مقتولا سنة 1994 .	
		❖ <u>ليونيد بريجنيف:</u> رجل دولة سوفيتي خلف خروتشوف على رأس الاتحاد السوفيتي اشتهر بالمبدأ المعروف باسمه (مبدأ بريجنيف) كان وراء العديد من التدخلات العسكرية السوفيتية في الخارج مثل: ربيع براغ 1968 – غزو أفغانستان 1979 ..	
		❖ <u>احمد سوكرنو:</u> هو قائد وزعيم سياسي وأول رؤساء إندونيسيا واحد القادة الرئيسيين لحركة عدم الانحياز. قاد بلاده للحصول على الاستقلال من هولندا.	
		➤ <u>الجزء الثاني: (4)</u>	
		<u>مقدمة:</u> شهد العالم مع نهاية الثمانينات تحولا في العلاقات الدولية و بعد انهيار الاتحاد السوفياتي لاح في الافق بؤادر نظام دولي جديد ، انفردت فيه الولايات المتحدة الامريكية بقيادة العالم	
04	0.5	<u>العرض:</u>	
		<u>ج1/ملاحم تحقق الزعامة الامريكية للعالم بعد نهاية الحرب الباردة:</u>	
		✓ تراجع الايديولوجية الشيوعية وانحسارها في العالم وتراجع دور الاتحاد السوفياتي سابقا وروسيا حاليا في العلاقات الدولية.	
		✓ تراجع دور هيئة الأمم المتحدة وما تمثله من شرعية دولية لفائدة الوم ا وحلفائها.	
		✓ حل وتسوية الكثير من المشاكل والتوترات الدولية وفق مصالح الوم ا (القضية الفلسطينية)	
		✓ التحرشات الامريكية ضد الدول الضعيفة بحجة دعمها للارهاب أو امتلاكها أسلحة الدمار الشامل.	
04	6x0.25	✓ انفراد الوم ا بقيادة العالم وفرض هيمنتها في شتى المجالات (سياسيا, اقتصاديا, عسكريا)	
		✓ زرع الفتن والنزاعات في الوطن العربي تحت مسمى الربيع العربي منذ 2011.	
		✓ هيمنة الوم.أ على المنظمات الاقتصادية والمالية العالمية.	
		<u>ج2: آليات تنفيذ زعامتها للعالم:</u>	
		1/ <u>المؤسسات المالية والاقتصادية العالمية:</u>	
		وهي صندوق النقد الدولي والبنك العالمي والمنظمة العالمية للتجارة وتستخدمها الوم.أ كوسيلة لفرض هيمنتها على الدول الضعيفة .	
04	0.5	2/ <u>هيئة الأمم المتحدة:</u> تستخدمه كأداة سياسية بمنح الشرعية الدولية للتدخلات في الشؤون	

06	<p>6×0.25</p> <p>0.5</p> <p>01</p> <p>01</p> <p>01</p> <p>02</p> <p>0.5</p> <p>0.5</p>	<p>الداخلية للدول الصغرى مثل ضرب العراق حاليا , ومسألة دارفور في السودان.</p> <p>3/ الحلف الأطلسي: وهو الأداة العسكرية التي تراهن عليها اليوم. أ فرض هذا النظام بقوة السلاح</p> <p>لذلك نجده الحلف الوحيد الذي أبقى عليه حتى بعد نهاية الحرب الباردة.</p> <p>4/ المنظمات غير الحكومية: وهي منظمات غير سياسية تنشط في عدة مجالات مثل حقوق الإنسان والديموقراطية وشؤون المرأة والطفل والبيئة وتستغل هذه المنظمات هذا النظام باستغلال تقاريرها في التدخل بالشؤون الداخلية .</p> <p>5/ وسائل الاعلام: وهي من أهم المؤسسات الفاعلة في هذا النظام ومن أخطر أساليبه في ظل تطور نظم الاتصالات في عالم اليوم وسيطرة الدول الرأسمالية الغربية عليها , إذ أن هنالك 4 وكالات أنباء فقط تسيطر على 80% من تدفق المعلومات في العالم , وتكرس هذه النسبة لخدمة المصالح الغربية الرأسمالية بنسبة 90% من أجل ترسيخ أفكار الغرب وتمير رسالته الغربية والحضارية وفرض هيمنته وسلطته.</p> <p>الخاتمة:</p> <p>من خلال ماسبق نستنتج ان النظام الدولي الجديد الذي يسير العالم بعد 1989 ما هو الا استعمار جديد اقل كلفة واكثر خطورة من نظام الثنائية القطبية.</p> <p>ثانيا : الجغرافيا</p> <p>➤ الجزء الأول: 6</p> <p>ج1: شرح المصطلحات:</p> <p>❖ الاتحاد الأوربي: هو تكتل للدول الأوروبية يضم 27 دولة، تأسس بناء على اتفاقية معروفة باسم معاهدة ماسترخت الموقعة عام 1992 بهدف تكوين سوق موحد ذو عملة واحدة هي اليورو</p> <p>❖ الناتج الداخلي الخام: وهو مؤشر اقتصادي يمثل قيمة ما تنتجه مختلف القطاعات الاقتصادية داخل البلد الواحد خلال سنة .</p> <p>❖ البلدان الصاعدة: هي مجموعة الدول التي أصبحت تحقق في السنوات الأخيرة معدلات نمو اقتصادي كبيرة وتشهد تطور سريع مثل الصين والبرازيل والهند وجنوب افريقيا</p> <p>أعمدة بيانية تمثل مؤشرات حول وزن بعض الأطراف في الاستثمار الأجنبي المباشر 2017 (مليار دولار)</p>  <table border="1"> <thead> <tr> <th>المنطقة</th> <th>الاستثمار الأجنبي المباشر الصادر (مليار دولار)</th> <th>الاستثمار الأجنبي المباشر الوارد (مليار دولار)</th> </tr> </thead> <tbody> <tr> <td>الولايات المتحدة الأمريكية</td> <td>340</td> <td>280</td> </tr> <tr> <td>اليابان</td> <td>160</td> <td>10</td> </tr> <tr> <td>الاتحاد الأوروبي</td> <td>430</td> <td>300</td> </tr> <tr> <td>الصين</td> <td>120</td> <td>140</td> </tr> </tbody> </table> <p>ج2/ التمثيل البياني:</p> <p>الإنجاز:</p> <p>سلم الرسم والمفتاح</p> <p>العنوان</p>	المنطقة	الاستثمار الأجنبي المباشر الصادر (مليار دولار)	الاستثمار الأجنبي المباشر الوارد (مليار دولار)	الولايات المتحدة الأمريكية	340	280	اليابان	160	10	الاتحاد الأوروبي	430	300	الصين	120	140
المنطقة	الاستثمار الأجنبي المباشر الصادر (مليار دولار)	الاستثمار الأجنبي المباشر الوارد (مليار دولار)															
الولايات المتحدة الأمريكية	340	280															
اليابان	160	10															
الاتحاد الأوروبي	430	300															
الصين	120	140															

04	0.5	<p>الجزء الثاني:4</p> <p>مقدمة: انقسام العالم إلى شمال متقدم اقتصاديا وجنوب متخلف في نفس المجال والذي يمتلك إمكانيات ضخمة تؤهله إلى الخروج من دائرة التخلف.</p> <p>العرض:</p> <p>ج1: مظاهر التفاوت الاقتصادي بين العالمين:</p> <ul style="list-style-type: none"> ✓ الدخل الوطني الخام . (الشمال 86%، الجنوب 14%) ✓ حجم استهلاك الموارد الأولية الطاقوية والمعدنية خاصة البترول والحديد . (الشمال 86% بترول، الجنوب 14%) ✓ نسبة المساهمة في الصناعة (الشمال 90%، الجنوب 10%) ✓ نسبة المساهمة في الزراعة (الشمال 65%، الجنوب 35%) ✓ حجم المبادلات التجارية " تصديرا واستيرادا " (الشمال 82%، الجنوب 18%) <p>ج2: حلول دول الجنوب لتحقيق هذا التجانس:</p> <ul style="list-style-type: none"> ✓ تفعيل التكتلات الاقتصادية والسياسية بين دول الجنوب. ✓ الاستغلال الأمثل للموارد الطبيعية وعائداتها المالية. ✓ العمل على تنويع اقتصاديات دول الجنوب وعدم الاعتماد على اقتصاد المورد الواحد.. ✓ إقامة علاقات اقتصادية مع العالم المتقدم تكون مبنية على المنفعة المتبادلة. ✓ الاهتمام بالجانب التعليمي والعمل على تطوير البحث العلمي. ✓ تكوين الفرد علميا وفنيا لخدمة نفسه ومجتمعه. ✓ التحكم في التكنولوجيا الحديثة انتاجا لاستيرادا.
	6×0.25	<p>الخاتمة: رغم الواقع الاقتصادي المريع في دول الجنوب إلا أن استغلاله الجيد لإمكانياته تؤهله إلى تحقيق قفزة نوعية .</p>
	0.5	
	6×0.25	

العلامة		عناصر الإجابة (الموضوع الثاني)									
مجموع	مجزأة										
06	01 01 01 01 01 01 01 01 01 01	<u>التاريخ:</u>									
		<u>الجزء الأول(6 نقاط)</u>									
		(1) شرح ما تحته خط في النص:									
		<u>سياسة الاحتواء</u> : هي سياسة إتبعتها الو.م.أ ضد إتحاد السوفياتي في ظل الحرب الباردة و تعني إستقطاب الدول إلى الكتلة الغربية عن طريق مجموعة من المشاريع الاقتصادية مثل مبدأ ترومان 1947 مشروع إيزنهاور 1957 مشروع مارشال 1947 .									
		<u>المد الشيوعي</u> : إنتشار الشيوعية كفكر ، كأيدولوجية سياسة داخل أوروبا و خارجها بعد نجاح الثورة البلشفية 1917 مع الدعم السوفياتي لكل الأحزاب الشيوعية خلال الحرب الباردة سواء في أوروبا أو جنوب شرق آسيا أو أمريكا اللاتينية .									
		<u>الديمقراطيات الشعبية</u> : مفهوم يطلق على دول أوروبا الشرقية الشيوعية التي كانت حليفة للإتحاد السوفياتي بمذهب شيوعي إشتراكي مثل بولونيا - المجر - تشيكوسلوفاكيا									
		<u>(2) إكمال الجدول:</u>									
		<table><tr><th>التاريخ</th><th>الحدث</th></tr><tr><td>26 ماي 1972</td><td>إنفاقية سالت 1</td></tr><tr><td>13 ماي 1958</td><td>تمرد جنرالات فرنسا</td></tr><tr><td>07 ماي 1954</td><td>معركة ديان بيان قو</td></tr></table>		التاريخ	الحدث	26 ماي 1972	إنفاقية سالت 1	13 ماي 1958	تمرد جنرالات فرنسا	07 ماي 1954	معركة ديان بيان قو
		التاريخ	الحدث								
		26 ماي 1972	إنفاقية سالت 1								
13 ماي 1958	تمرد جنرالات فرنسا										
07 ماي 1954	معركة ديان بيان قو										
<u>الجزء الثاني(4 نقاط)</u>											
<u>المقدمة:</u>											

04	0.5	الثورة الجزائرية ما بين النجاح و رضوخ فرنسا لتفاوض و منحهم الاستقلال . العرض: (1) الأسباب التي أجبرت شارل ديغول على الاعتراف باستقلال الجزائر: - تعذر الانتصار العسكري للجيش الفرنسي - تزايد نفقات الحرب (تكاليف باهظة) - حركة تمرد الجيش و محاولة الانقلاب ضد ديغول في 13 ماي 1958 - قوة الثورة الجزائرية و التفاف الشعب الجزائري - ضغط الرأي العام الدولي و الرأي الداخلي الفرنسي ضد الحكومة الفرنسية - تدويل القضية الجزائرية في المحافل الدولية - ضغط مظاهرات 17 أكتوبر 1961 - مساندة الكتلة الأفروآسيوية للثورة الجزائرية من خلال (مؤتمر باندونغ 1955 - مؤتمر طنجة...)
	0.25	(2) المحطات الأساسية لقيام الدولة الجزائرية 1962 - التوقيع على إتفاقية إيفيان 18 مارس 1962 - وقف إطلاق النار ابتداء من 19 مارس 1962 - انعقاد مؤتمر طرابلس في 27 ماي إلى 04 جوان 1962 و وضع إختيارات بناء الدولة الجزائرية
	6 X	- إجراء إستفتاء في 01 جويلية 1962 - نتائج الاستفتاء في 03 جويلية 1962 نعم للاستقلال بـ 98 - إجلاء القوات الفرنسية و إعلان الاستقلال التام في 05 جويلية 1962 - إعلان قيام دولة الجزائر في 26 سبتمبر 1962
	0.5	الخاتمة : خضوع الاستعمار الفرنسي للمفاوضات بداية أخرى للجزائريين من أجل تفعيل إنتصار و بناء الدولة الجزائرية و وحدة الأمة و السيادة الكاملة.
		الجغرافيا:
		الجزء الأول: (6 نقاط)
		1- شرح ما تحته خط في النص: - الدول النامية: وهي الدول المستقلة حديثا يقع أغلبها في جنوب الكرة الأرضية، انتهجت سياسة للخروج من دائرة التخلف، تعرف بالدول السائرة في طريق النمو
	01	- الشقيقات السبع: تعرف بالكارتل العالمي للبترول، تتكون من سبع شركات بترولية، خمسة أمريكية هي إكسون، موبيل، تكساسو، سوكال، غولف، أما الأوروبية فهي: بريتش بتروليوم بريطانية، شال: هولندية، توسعت حاليا و أصبحت أكثر من سبع شركات تحتكر أسواق البترول.
	01	- أوبيك+: نوفمبر 2016، إتفاقية تضم 23 دولة مصدرة للنفط منها 13 دولة عضوة في منظمة البلدان المصدرة للبترول أوبيك، بهدف خفض انتاج البترول لرفع أسعار النفط في الأسواق.
	01	2- التعليق على المعطيات الإحصائية الواردة في الجدول: - تمثل الوثيقة جدولا إحصائيا جغرافيا إقتصاديا لأكبر منتجي الغاز في العالم سنة 2022، مصدره 5-8-2022 (Visual capitalist) - نلاحظ ما يلي:
06	0.5 x 6	• تباين و تفاوت في إنتاج الغاز الطبيعي في العالم. • سيطرة كل من الو.م.أ و روسيا على نصف إنتاج الغاز في العالم. • مساهمة دول منظمة الأوبيك (الجزائر، إيران، قطر، السعودية) بنسبة 19.3 % من الإنتاج العالمي. • من حيث التوزيع الجغرافي نلاحظ هيمنة قارة آسيا على إنتاج هذه المادة - و منه نستنتج أن ضخامة و زيادة إنتاج مادة الغاز الطبيعي راجعة إلى زيادة الطلب العالمي عليها خاصة بعد الحرب الأوكرانية الروسية.

04	0.5	<p>الجزء الثاني: (4 نقاط)</p> <p>المقدمة: نجحت دول شرق و جنوب شرق آسيا في تحقيق مكانة إقتصادية باستثمارها في العنصر البشري إلا أن هذا لم يمنع من وجود عراقيل تواجه التنمية في هذه المنطقة.</p> <p>العرض:</p>
	0.25 × 6	<p>1- دور العنصر البشري في تطوير النمو الإقتصادي:</p> <ul style="list-style-type: none"> - قوة بشرية هائلة أكثر من 2 مليار نسمة. - تطور برامج التعليم و تشجيع البحث العلمي. - طبيعة الفرد الآسيوي المعروف بالتفاني في العمل و الكفاءة - سرعة التكيف مع التطور التكنولوجي و استيعاب أحدث الأساليب. - إتساع السوق الإستهلاكية للمنتجات المحلية مما خفف من تبعيتها للخارج. - القدرة التنافسية لبضائع المنطقة و غزوها أسواق الدول الكبرى.
	0.5	<p>2- المشاكل التي تعترض التنمية في المنطقة:</p> <ul style="list-style-type: none"> - الضغط الديمغرافي الكبير في المنطقة - ضيق المساحة مقارنة بعدد السكان. - الكوارث الطبيعية (الزلازل – الفيضانات – البراكين) - الفقر في المواد الأولية و الطاقوية. - مشكلة التلوث البيئي. - المنافسة الخارجية خاصة الإتحاد الأوروبي و الولايات المتحدة الأمريكية. - التباين في مستوى التطور بين دول المنطقة (اليابان و الصين مقارنة بباقي الدول) <p>الخاتمة: بالرغم من الضغط الديمغرافي الكبير في دول شرق و جنوب شرق آسيا إلا أنها تبقى قوى إقتصادية مهددة للغرب.</p>

الجمهورية الجزائرية الديمقراطية الشعبية

وزارة التربية الوطنية

الشعبة : علوم تجريبية ، تقني رياضي

مديرية التربية لولاية عنابة

المدة : 03 سا و30د

ثانوية بوطبة بشير (المقاومة) - عنابة

دورة ماي 2023

البكالوريا التجريبية في مادة التاريخ والجغرافيا

على المترشح أن يختار أحد الموضوعين التاليين :

الموضوع الأول : (20 نقطة)

صفحة بوعراطة للتاريخ والجغرافيا

الجزء الأول : (6 نقاط)

أولا: التاريخ :

(1) « ... لقد كان للإجراءات العسكرية الفرنسية أثر كبير على الوضعية الاقتصادية للسكان الجزائريين ، خصوصا مع توسيع نطاق المناطق المحرمة وإقامة المحتشدات الإجبارية الخاصة بالجزائريين ، قصد عزلهم عن جيش التحرير ، ففي هذا الإطار مثلاً قامت السلطات الفرنسية بالولاية الثانية بإقامة ثلاثة وسبعين محتشداً ، كما يشير تقرير الوضعية العسكرية إلى إنشاء الحكومة المؤقتة كان من أجل رفع معنويات الشعب ، ولقد سعى الإستعمار الفرنسي في هذه الفترة أكثر من غيرها إلى استهداف ولاء الشعب للثورة ، وتجسد هذا المسعى في السياسة الديغولية في شقها الاقتصادي والإجتماعي وهو ماتخلص في مشروع قسنطينة ... »

المرجع كتاب مرجعي عن الثورة التحريرية 1954 - 1962 منشورات المركز الوطني للدراسات والبحث في الحركة الوطنية وثورة أول نوفمبر ص 95

المطلوب : اشرح ماتحته خط في النص .

(2) أكمل الجدول التالي :

الحدث	تاريخه
	05 جانفي 1957
انعقاد مؤتمر باندونغ	
	23 أكتوبر 1958

الجزء الثاني : (04 نقاط)

عرف العالم خلال الفترة الممتدة ما بين 1945. 1956 اشتدادا في الصراع الإيديولوجي ، استخدم فيه كل قطب استراتيجيات مختلفة لإضعاف الآخر .

المطلوب : انطلاقا من العبارة واعتمادا على ما درست ، اكتب مقالا تاريخيا تبين فيه :

(1) عوامل الصراع القائم بين القطبين .

(2) الاستراتيجية العسكرية الغربية لمواجهة المعسكر الشرقي .

(1) « ... لقد شكلت دول جنوب شرق آسيا أو ما عرف بالنمور الآسيوية تجربة مهمة أعجب بها العالم بأسره ، فقد استطاعت خلال فترة قصيرة لا تتجاوز 25 سنة أن تحقق نموا هائلا وتطورا كبير ، وأخذ المديح ينهال عليها من كل دول العالم وخاصة من قبل اقتصادي البنك الدولي وصندوق النقد الدولي الذين رأوا فيها نموذجا يجب على الدول النامية ودول العالم الثالث أن تستفيد منها وتحذوا حذوها إذا ارادت الخلاص من التخلف ... »

المرجع عامر نوري و بن دادة أمين كيف حققت نمور آسيا المعجزة الاقتصادية منصة الموسوعة الجزائرية للدراسات السياسية والأستراتيجية 2020/02/20

المطلوب : اشرح ماتحته خط في النص

(2) إليك جدول يمثل نسبة مساهمة بعض التكتلات الاقتصادية في صادرات و واردات تجارة البضائع سنة 2020

التكتلات الاقتصادية	الإتحاد الأوروبي	مجموعة السبعة	اتحاد أمريكا الشمالية للتجارة الحرة ALENA	مجموعة بريكس	رابطة الآسيان
الصادرات	33,19	29,7	12,71	19,81	7,85
الواردات	28.83	35.15	18.03	16,36	7.12

احصائيات الأونكتاد 2021

المطلوب : مثل معطيات الجدول بالأعمدة البيانية في مجال واحد بمقياس رسم : 1 سم — 5 %
1 سم — عمود

الجزء الثاني : (04 نقاط)

تلعب تدفقات رؤوس الأموال دورا مهما على الصعيد الاقتصادي العالمي وبالرغم من الاجماع حول أهمية هذه التدفقات إلا انها قد تصاحبها العديد من الآثار السلبية
المطلوب : انطلاقا من العبارة واعتمادا على ما درست، اكتب مقالا جغرافيا تبرر فيه:

1. أهمية حركة الأموال في الاقتصاد العالمي
2. سلبيات حركة الأموال في الاقتصاد العالمي

أولا: التاريخ :

الجزء الأول : (6 نقاط)

صفحة بوعراطة للتاريخ والجغرافيا

(1) « ... في ظل القطبية الثنائية المحكمة لم يبرز دور مؤثر للعالم الثالث بالنسبة لهيكل النظام الدولي وحالته . ومع ذلك كانت حركات التحرر - منذ نهاية الحرب العالمية الثانية - أحد عناصر الحرب الباردة بين القوتين الأعظم وأحد عناصر التوتر داخل الكتلة الغربية أي بين الولايات المتحدة الأمريكية والدول الإستعمارية الكبرى ولكن ومنذ مؤتمر باندونغ ومع تزايد حركات الإستقلال ، أخذ يتزايد بروز دور العالم الثالث الذي حاولت دوله أن تأخذ طريقا ثالثا بين الكتلتين المتصارعتين ... »

المصدر : أ د نادية محمود مصطفى العالم الثالث في النظام الدولي لما بعد الحرب الباردة مجلة الغدير سبتمبر 2012 ص 2

المطلوب: اشرح ما تحته خط في النص

(2) عرف بالشخصيات التالية: - حسين ايت احمد - دوايت إيزنهاور - هوشي منه

الجزء الثاني : (04 نقاط)

لقد كان لإنعقاد مؤتمر الصومام عدة ظروف وعوامل دفعت قادة الثورة الجزائرية للسعي لعقد اجتماع عام تدرس في المرحلة المقطوعة من عمر الكفاح المسلح ، كما يمكن من خلاله وضع خطة للمستقبل بحيث تكون أكثر بعدا وشمولية وتنظيما

المطلوب : انطلاقا من الفقرة واعتمادا على مآدرست أكتب موضوعا تبين فيه:

1. الظروف التي انعقد فيها مؤتمر الصومام

2. القرارات المنبثقة عن المؤتمر

1) «... رغم أن احتمال نشوب أزمة خطيرة في الثقة بمنطقة اليورو تؤدي إلى تجميد الأسواق المالية في المنطقة بأسرها قد تراجع تراجعاً ملموساً، فمن الضروري تحقيق مواصلة التقدم تجاه تحسين ماليات كل بلد وإصدار خطط لتعزيز الاتحاد المصرفي في أنحاء أوروبا وتخصيص صناديق إنقاذ سيادية. وإذا فشلت السياسات في الحفاظ على زخم الإصلاحات، فقد تجد بعض البلدان الأكثر ضعفاً في منطقة اليورو نفسها مجمدة خارج أسواق رأس المال، الأمر الذي قد ينتهي بركود عالمي يمكن أن يخضم 1 في المائة أو أكثر من معدل نمو إجمالي الناتج المحلي بالبلدان النامية ...»

المرجع : الآفاق الاقتصادية العالمية: ضمان تحقق النمو في الأمد المتوسط يناير/كانون الثاني 2012 ص 2

المطلوب : اشرح ماتحته خط في النص

2) إليك جدول يمثل كمية إنتاج القمح في بعض دول العالم سنة 2020 الوحدة مليون طن

الدول	الصين	الهند	روسيا	الولايات المتحدة الأمريكية	كندا	أكرانيا	باكستان	الأرجنتين	تركيا
كمية الإنتاج	134	107	85	49,6	35,1	25,5	25,2	17,2	18,2

المصدر : أطلس بيانات العالم 2021

المطلوب : علق على معطيات الجدول

الجزء الثاني : (4 نقاط)

إنّ بلدان جنوب شرق آسيا إستطاعت عبر مسيرة ثلاث عقود من التنمية المتميزة أن تحقق درجات عالية من النمو الاقتصادي مما أهلها أن تكون في مقدمة البلدان حديثة التصنيع

المطلوب: انطلاقاً من الفقرة واعتماداً على ما درست، اكتب موضوعاً جغرافياً تبرز فيه:

1) عوامل القوة الاقتصادية لمنطقة شرق وجنوب شرق آسيا.

2) مكانة المنطقة في الاقتصاد العالمي.

العلامة		عناصر الإجابة	محاور								
مجموعة	مجزأة	صفحة بوعراطة للتاريخ والجغرافيا	الموضوع								
06	1	<p>تحديد المفاهيم : تحديد المفاهيم :</p> <p>1. المناطق المحرمة: مناطق جغرافية محددة تقوم فرنسا بإخلائها من السكان تحت التهديد واستخدام القوة تمهيدا لقبيلتها وحرقتها لعزل الثوار وتشديد الخناق والحصار عليهم</p> <p>2. الحكومة الجزائرية المؤقتة: هيئة سياسية تأسست يوم الجمعة 19 سبتمبر 1958 بالقاهرة وحلت محل لجنة التنسيق والتنفيذ، برئاسة فرحات عباس، تقوم بمختلف المهام العادية للحكومة، تجددت في 19 ديسمبر 1959 واحتفظ فرحات عباس برئاستها ثانية ثم تجددت للمرة الثالثة في أوت 1961 برئاسة بن يوسف بن خدة.</p> <p>3. مشروع قسنطينة : هو مشروع استعماري دعاني أعلنه ديغول في 3 أكتوبر 1958 بقسنطينة هدفه إبعاد وفصل الشعب عن الثورة وإقناعه بضرورة الاندماج في فرنسا وخلق فئة من الجزائريين يحكم من خلالها الجزائر.</p> <p>جدول الأحداث</p>	المفاهيم								
	1	<table><tr><th>الحدث</th><th>تاريخه</th></tr><tr><td>اعلان مشروع ايزنهاور</td><td>05جانفي 1957</td></tr><tr><td>انعقاد مؤتمر باندونغ</td><td>24-18 أفريل 1955</td></tr><tr><td>إعلان سلم الشجعان</td><td>23أكتوبر 1958</td></tr></table>	الحدث	تاريخه	اعلان مشروع ايزنهاور	05جانفي 1957	انعقاد مؤتمر باندونغ	24-18 أفريل 1955	إعلان سلم الشجعان	23أكتوبر 1958	جدول الأحداث
	الحدث	تاريخه									
	اعلان مشروع ايزنهاور	05جانفي 1957									
	انعقاد مؤتمر باندونغ	24-18 أفريل 1955									
إعلان سلم الشجعان	23أكتوبر 1958										
0.5	<p>الجزء الثاني</p> <p>مقدمة: نهاية التحالف الاستراتيجي خلال الحرب العالمية الثانية وعودة الخلاف الإيديولوجي.</p> <p>عوامل الصراع القائم بين القطبين.</p> <ul style="list-style-type: none">- زوال مبررات التحالف الظرفي بين الاتحاد السوفياتي والحلفاء.- التباين والاختلاف الإيديولوجي بين المعسكرين.- خروج الولايات المتحدة الأمريكية من العزلة السياسية .- التوسع السوفيتي خاصة في شرق أوروبا وانتشار المذهب الاشتراكي .- تصادم مصالح المعسكرين في كثير من مناطق العالم.- السباق نحو التسليح خاصة أسلحة الدمار الشامل	المقدمة									
0.25 6×	<p>الاستراتيجية العسكرية الغربية لمواجهة المعسكر الشرقي:</p> <ul style="list-style-type: none">- إنشاء الأحلاف العسكرية (حلف الشمال الأطلسي 1949 ، حلف جنوب شرق آسيا 1954 حلف بغداد 1955 أو المركزي بعد انسحاب العراق).- بناء القواعد العسكرية عبر مناطق العالم.- وانتهاج سياسة التطويق والاحتواء.- إتباع سياسة الردع النووي.- القيام بتدخلات عسكرية في إطار سياسة ملء الفراغ.- تدبير الانقلابات والاغتيالات...ضد الحكام والشخصيات المناوئة . <p>خاتمة : امتد الصراع الايديولوجي بين المعسكرين وازدادت خطورته على كل شعوب العالم.</p>	العرض									
0.5			الخاتمة								
04											

العلامة		عناصر الإجابة	محاور الموضوع																		
مجموعة	مجزأة																				
06	1	<p>تحديد المفاهيم : النمور الآسيوية: (الجيل الثاني من التينينات) تسمية أطلقت على البلدان آسيا الجنوبية الشرقية أندونيسيا ماليزيا تايلندا الفلبين وهي دول دخلت التصنيع بعدما كانت زراعية، فأدخلت الصناعات التحويلية وحقت نموا اقتصاديا كبيرا وتوجه نحو البلدان الصناعية الجديدة</p> <p>البنك الدولي للإنشاء والتعمير: مؤسسة مالية عالمية تأسس 1946/06/25 بموجب اتفاقيات بروتون وودز من مهامه تقديم القروض للدول للدول الاعضاء والدول النامية قصد تمويل المشاريع التنموية مقره واشنطن</p> <p>التخلف : مصطلح اقتصادي يتمثل في عدم قدرة الدول على تحقيق التطور الاقتصادي والرفاهية الاجتماعية والتقدم الثقافي نتيجة عدم القدرة على الاستغلال الأمثل للإمكانات المتوفرة بسبب معوقات شتى. أو هو وضع متردي اقتصاديا واجتماعيا تعجز فيه الدولة عن انتاج الثروة والرفاه</p> <p>التمثيل البياني : الإنجاز 2ن العنوان 0.5 المقياس 0.25 المفتاح 0.25</p>	المفاهيم																		
	1		التمثيل البياني																		
	3		<p>أعمدة بيانية تمثل نسبة مساهمة بعض التكتلات الاقتصادية في صادرات تجارة البضائع سنة 2020</p> <table><thead><tr><th>المنطقة</th><th>الصادرات (%)</th><th>الواردات (%)</th></tr></thead><tbody><tr><td>الاتحاد الأوروبي</td><td>33</td><td>28</td></tr><tr><td>مجموعة السبعة</td><td>29</td><td>35</td></tr><tr><td>اتحاد أمريكا الشمالية</td><td>12</td><td>18</td></tr><tr><td>مجموعة بريكس</td><td>20</td><td>16</td></tr><tr><td>رابطة الآسيان</td><td>7</td><td>7</td></tr></tbody></table>	المنطقة	الصادرات (%)	الواردات (%)	الاتحاد الأوروبي	33	28	مجموعة السبعة	29	35	اتحاد أمريكا الشمالية	12	18	مجموعة بريكس	20	16	رابطة الآسيان	7	7
المنطقة	الصادرات (%)	الواردات (%)																			
الاتحاد الأوروبي	33	28																			
مجموعة السبعة	29	35																			
اتحاد أمريكا الشمالية	12	18																			
مجموعة بريكس	20	16																			
رابطة الآسيان	7	7																			
04	0.5	<p>الجزء الثاني : 4ن</p> <p>مقدمة: حركة رؤوس الأموال بين دورها الإيجابي في العلاقات الاقتصادية ودورها السلبي. (تقبل كل مقدمة وجيهة)</p> <p>أهمية حركة رؤوس الأموال في العلاقات الاقتصادية الدولية:</p> <ul style="list-style-type: none">- المساهمة في التنمية الاقتصادية- توفير السيولة النقدية لتنشيط الحركة التجارية (الصادرات، الواردات).- تساعد على ازدهار الأسواق (المحلية أو الدولية). وتدفع السلع والخدمات- تنشيط البنوك والمصارف المحلية والدولية بالتحويلات المالية والادخار- تدعيم الاستثمارات الخارجية ودور الشركات العالمية في النمو الاقتصادي الإقليمي والدولي.- تحقيق أرباح ضخمة من خلال نشاط البورصات أو القروض البنكية. <p>سلبات حركة رؤوس الأموال على الاقتصاد العالمي:</p> <ul style="list-style-type: none">- تعرض الاقتصاد العالمي لأزمات مالية (1929 - 1988 - 2008)- تمركز الاستثمارات في دول الثالث العالمي وارتباط مسار السيولة العالمية ببورصة وول ستريت- تزايد عمليات تبيض الأموال والتضخم المالي الناتجة عن (المخدرات القذية الاختلاس الرشوة)- انتشار الفضائح المالية للشركات الأجنبية- عدم استقرار سعر العملات.- استقطاب البنوك والمؤسسات والنوادي المالية لرؤوس الأموال العالمية (احتكار) <p>خاتمة: الانعكاسات السلبية للسوق المالية تعكس هشاشة النظام المالي العالمي.</p>	المقدمة																		
	0.25 6×		العرض																		
	0.25 6×																				
0.5			الخاتمة																		

العلامة	عناصر الإجابة الموضوع الأول	محاور الموضوع
	<p>تحديد المفاهيم :</p> <p>- القطبية الثنائية: هي حالة الانقسام الذي ساد العالم بعد الحرب العالمية الثانية إلى غاية سنة 1989 بظهور معسكرين متنافسين ،الرأسمالي بقيادة الولايات المتحدة الأمريكية ،والشيوعي بزعامة الاتحاد السوفياتي أو نظام ميّز العلاقات الدولية طيلة الحرب الباردة ، قائم على وجود قطبين متناقضين شرقي بزعامة الاتحاد السوفياتي و غربي بزعامة الولايات المتحدة الأمريكية</p> <p>- حركات التحرر : رد فعل شعبي وطني باستخدام كافة الوسائل لتصفية الإستعمار واستعادة السيادة الوطنية</p> <p>- مؤتمر باندونغ: هو مؤتمر الإخاء والتضامن الأفرو آسيوي الذي عقد بمدينة باندونغ الإندونيسية يوم 18/04/1955 و قد مهد لبروز حركة عدم الإنحياز فيما بعد</p>	المفاهيم
	<p>التعريف بالشخصيات:</p> <p>- حسين ايت احمد شخصية جزائية مناضل في صفوف حزب الشعب وحركة الإنتصار للحريات الديمقراطية من مؤسسي المنظمة الخاصة عضو الوفد الخارجي اعتقل في حادثة اختطاف الطائرة توفي 23-12-2015</p> <p>- دوايت ايزنهاور (1890-1969): شخصية عسكرية و سياسية أمريكية رئيس الوم أ بين 1953 و 1961 رئيس أركان قوات الحلفاء خلال الح ع 2 ، استجاب لدعوة خروتشوف للتعيش السلمي وأنهى الحرب الكورية ، كما جاء بسياسة ملء الفراغ (مبدأ إيزنهاور 1957) وعرف عهده تسابقا رهيبا نحو التسلح بين المعسكرين ظهرت في عهده أزمة السويس</p> <p>- هوشي منه شخصية سياسية فيتنامية مؤسس الحزب الشيوعي الفيتنامي قاد حربا ضد فرنسا 1954/1946 ثم تزعم الحرب ضد الحكومة العميلة في الفيتنام الجنوبي وضد التدخل الأمريكي</p>	الشخصيات

العلامة	عناصر الإجابة	محاور
	<p>المقدمة: الثورة التحريرية بين التقييم والحاجة الماسة للتنظيم لضمان استمراريتها وإنجاحها</p> <p>ظروف انعقاده :</p> <p>- اتساع نطاق الثورة خاصة بعد هجوم 1955/08/20 .</p> <p>- انضمام جل فيئات المجتمع إلى الثورة .</p> <p>- طرح القضية الجزائرية لأول مرة أمام مجلس الأمن في 1956/06.</p> <p>- مساندة عدد هام من الدول للثورة الجزائرية.</p> <p>- استقلال تونس والمغرب ربيع 1956</p> <p>- تأسيس الإتحاد العام للعمال الجزائريين 1956/02/24، وإضراب الطلبة 1956/05/19</p> <p>القرارات</p> <p>- إصدار ميثاق الصومام</p> <p>- تأسيس المجلس الوطني للثورة</p> <p>- تأسيس لجنة التنسيق والتنفيذ</p> <p>- تقسيم الجزائر إلى ستة (06) ولايات عسكرية</p> <p>- إقرار مبدأ القيادة الجماعية والأولوية للداخل على الخارج والسياسي على العسكري</p> <p>- البناء الهيكلي لجيش التحرير الوطني (مسؤوليات الرتب الرواتب)</p>	المقدمة
	<p>العرض</p> <p>- إقرار مبدأ القيادة الجماعية والأولوية للداخل على الخارج والسياسي على العسكري</p> <p>- البناء الهيكلي لجيش التحرير الوطني (مسؤوليات الرتب الرواتب)</p>	العرض
	<p>الخاتمة: إستراتيجية الثورة بعد مؤتمر الصومام أفشلت كل المخططات الاستعمارية الفرنسية وأجبرتها على البحث عن مخرج مشرف.</p>	الخاتمة

محاور الموضوع	عناصر الإجابة الموضوع الأول	العلامة
المفاهيم	<p>تحديد المفاهيم :</p> <p>1. منطقة اليورو : الاسم الذي يطلق على دول الاتحاد الأوروبي المنضمة إلى العملة الموحدة اليورو والتي يقدر عدد سكانها بـ 343 مليون نسمة سنة 2019 (حاليا 19 دولة في منطقة اليورو من 27 دولة في الاتحاد الأوروبي).</p> <p>2. الأسواق المالية : فضاء تدار فيه العمليات المالية كبيع الاسهم والسندات كما تحدد فيه أسعار العملات، يخضع لقانون العرض والطلب</p> <p>3. إجمالي الناتج المحلي الثروة المنتجة داخل البلاد فقط من طرف الفئات الشغيلة</p>	1 1 1
التعليق على الجدول	<p>التعليق على الجدول:</p> <ul style="list-style-type: none"> جدول يمثل كمية إنتاج القمح في بعض دول العالم سنة 2020 المصدر أطلس بيانات العالم 2021 التباين في كمية الإنتاج من دولة إلى أخرى تماشيا وظروف كل دولة وباعتبار القمح مادة استراتيجية موجهة للتصدير بالدرجة الاساس أغلب الدول المنتجة للقمح تنتمي لدول الشمال (روسيا الو م أ كندا أكرانيا) نتيجة توفر الإمكانيات الطبيعية المادية والبشرية ضخامة انتاج كل من الصين 134 م طن والهند 107 م طن وبالتالي احتلالهما المرتبة الأولى والثانية في العالم خصوصا مع التحول في نمط الاستهلاك لبعض دول آسيا لمادة (القمح) التقارب في الإنتاج بين دولة الارجننتين وتركيا تستحوذ دول مجموعة بريكس المتمثلة في الصين الهند روسيا على أكثر من نصف انتاج القمح 	1 3 0.5
المقدمة	<p>الجزء الثاني: 4ن</p> <p>المقدمة: منطقة شرق وجنوب شرق آسيا بين الاستثمار العقلاني للعنصر البشري وبروزها كقوة فاعلة ومؤثرة في الاقتصاد العالمي.</p> <p>1 :عوامل القوة الاقتصادية لمنطقة شرق وجنوب شرق آسيا:</p> <ul style="list-style-type: none"> - العامل التاريخي والسياسي (الاستقرار، الإصلاحات، الاستفادة من المساعدات وتبادل الخبرات) - العامل الطبيعي (الموقع الإستراتيجي، الإشراف على المسطحات المائية). - العامل البشري :قوة ديمغرافية(الاستثمار الجيد للمجال البشري -روح التحدي للسكان - اتساع الأسواق الاستهلاكية -يد عاملة موهلة ورخيصة ومنضبطة). - العامل الاقتصادي -:ضخامة وتنوع الإمكانيات الطبيعية والمادية خاصة الصين. ، كثرة رؤوس الأموال الداخلية والخارجية. التطور العلمي والتكنولوجي. - الاعتماد على سياسة التكتلات (الآسيان). 	6×0.25
العرض	<p>مكانة المنطقة في الاقتصاد العالمي:</p> <ul style="list-style-type: none"> - استحوذ المنطقة على ربع الثروة العالمية. - قوة الاستثمار 21,52 % من الاستثمار العالمي. - قوة الأسطول التجاري 57,9 % من إجمالي سفن العالم - ضخامة المنتج الصناعي وتنوعه (الفولاذ 36% ، السيارات 70%) - ارتفاع نسبة النمو الاقتصادي الصين 10% - قوة المساهمة في التجارة العالمية: تصديرا واستيرادا :الصين الثانية، اليابان الثالثة، هونغ كونغ الرابعة. 	6×0.25
الخاتمة	<p>الخاتمة: دول شرق و جنوب شرق آسيا قوة اقتصادية متنامية، منافسا جديدا لكل من الاتحاد الأوروبي والولايات المتحدة الأمريكية</p>	0.5

على المترشح ان يختار أحد الموضوعين التاليين:

الموضوع الأول

1/ التاريخ:

الجزء الأول: (06 نقاط)

«مع إدراك كل من القوتين لحقائق الوضع الدولي الجديد في عالم ما بعد الحرب. بدأت الخلافات بينهما حول اقتسام مناطق النفوذ... كان التناقض الأيديولوجي بين القطبين أثره البالغ في تعميق هوة الخلاف بينهما، فقد أدى ذلك الخلاف الأيديولوجي الى انقسام دول العالم المتقدم الى كتلتين رئيسيتين... ولجأ كل من القطبين في صراعه مع الآخر في الاستحواذ على أرض العالم الثالث الى وسائل غير مباشرة تجنباً للاحتكاك المسلح المباشر بينهما...»

المصدر: د/إيناس سعدي عبد الله/الحرب الباردة-دراسة تاريخية للعلاقات الامريكية-السوفياتية 1945-1963م:13

المطلوب:

1- اشرح ما تحته خط في النص.

2- عرف بالشخصيات التالية:

* رابع بيطاط * هوشي منه * دوايت ايزنهاور

الجزء الثاني: (04 نقاط)

شكلت هجومات الشمال القسنطيني بتاريخ 20 أوت 1955 منعرجا حاسما في تعزيز ودعم مسيرة كفاح الشعب الجزائري

المطلوب: انطلاقا من الفقرة واعتمادا على ما درست اكتب مقالا تاريخيا تبرز فيه.

1- دوافع هجومات 20 أوت 1955

2- أهدافها

الجزء الأول: (06نقاط)

«تعتبر المديونية الخارجية شكلا من اشكال التبعية المالية المباشرة ويتبين ذلك من خلال عدم قدرة كثير من الدول النامية على تسديد ديونها للدول الأخرى والتي عادة هي الدول الصناعية، وعلى صعيد الدين العام الخارجي للدول النامية فقد ارتفع اجمالي مديونيتها ب 2. 9% في 2007.» المرجع: بن صابر فتحة/المسؤولية الدولية عن تخلف التنمية في الدول النامية.ص: 367

المطلوب:

1. عرف بالمصطلحات التي تحتها خط في النص.
2. إليك جدول يمثل أهم الشركاء التجاريين للجزائر سنة 2019.

التصدير			الاستيراد		
البلد	القيمة/مليار دولار	النسبة	البلد	القيمة/مليار دولار	النسبة
فرنسا	5.05	14.11	الصين	7.65	18.25
ايطاليا	4.62	12.90	فرنسا	4.27	10.20
اسبانيا	3.1	11.15	ايطاليا	3.41	8.13
بريطانيا	2.29	6.42	اسبانيا	2.93	6.99
تركيا	2.2	6.27	المانيا	2.83	6.76

المرجع: الجمارك الجزائرية

المطلوب: علق على الجدول

الجزء الثاني: (04نقاط)

يعتبر الاتحاد الأوروبي من أكبر التكتلات الاقتصادية في العالم واكثرها اكتمالا من حيث البنى والهياكل التكاملية

المطلوب: انطلاقا من الفقرة واعتمادا على ما درست اكتب مقالا جغرافيا تبرز فيه.

- 1- أهمية التكتل في قوة الاتحاد الأوروبي الاقتصادية.
- 2- الصعوبات والمشاكل التي واجهت دول الاتحاد الأوروبي.

الموضوع الثاني

1/ التاريخ:

الجزء الأول: (06 نقاط)

«ان تشكيل أول حكومة جزائرية مؤقتة في القاهرة من طرف لجنة التنسيق والتنسيق لجهة التحرير الوطني الجزائري سبقت خطوات ومراحل ساعدت على نضج الفكرة...وبالإضافة لذلك فإن انتصارات جبهة التحرير الوطني المتعددة على الصعيدين السياسي والعسكري، جعلت آمال ديغول تنهار في الجزائر، ما أدى بالإدارة الفرنسية الى الدخول في مفاوضات بشأن تقرير المصير»
تأبقي حياة/ردود فعل الثورة الجزائرية تجاه سياسة ديغول -مجلة القرطاس العدد 5-2017 . ص 224-227

المطلوب:

1- اشرح ما تحته خط في النص.

2- اكمل الجدول التالي.

التاريخ	الحدث
	اعلان مشروع ايزنهاور
1958/09/19	
1956/10/22	

الجزء الثاني: (04 نقاط)

أدى سقوط الاتحاد السوفياتي وانحيار المعسكر الشرقي الى انفراد الولايات المتحدة الأمريكية بقيادة العالم، وإعادة تنظيم العلاقات الدولية وفق ما يخدم مصالحها ومصالح حلفائها.
المطلوب: انطلاقا من الفقرة واعتمادا على ما درست اكتب مقالا تاريخيا تبرز فيه.

1- مؤسسات ووسائل النظام الدولي الجديد الفاعلة

2- مصير العالم الثالث في ظل النظام الجديد

العلامة		الموضوع الاول
مجزأة	كاملة	عناصر الإجابة
		التاريخ
		الجزء الأول
	01	1- اشرح ما تحته خط في النص
	01	- مناطق النفوذ: مناطق اعتبرت استراتيجية لكلا المعسكرين فسعى كل منهما للسيطرة عليها
	01	- التنافس الايديولوجي: خلاف مذهبي فكري بين الاشتراكية والرأسمالية
	01	- العالم الثالث: مصطلح أطلقه الفريد صوفي على الدول المستقلة حديثا والسانرة في طريق النمو
		2- التعريف بالشخصيات
06	01	* رابح بيطاط: ثوري جزائري ناضل في حزب الشعب وحركة الانتصار عضو مجموعة 22 ومجموعة 6 وقائد
	01	الولاية الرابعة سجن سنة 1955 ترأس الجزائر لفترة انتقالية بعد وفاة هواري بومدين
	01	* هوشي منه: زعيم ومؤسس حزب الفيت منه وحركة التحرر في فيتنام ورئيس الفيتنام الشمالي توفي سنة 1967
		* دوايت ايزنهاور: جنرال ورئيس الوم ا خلال الحرب الباردة صاحب مشروع ايزنهاور للشرق الأوسط توفي 1969
		الجزء الثاني
	0.5	مقنعة: تعتبر هجمات الشمال القسنطيني 20 أوت 1955 منعطف تاريخيا هاما في مسيرة الثورة الجزائرية نظرا
		لأثرها الإيجابي الكبير وما خلفته على السياسة الفرنسية الاستعمارية فما هي دوافعها؟ وما هي اهدافها؟
		العرض:
		1- دوافع هجومات الشمال القسنطيني
	1.5	<ul style="list-style-type: none"> إعلان فرنسا حالة الطوارئ حصار فرنسا لمنطقة الأوراس اثبات قوة الثورة واستمرارها استشهاد بعض قادات الثورة واعتقال بعضهم الانتشار الواسع للجيش الفرنسي وزيادة أعداده
04		2- أهدافها
	1.5	<ul style="list-style-type: none"> - فك الحصار عن منطقة الأوراس - الاستحواذ على الأسلحة ودعم الثورة بها - تخويف المعمرين وإجبارهم على المغادرة - نقل الثورة من الجبال إلى المدن لإعطائها أكثر صدى - تدويل القضية الجزائرية - التضامن مع المغرب في ذكرى نفي محمد الثاني
		خاتمة: هجومات الشمال القسنطيني أثبتت أن الثورة الجزائرية ثورة شعب لا ثورة مناطق
	0.5	ملاحظة: (تقبل كل إجابة صحيحة)

الجغرافيا

الجزء الأول

1-شرح ما تحته خط في النص

- المديونية الخارجية: هي تراكم الديون على دولة وعدم القدرة على تسديدها في وقتها المحدد
- الدول الصناعية: هي الدول المتقدمة الأكثر تطورا وتصنيعا وتمثل خصوصا مجموعة السبع
- الدول النامية: هي الدول المتخلفة السائرة في طريق النمو

-2

التعليق على الجدول:

- تباين نسب وفهم التبادل التجاري للجزائر
- فرنسا أكبر زبون للجزائر
- الصبن أكبر مصدر للجزائر
- دول الاتحاد الأوروبي أكبر متعامل تجاري للجزائر
- تنوع شركاء الجزائر التجاريين

الجزء الثاني:

مقدمة: يعتبر الاتحاد الأوروبي من القوى الاقتصادية البارزة في العالم (الثالث) من خلال تطويره لكل القطاعات الاقتصادية رغم وجود بعض النقص فيما تكمن أهمية التكتل في قوة الاتحاد الأوروبي؟ وما هي الصعوبات التي تواجه دول الاتحاد؟

1-أهمية التكتل في قوة الاتحاد الأوروبي الاقتصادية

- تحقيق التكامل الاقتصادي من خلال حرية تنقل الأشخاص والأموال والبضائع كما نصت عليه معاهدة روما
- قوة اقتصادية زراعية، صناعية، تجارية، مالية خاصة بعد توحيد عملتها الأورو تبعا لمعاهدة ماستريخت
- استرجاع مكانة أوروبا الاقتصادية والسياسية
- مواجهة المنافسة العالمية خاصة الأمريكية واليابانية
- تحقيق الرفاهية الاجتماعية

2-الصعوبات التي تواجه دول الاتحاد الأوروبي

- التبعية للخارج في مجال الطاقة والمعادن.
 - التفاوت الاقتصادي والاجتماعي بين الدول الأعضاء " ألمانيا - اليونان ".
 - عدم احترام مبدأ الأفضلية في المبادلات التجارية بين الدول الأعضاء.
 - المنافسة التجارية القوية مع الـ.ج.ا ، الصين ، اليابان و جنوب شرق آسيا.
 - ارتفاع معدل الشيخوخة داخل المجتمع الأوروبي.
 - الأزمات المالية و الاقتصادية (اليونان ، اسبانيا ، ايرلندا ج ، قبرص)
 - هيمنة الدول الكبرى على الاتحاد (ألمانيا ، فرنسا ، بريطانيا ، إيطاليا).
- خاتمة: يعتبر الاتحاد الأوروبي قوة اقتصادية عالمية، حيث يعتبر القوة التجارية الأولى على مستوى العالم

ملاحظة: (تقبل كل الإجابات الصحيحة)

الجغرافيا

الجزء الأول

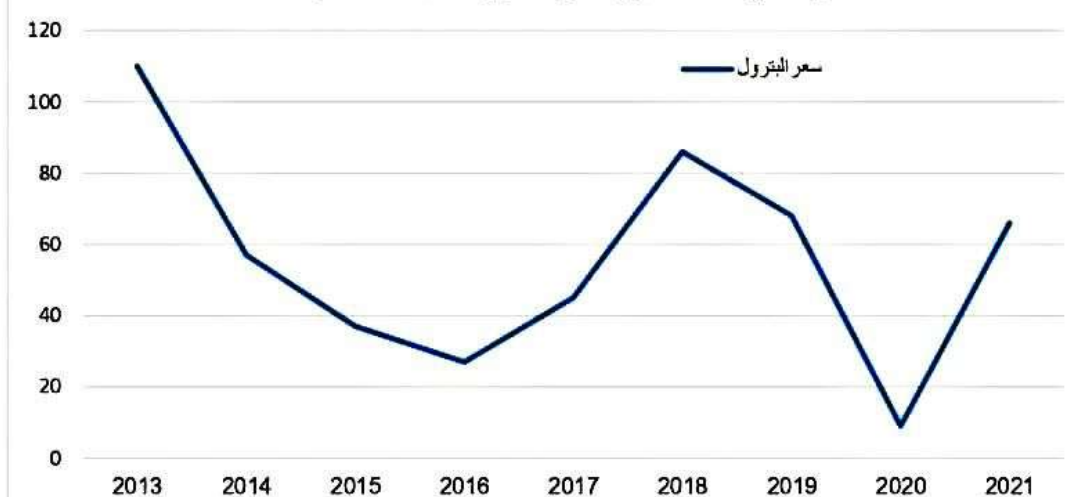
1-شرح ما تحته خط في النص

- التجارة الالكترونية: هي بيع وشراء السلع والخدمات عبر الانترنت
- البلدان النامية: هي الدول المتخلفة السائرة في طريق النمو والمستقلة حديثا مثل الدول النفطية
- الشركات المتعددة الجنسيات: هي شركات رأسمالية احتكارية مقرها الدولة الام ولها فروع في عدة دول

2-

■ رسم المنحنى البياني

منحنى بياني يمثل تطور سعرا لبتترول بين 2013 و 2021



الجزء الثاني:

0.5 مقدمة: تعتبر منطقة الشرق وجنوب شرق آسيا قطبا اقتصاديا جديدا وهو مثال للنمو الاقتصادي الذي فرض نفسه على الساحة العالمية فما هي عوامل القوة الاقتصادية للمنطقة؟ وما هي مظاهر تحول المنطقة لقطب اقتصادي؟

1-عوامل القوة الاقتصادية للمنطقة

- 1.5 أ- السياسية: الاستقرار السياسي
- 0.4 ب- الاقتصادية: ضخامة رؤوس الأموال وقوة الاستثمار، التطور التكنولوجي، التكتل والتعاون الإقليمي (الآسيان) مع تقليد النموذج الياباني، توفر البنية التحتية.
- 1.5 ج- البشرية: وفرة الموارد البشرية المؤهلة، الاستثمار الجيد للعنصر البشري، روح التحدي للسكان واتساع السوق الاستهلاكية وسهولة الاندماج في العولمة

2-مظاهر تحول المنطقة لقطب اقتصادي

- 0.5 ■ المساهمة الكبيرة في التجارة العالمية
- غزوها للأسواق العالمية
- احتلال دول المنطقة المراتب الأولى في الكثير من الصناعات
- المنافسة التجارية القوية مع الو.م.ا ، الصين ، اليابان و جنوب شرق آسيا.
- ضخامة الاستثمارات الخارجية
- 0.5 ■ تحقيق الموازين التجارية لدول المنطقة فائض في اغلب السنوات
- إن قوة منطقة شرق وجنوب شرق آسيا مرتبطة أساسا بحسن استثمار العنصر البشري

ملاحظة: (تقبل كل الإجابات الصحيحة)

الموضوع الأول:

التاريخ:

الجزء الأول: (06 نقاط)

((...استطاعت أمريكا أن تحقق هيمنة كاملة على شؤون العالم فنجد أنها استطاعت تحقيق العديد من الانجازات الفائقة مثل مشروع مارشال وتأسيس حلف الناتو وإنشاء الأمم المتحدة...)).

المرجع: روبرت كالجان لماذا لن تتراجع الهيمنة الأمريكية في العالم.

1- اشرح ما تحته خط في النص.

2- عرف بالشخصيات التالية : - هواري بومدين - ميخائيل غورباتشوف - جاك سو ستيل.

الجزء الثاني: (04 نقاط)

حققت الثورة التحريرية المجيدة بين 1956-1958م انتصارات هامة على الصعيد الداخلي فعمدت فرنسا إلى الاستجداد بشارل ديغول قصد القضاء على الثورة وتخليصها من مشاكلها الداخلية.

المطلوب: انطلاقا من الفقرة واعتمادا على ما درست، اكتب مقالا تاريخيا تبين فيه:

1_ الانتصارات الداخلية التي حققتها الثورة ما بين (1956-1958) سياسيا وعسكريا.

2_ مشاريع شارل ديغول السياسية للقضاء على الثورة.

1- "... وقعت الجزائر في افريل 2002 اتفاق شراكة مع الاتحاد الأوروبي... بهدف تعزيز حرية تنقل معظم السلع الصناعية في ما بينهما وإلغاء الحواجز الجمركية...".

المرجع: مستقبل الانفتاح التجاري في الجزائر - ص 7 مراد يونس وعبد الحميد مرغيت.

المطلوب:

- عرف ما تحته خط في النص.

2- إليك الجدول التالي الذي يمثل كمية إنتاج بعض المحاصيل الزراعية بالولايات المتحدة الأمريكية ونسبة مساهمتها ومرتبتهما في الإنتاج العالمي سنة 2016.

المرتبة العالمية	نسبة المساهمة في الإنتاج العالمي %	كمية الإنتاج (مليون طن)	المحاصيل
05	08.3	62.8	القمح
01	36.2	384.7	الذرة
01	35	117.2	الصوجا
03	13.7	3.6	القطن
03	12	33.4	قصب السكر
03	08.6	10	الحمضيات

المصدر: تقرير منظمة الأغذية والزراعة 2017

المطلوب:

1/ مثل نسب المساهمة في الإنتاج العالمي بأعمدة بيانية بمقياس رسم: 1 سم ← 1 عمود . 1 سم ← 5% .

2/ علق على المعطيات الواردة في الجدول في نقاط مركزة.

الجزء الثاني: 04 نقاط.

صرح أحد منظري الوحدة الأوروبية سنة 1943 بما يلي: "...البلدان الأوروبية ضيقة جدا لا يمكنها ذلك من تحقيق الرخاء والتنمية لشعوبها إلا إذا شكلت هذه البلدان اتحادا وكيانا اقتصاديا أوروبيا مشتركا".

المصدر: جون موني لأجل أوروبا - ص 676.

التعليمات: انطلاقا من التصريح واعتمادا على ما درست اكتب مقالا جغرافيا تبين فيه ما يلي:

1- دوافع التكتل الاقتصادي لأوروبا.

2- العوامل الطبيعية؛ البشرية والمادية المساهمة في القوة الاقتصادية لإقليم الراين.

الموضوع الثاني:

التاريخ:

الجزء الأول: (06 نقاط)

1/ ((ما إن استلم الجنرال ديغول الحكم لأول مرة في جوان 1958 ...حتى جاهر بنواياه الاستعمارية العدوانية ...ومارس سياسة إصلاحات اقتصادية واجتماعية عبر مشروع قسنطينة للتنمية في اكتوبر 1958 لاغراء الجزائريين... عارضا مشروع سلم الشجعان... لكن الحكومة المؤقتة الجزائرية فضحت النوايا والأغراض السياسية لمشروع قسنطينة ...فواصل ديغول سياسة الضغط العسكري على الثورة عبر مخطط شال للقضاء على الثورة ورفض التفاوض مع قادتها...)).

المرجع: الكتاب المدرسي قديم س3- ص339 بتصرف.

1- عرف ما تحته خط في النص.

2- أكمل الجدول التالي :

الحدث	تاريخه
استقلال الهند عن التاج البريطاني	
إضراب الثمانية أيام أثناء الثورة الجزائرية	
	1991-07-01

الجزء الثاني: 04 نقاط

شهدت الفترة التي امتدت أواخر الثمانينات وأوائل التسعينات مجموعة من التحولات الدولية الكبرى؛ كان أبرزها تفكك المعسكر الشيوعي وانتهاء الحرب الباردة وزوال القطبية الثنائية وبروز عالم جديد أحادي القطب بقيادة الولايات المتحدة الأمريكية.

التعليمة: من معلوماتك والفقرة اكتب مقالا تاريخيا تبرز فيه:

1- عوامل تفكك المعسكر الشرقي.

2- الوسائل التي تستخدمها الو.م. أ لفرض النظام الدولي الجديد.

1_ "...سواء تم جمع المال على مستوى البنوك أو البورصات... فإن رؤوس الأموال تعرف استثمارا متزايدا ومستمرًا من خلال نشاطات موجودة ومستحدثة دون أن يكون أي حاجز بالنسبة لتنقلها بل هناك ما يشجع ذلك "... .
المرجع: الكتاب المدرسي ص 3 - جغرافيا ص 28.

المطلوب: - عرف ما تحته خط في النص.

2* اليك جدولا يمثل نسب المبادلات التجارية للجزائر حسب المناطق لسنة 2011.

المنطقة	الاتحاد الأوروبي	أمريكا الشمالية والجنوبية	آسيا	إفريقيا والوطن العربي	بقية العالم
الصادرات %	50.76	26.51	7.35	3.46	11.92
الواردات %	52.10	14.04	21.8	6.41	5.65

المرجع: الديوان الوطني للإحصاء 2012.

المطلوب:

1/ مثل معطيات الجدول (الصادرات والواردات) في دائرتين نسبيتين (نصف القطر = 3 سم) .

2/ علق على الرسم.

الجزء الثاني: 04 نقاط

يتسم المجال العالمي بتفاوت واضح في التقدم الاقتصادي والاجتماعي وبتراكيب ثنائية شمال متقدم وجنوب متخلف.

المطلوب: انطلاقا من العبارة ومما درست اكتب مقالا جغرافيا تبرز فيه ما يلي:

1* مظاهر تقدم عالم الشمال الاقتصادية.

2* المعايير الاقتصادية المعتمدة في التصنيف.

مشروع مارشال: ينسب إلى كاتب الدولة الأمريكي جورج مارشال. أعلن عنه في 5 جوان 1947، وهو في الظاهر مشروع لمساعدة أوروبا ماليا في شكل هبات وفروض من أجل إعادة بناء أوروبا ولقد وجه إلى كامل الدول الأوروبية بما فيها الاتحاد من أجل إظهار هذا المشروع فيتضمن دعم أوروبا من أجل تصريف المنتجات الأمريكية وربط الاقتصاد الأوروبي بالاقتصاد الأمريكي ومحاولة جر الاتحاد السوفيتي إلى التخلي عن الشيوعية....

الحلف الأطلسي (الناتو): حلف عسكري أنشأ في 04 أفريل 1949 ويضم الدول الغربية الرأسمالية بزعامة الو م أ ويهدف إلى مواجهة القوى والأفكار الشيوعية وضرب الحركات التحررية مقر قيادته بروكسل عاصمة بلجيكا.

الأمم المتحدة: تنظيم سياسي دولي يضم جميع الدول المستقلة ظهر عقب مؤتمر سان فرانسيسكو 1945/10/24 بهدف تنظيم العلاقات السياسية والاقتصادية والمالية والاجتماعية بين مختلف دول العالم

* الشخصيات:

هوارى بومدين (عبد بوخروية) 1932-1978: مناضل ورجل دولة قائد الولاية الخامسة 1958 ثم قائدا الأركان 1960. وزير للدفاع بعد استقلال الجزائر. نظم العملية التي أطاحت بين بلة والتي حملت اسم التصحيح الثوري في 19 جوان 1965. وأصبح رئيسا للدولة ومرسى أسسها السياسة والاجتماعية والاقتصادية اشتهر بنشاطه في إطار حركة عدم الانحياز وأحد أقطابها توفي في 27 ديسمبر 1978

* غوربتشوف ميخائيل: (1931 - على قيد الحياة): رئيس الاتحاد منذ مارس 1985. اشتهر بسياسة البريسترويكا والغلاسنوست يعتبر في الغرب الصانع الحقيقي لسياسة الوفاق الدولي منح جائزة نوبل للسلام 1990 وقع العديد من الاتفاقيات التي ستؤدي إلى إنهاء الحرب الباردة.

جاك سومنتال 1912: من أصول يهودية أثناء الثورة عين واليا عاما على الجزائر في 1958 وهو صاحب مشروع سومتال نصب نفسه مدافعا عن "الجزائر الفرنسية" وسياسة الإدماج عينة ديغول سنة 1958 بوزارة الإعلام ثم الوزارة المنتدبة للصحرَاء

الجزء الثاني: 04ن

المقدمة: استطاعت الثورة التحريرية 1954-1962 تحقيق انتصارات هامة وافشل كل المخططات الفرنسية خاصة في عهد الجنرال ديغول

* العرض:

1- الانتصارات الداخلية التي حققتها الثورة ما بين 1956-1958.

أ- السياسية:

- تزويد الثورة بهيكل تنظيمية قرارات مؤتمر الصومام
- نجاح اضراب 8 ايام سنة 1957.
- نجاح التنظيم الجماهيري والثقاف الشعب حول الثورة. (العمال..

ب- العسكرية:

- شمولية الثورة لمختلف أنحاء الوطن.
- نجاح التنظيم العسكري لمؤتمر الصومام (تنظيم الجيش...).
- إلحاق خسائر بشرية ومادية بالجيش الفرنسي.
- 2- مشاريع ديغول السياسية والعسكرية للقضاء على الثورة: 0,7,7
- * الاستفتاء حول دستور الجمهورية ف الخامسة 1958/07/28.

* مشروع قسنطينة 1958/10/03.

* مشروع سلم الشجعان 1958/10/23.

* خطاب تقرير المصير 1959/09/16.

* خلق القوة الثالثة.

* طرح فكرة تقسيم الجزائر عرقيا وجغرافيا من خلال مشاريع التقسيم.

* الخاتمة: نجاح الثورة في تحقيق أهدافها بفضل استراتيجيتها المحكمة والمقابل فشل سياسة ديغول رغم الفرق في موازين القوى.

* المصطلحات:

* شراكة: هي التعاون بين دولتين أو أكثر في مختلف المجالات الاقتصادية لتحقيق أهداف مشتركة وفق اتفاقيات تحفظ لكل طرف مصالحه مثل توقيع الجزائر لاتفاقية الشراكة مع الاتحاد 2002

* الاتحاد الأوروبي: تكتل سياسي واقتصادي تأسس عام 1957 من قبل 6 دول تحت اسم المجموعة الاقتصادية الأوروبية (السوق الأوروبية المشتركة) ثم أخذ في التوسع ليتحول إلى الاتحاد الأوروبي بعد معاهدة ماستريخت 1992.

* إلغاء الحواجز الجمركية: هو رفع القيود الضريبية التي تفرضها الدولة على وارداتها من السلع والبضائع الخارجية (الأجنبية) بهدف تعزيز التعاون والتبادل

* الرسم البياني: الانجاز - العنوان - المفتاح.

1,5 2,5 3,5

* التعليق على الجدول: 02ن

- تباين نسبة مساهمة الو م أ في الإنتاج العالمي لبعض المحاصيل
- احتلالها مراتب أولى عالمية في العديد من المحاصيل.
- تنوع المحاصيل الزراعية بين غذائية وتجارية.
- هيمنة الو م أ على الإنتاج العالمي لبعض المحاصيل مثل الذرة والصوجا والقمح

* الجزء الثاني:

مقدمة: التكتل ضرورة حتمية أملتأ ظروف أوروبا بعد مخلفات ح ع 2.

العرض:

1- دوافع التكتل الاقتصادي لأوروبا.

- * تحقيق التكامل الاقتصادي بسبب التفاوت في الموارد
- * توحيد الجهود والاستغلال العقلاني للإمكانيات
- * استرجاع مكانتها والتخلص من الهيمنة الأمريكية
- * مساعدة دول أوروبا الشرقية في التخلص من الآثار السلبية للأنظمة الشيوعية (البطالة - الفقر...)

* مواجهة المنافسة الخارجية (اليابان- الو م أ) وتوسيع السوق الاستهلاكية.

* توسيع مجال الاستثمارات خاصة نحو أوروبا الشرقية

* تحقيق الرفاهية والتنمية للشعوب الأوروبية.

2- عوامل قوة اقليم الراين

* الطبيعية:-

- الموقع الاستراتيجي
- ملائمة المناخ
- وجود نهر الراين ونوره
- الانبساط ووفرة السهول وخصوبة التربة
- وفرة الثروات الطبيعية

ب/ البشرية المادية:

- القوة البشرية (ضخامة عدد السكان - اليد العاملة- سوق استهلاكية واسعة...)

- وفرة رؤوس الأموال ووجود البورصات

- وفرة مراكز البحث العلمي

- قوة البنية التحتية (طرق مرافق - سكك حديدية.....)

* الخاتمة: التكتل مكن أوروبا من إعادة بناء اقتصادها وحولها إلى قطب عالمي

البورصة : سوق رسمية لتداول الأسهم والسندات وتحديد أسعار المواد الاستراتيجية كالمواد الغذائية والأولية وأسعار صرف العملات..

(1)

رؤوس الأموال : (رسميل) هي الموارد المختلفة التي يمكن استخدامها في العملية الإنتاجية أو الاستثمار لغرض تحسين إنتاجية العمل وينتج رأس المال من تراكم فائض عمل سابق .

(1)

الاستثمار : تمثل مجموع الأموال المنفقة لغرض إنشاء رأس المال بمعنى توظيف المال في شراء المعدات والآلات والعقارات لغرض الإنتاج. والاستثمار يأخذ شكلين مباشر ويكون بواسطة التمويلات الذاتية أو عن طريق الشراكة أو عن طريق الاقتراض . و غير مباشر حيث تقوم به الدولة مثل إقامة الطرقات العامة أو مدارس .

2-الرسم البياني: الانجاز العنوان - المفتاح.

1, 2, 3, 4, 5, 6, 7, 8, 9, 10, 11, 12, 13, 14, 15, 16, 17, 18, 19, 20, 21, 22, 23, 24, 25, 26, 27, 28, 29, 30, 31, 32, 33, 34, 35, 36, 37, 38, 39, 40, 41, 42, 43, 44, 45, 46, 47, 48, 49, 50, 51, 52, 53, 54, 55, 56, 57, 58, 59, 60, 61, 62, 63, 64, 65, 66, 67, 68, 69, 70, 71, 72, 73, 74, 75, 76, 77, 78, 79, 80, 81, 82, 83, 84, 85, 86, 87, 88, 89, 90, 91, 92, 93, 94, 95, 96, 97, 98, 99, 100

3-التعليق على الرسم:

*التباين في نسب المبادلات.

*معظم مبادلات الجزائر تتم مع العالم المتقدم.

*ارتفاع نسبة المبادلات مع الاتحاد الأوروبي.

*ضعف المبادلات التجارية مع العالم 3 خاصة أفريقيا والوطن العربي.

*أكبر نسبة من الواردات مع الصين وتليها الاتحاد.

*الجزء الثاني:

المقدمة:التخلف ظاهرة اقتصادية واجتماعية ساهمت فيها العديد من العوامل وانعكست سلبا على دول الجنوب في ظل هيمنة الشمال

1, 2, 3, 4, 5, 6, 7, 8, 9, 10, 11, 12, 13, 14, 15, 16, 17, 18, 19, 20, 21, 22, 23, 24, 25, 26, 27, 28, 29, 30, 31, 32, 33, 34, 35, 36, 37, 38, 39, 40, 41, 42, 43, 44, 45, 46, 47, 48, 49, 50, 51, 52, 53, 54, 55, 56, 57, 58, 59, 60, 61, 62, 63, 64, 65, 66, 67, 68, 69, 70, 71, 72, 73, 74, 75, 76, 77, 78, 79, 80, 81, 82, 83, 84, 85, 86, 87, 88, 89, 90, 91, 92, 93, 94, 95, 96, 97, 98, 99, 100

العرض:

*1 مظاهر تقدم عالم الشمال الاقتصادية.

* ضخامة الإنتاج الزراعي والصناعي وارتفاع المساهمة في التجارة العالمية 80%.

* الاستهلاك الواسع للمواد الأولية (طاقة معادن)

* سيطرته على 85 % من الثروة العالمية .

* ارتفاع الدخل الفردي والقومي وتحقيق الرفاهية.

* امتلاكه شركات عملاقة مهيمنة على النشاطات الاقتصادية العالمية.

* ضخامة الاستثمارات الداخلية والخارجية.

* قوة البنية التحتية (الهياكل القاعدية)

1-المعايير الاقتصادية المعتمدة في التصنيف :

* الناتج الوطني الخام والناتج الداخلي الخام

*الدخل الفردي

* الهياكل القاعدية الصناعية (استخراجية- تحويلية)

* نسبة المساهمة في التجارة العالمية

*نسبة الأيدي العاملة في القطاعات الثلاث (زراعة، صناعة، خدمات)

*قيمة العملة، البورصات والاستثمارات

خاتمة: ان ظاهرة التخلف ليست حتمية تاريخية بل هي واقع يمكن تغييره بتوفر الارادة و التخطيط والاستغلال الجيد لامكانيات المتوفرة.

1, 2, 3, 4, 5, 6, 7, 8, 9, 10, 11, 12, 13, 14, 15, 16, 17, 18, 19, 20, 21, 22, 23, 24, 25, 26, 27, 28, 29, 30, 31, 32, 33, 34, 35, 36, 37, 38, 39, 40, 41, 42, 43, 44, 45, 46, 47, 48, 49, 50, 51, 52, 53, 54, 55, 56, 57, 58, 59, 60, 61, 62, 63, 64, 65, 66, 67, 68, 69, 70, 71, 72, 73, 74, 75, 76, 77, 78, 79, 80, 81, 82, 83, 84, 85, 86, 87, 88, 89, 90, 91, 92, 93, 94, 95, 96, 97, 98, 99, 100

مشروع قسنطينة: مشروع اقتصادي اجتماعي خماسي [1959, 1963] ظهر في 1958/10/03 . تبنته الحكومة الفرنسية في عهد ديغول ، ظاهره إصلاح الوضع الاجتماعي والاقتصادي ، وباطنه عزل الشعب عن الثورة وخلق قوة ثالثة .

1, 2, 3, 4, 5, 6, 7, 8, 9, 10, 11, 12, 13, 14, 15, 16, 17, 18, 19, 20, 21, 22, 23, 24, 25, 26, 27, 28, 29, 30, 31, 32, 33, 34, 35, 36, 37, 38, 39, 40, 41, 42, 43, 44, 45, 46, 47, 48, 49, 50, 51, 52, 53, 54, 55, 56, 57, 58, 59, 60, 61, 62, 63, 64, 65, 66, 67, 68, 69, 70, 71, 72, 73, 74, 75, 76, 77, 78, 79, 80, 81, 82, 83, 84, 85, 86, 87, 88, 89, 90, 91, 92, 93, 94, 95, 96, 97, 98, 99, 100

سلم الشجعان: هو عبارة عن مناورة سياسية و حرب نفسية أطلقها الجنرال ديغول يوم 23 - 10 - 1958 تقضي باستسلام الثوار وتسليم أسلحتهم مقابل ضمان حريتهم وسلامتهم وعدم متابعتهم و قد هدف إلى إفراغ الثورة من محتواها و تمزيق صفها .

مخطط شال: عبارة عن مجموعة من الخطط العسكرية التي وضعها الجنرال موريس شال قائد القوات الفرنسية في مطلع سنة 1959 تتضمن عمليات منسقة برية وبحرية وجوية استهدفت مختلف المناطق الواحدة تلوى الأخرى.

*اكمال الجدول:

الحـدث	تاريخه
استقلال الهند عن التاج البريطاني	1947/08/15
إضراب 8 أيام	1957/2/4 إلى 1/28
حل حلف وارسو	1991/7/1

1, 2, 3, 4, 5, 6, 7, 8, 9, 10, 11, 12, 13, 14, 15, 16, 17, 18, 19, 20, 21, 22, 23, 24, 25, 26, 27, 28, 29, 30, 31, 32, 33, 34, 35, 36, 37, 38, 39, 40, 41, 42, 43, 44, 45, 46, 47, 48, 49, 50, 51, 52, 53, 54, 55, 56, 57, 58, 59, 60, 61, 62, 63, 64, 65, 66, 67, 68, 69, 70, 71, 72, 73, 74, 75, 76, 77, 78, 79, 80, 81, 82, 83, 84, 85, 86, 87, 88, 89, 90, 91, 92, 93, 94, 95, 96, 97, 98, 99, 100

** الجزء الثاني:

*مقدمة : تطرح إشكالية العالم من القطبية الثانية إلى القطبية الأحادية العرض:

1-عوامل تفكك المعسكر الشيوعي:

أ- عوامل داخلية

*سياسيا: - طبيعة النظام السياسي المركزي و غياب الديمقراطية

- الأزمات السياسية داخل وخارج المعسكر ش(الخلاف مع الصين-

أفغانستان

- فشل إصلاحات غوربا تشوف (البرو سترويك و الغلاسنوست) منذ

1985

- تفكك الديمقراطيات الشعبية بأوروبا الشرقية

* اقتصاديا:فشل النظام الاقتصادي الاشتراكي و عجزه عن مناصرة

التطورات

- ضخامة نفقات التسلح و التدخلات العسكرية

- ضعف حلفاء إس و الاعتماد عليه

اجتماعيا: تدهور الوضع الاجتماعي-انخفاض المستوى المعيشي- غ العدالة..

ب- عوامل خارجية

- دور الو.م. أ و المعسكر الغربي في حصاره و إثارة المعارضة داخله

ودعمها

2- الوسائل التي تستخدمها الو.م. أ لفرض النظام الدولي الجديد.... 1985

- المنظمات الدولية : الأمم المتحدة و ما يتبعها من أجهزة

- المؤسسات المالية و الاقتصادية: و تتمثل في صندوق النقد الدولي -

البنك العالمي - منظمة التجارة العالمية - الشركات م.ج

- العسكرية : ممثلة في حلف الأطلسي - الناتو

- المنظمات غير الحكومية: (. الصليب الأحمر - منظمة حقوق الإنسان...)

- وسائل الإعلام

الخاتمة:توجيه الو.م.أ للعالم سياسيا واقتصاديا بعد انهيار المعسكر الشيوعي

بما يحقق مصالحها .

1, 2, 3, 4, 5, 6, 7, 8, 9, 10, 11, 12, 13, 14, 15, 16, 17, 18, 19, 20, 21, 22, 23, 24, 25, 26, 27, 28, 29, 30, 31, 32, 33, 34, 35, 36, 37, 38, 39, 40, 41, 42, 43, 44, 45, 46, 47, 48, 49, 50, 51, 52, 53, 54, 55, 56, 57, 58, 59, 60, 61, 62, 63, 64, 65, 66, 67, 68, 69, 70, 71, 72, 73, 74, 75, 76, 77, 78, 79, 80, 81, 82, 83, 84, 85, 86, 87, 88, 89, 90, 91, 92, 93, 94, 95, 96, 97, 98, 99, 100

على المترشح أن يختار أحد الموضوعين

الموضوع الأول

يحتوي الموضوع الأول على 3 صفحات من الصفحة 1 من 5 إلى الصفحة 3 من 5.

التاريخ :

الجزء الأول: (06 نقاط)

1) .. بانهايار المعسكر الشرقي و مجارة روسيا لوجهات النظر الأمريكية، لم يعد هناك صراع بين الشرق والغرب، وإنما بين الشمال والجنوب، وتحول العالم من الثنائية القطبية إلى الأحادية القطبية أو النظام الجديد (New Order)، الذي أعطى مسارا جديدا للعلاقات الدولية، سهل للوم أ احتواء دور ومهام الهيئات الدولية كالأمم المتحدة ومجلس الأمن لإضفاء الشرعية الدولية على التدخل في الشؤون الداخلية للدول خاصة دول العالم الثالث ...

الكتاب المدرسي، السنة الثالثة ثانوي، تاريخ ص: 124 - يتصرف -

المطلوب: اشرح ما تحته خط في النص.

2) حدد على الخريطة المرافقة أربع حركات تحريرية قامت في العالم الثالث سبق دراستها.

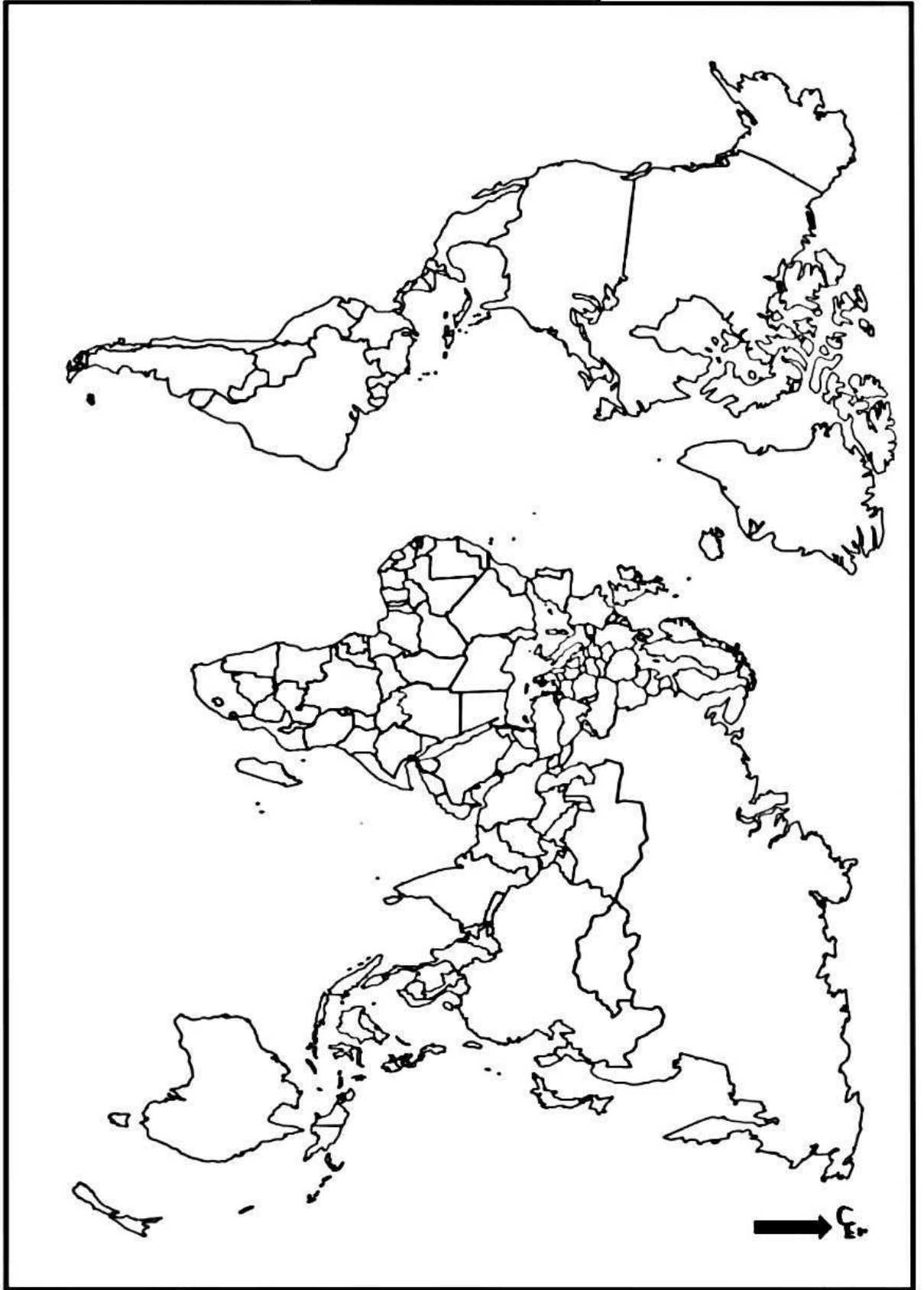
الجزء الثاني: (04 نقاط)

سعيها منها لتجاوز السياسة الفرنسية وتكليل الصعوبات التي واجهتها الثورة لجأت جبهة التحرير الوطني إلى عقد مؤتمر الصومام في 20 أوت 1956 لوضع استراتيجية تضمن استمرارية الثورة ونجاحها. مما ولد عدة ردود فعل من قبل الإدارة الاستعمارية .

المطلوب: انطلاقا من العبارة واعتمادا على ما درست أكتب مقالا تاريخيا تبرز فيه:

1- مظاهر التحول في استراتيجية الثورة بعد مؤتمر الصومام.

2- ردود فعل الاستعمار على قرارات مؤتمر الصومام بين 1956 و 1958.



ينجز العمل المطلوب على الخريطة وتعاد مع أوراق الإجابة

الجغرافيا

الجزء الأول : (06 نقاط)

- 1 «... يمثل الاتحاد الأوروبي قطبا من أقطاب الثالوث العالمي (La Triade)، يضاهي قوة الوم أ من حيث الوزن الاقتصادي ... يستقطب أكثر من نصف الاستثمار الأجنبي ...»
الكتاب المدرسي ص 106 - بتصرف -

المطلوب: اشرح ما تحته خط في النص.

2- إليك جدول يمثل مناطق التبادل التجاري مع الجزائر 2018

الدول/المناطق	الاتحاد الأوروبي	آسيا	أمريكا الجنوبية	الدول العربية	إفريقيا+ أوقيانوسيا	بقية العالم	دول
نسبة التبادل	58%	13%	7%	5.6%	3%	13.4%	

المصدر: المركز الوطني للإعلام الآلي والإحصاء (الجمارك) 2019

المطلوب: مثل معطيات الجدول في دائرة نسبية وفق مقياس رسم نق $R = 4$ سم

الجزء الثاني: (04 نقاط)

الأزمة الأوكرانية الحالية أثبتت الأهمية البالغة للغاز الطبيعي كونها تحولت إلى ورقة ضغط في العلاقات الدولية باعتبارها مادة طاقة هامة لا يمكن الاستغناء عنها في ظل وجود عدة عوامل مؤثرة في إنتاجها و تحديد أسعارها حيث عرفت هذه الأخيرة ارتفاعا مضاعفا اثر حتى على قدرات الدول الكبرى في توفيره لسكانها..

المطلوب: انطلاقا من العبارة و اعتمادا على ما درست أكتب مقالا جغرافيا تبين فيه ما يلي:

- العوامل المتحركة في تحديد أسعار الغاز الطبيعي
- أهمية الغاز الطبيعي

انتهى الموضوع الاول

الموضوع الثاني

يحتوي الموضوع الثاني على 02 صفحات من الصفحة 4 من 5 الى الصفحة 5 من 5.

التاريخ :

الجزء الأول: (06 نقاط)

(1) " ... بمقتضى تفويض المجلس الوطني للثورة الجزائرية ، وباسم الحكومة المؤقتة للجمهورية الجزائرية وقعنا في الساعة الخامسة والنصف من عشية اليوم على اتفاق مع الممثلين المفاوضين للحكومة الفرنسية وبمقتضى هذا الاتفاق العام المبرم- اتفاق وقف إطلاق النار- يدخل وقف إطلاق النار حيز التنفيذ بكامل التراب الوطني يوم الاثنين 19 مارس في منتصف النهار بالتدقيق"

المرجع: تصريح كريم بلقاسم إثر التوقيع على اتفاقية إيفيان.

المطلوب: اشرح ما تحته خط في النص .

(2) أكمل الجدول التالي .

التاريخ	الحدث
	بداية العدوان الثلاثي على مصر (إسرائيل)
22 أكتوبر 1956	
15 أوت 1947	

الجزء الثاني: (04 نقاط)

تميز النظام الدولي بعد الحرب العالمية الثانية بانقسام العالم إلى شرق شيوعي وغربي رأسمالي وأصبح التوازن في العلاقات الدولية عمى الصيغة التي تحقق لكل قطب الأهداف التي رسمها لمشروعه ووسائل تنفيذ هذا المشروع مما انعكس سلبا على واقع العلاقات الدولية.

المطلوب: انطلاقا من العبارة واعتمادا عمى ما درست أكتب مقالا تاريخيا تبرز فيه:

1. المعايير التاريخية والسياسية التي شكلت العالم بعد الحرب العالمية الثانية

2. انعكاسات النظام الدولي على العلاقات الدولية.

1) "... في الوقت الذي تعتبر فيه النقود أهم الأدوات المالية إلا أنها لا تكفي لتطوير المبادلات وتحقيق النمو الاقتصادي لذلك يجب ان يصاحبها عدد من الأدوات المالية الأخرى من أسهم و**سندات** وأذونات و أوراق تجارية ... ساعد ظهور الأسهم على تكوين الشركات الكبرى وتجميع رؤوس الأموال الكافية لها ولذلك فان ظهور مثل هذه الأدوات المالية كان حاسما في تطور المجتمعات الحديثة..."

المرجع: حازم البيلاوي النظام الاقتصادي الدولي المعاصر.

المطلوب: اشرح ما تحته خط في النص.

2) إليك جدول يمثل قيم المبادلات التجارية لبعض الدول المتقدمة و النامية سنة 2016 (مليار دولار)

الدول	الو. م. أ	ألمانيا	اليابان	فرنسا	السعودية	الهند	البرازيل
قيمة المبادلات	2636.8	1743.7	1109.8	958.1	240.8	229.9	195.9

المرجع: الصورة الاقتصادية للعالم 2017

المطلوب: علق على المعطيات الإحصائية الواردة في الجدول.

الجزء الثاني: (04 نقاط) .

تمتلك دول آسيا شرق و جنوب شرق آسيا نموذج تنمية قائم على الانفتاح على الاقتصاد العالمي وتوجه اقتصادها نحو الطرق البحرية، مما يتطلب تهيئة الواجهة البحرية، بما يمكن من تزايد و نمو المبادلات التي تساعد على النمو الاقتصادي للمنطقة، وتكون بذلك آسيا ملتقى الطرق التجارية العالمية. وهذا في الوقت الذي تواجهها عدة تحديات "

المطلوب: انطلاقا من الفقرة و اعتمادا على ما درست، اكتب مقالا جغرافيا تبين فيه :

1_ عوامل التنمية (الطبيعية والبشرية) في شرق و جنوب شرق آسيا.

2_ مظاهر تحول المنطقة إلى قطب اقتصادي.

انتهى الموضوع الثاني

الإجابة النموذجية لموضوع امتحان : دورة: ماي 2023
اختبار مادة: التاريخ والجغرافيا الشعبة: علوم تجريبية + رياضيات + تقني رياضي المدة: 3 سا و 30 د

****الموضوع الأول****
التاريخ:

الجزء الأول :

01- شرح ما تحته خط في النص

المعسكر الشرقي: مصطلح سياسي أطلق على دول الكتلة الشرقية الشيوعية خلال فترة الحرب الباردة 1945-1989 بقيادة الاتحاد السوفييتي ويضم أوروبا الشرقية (ألمانيا الشرقية، بولونيا، المجر، بلغاريا، تشيكوسلوفاكيا...) والصين والفيتنام وكوبا وكوريا الشمالية.
الأحادية القطبية: نظام دولي ساد العلاقات الدولية بعد تصدع المعسكر الشيوعي 1989 تحكمه دولة محورية مهيمنة (الو م ا) تسير في فلكها عدة دول تؤيدها في مواقفها
للعلاقات الدولية: مجموعة التفاعلات التعاونية والصراعية التي تمت بين مختلف القوى السياسية الفاعلة في الساحة السياسية العالمية (الو م ا وحلفائها، الاتحاد السوفياتي وحلفائه) بعد الحرب العالمية الثانية في إطار الحرب الباردة 1945-1989

02- الخريطة: التحديد على الخريطة المرافقة أربع حركات تحريرية قامت في العالم الثالث سبق دراستها.

الانجاز.....02 العنوان0.5 المفتاح0.5
الحركات التحريرية (مصر. الجزائر. الهند. الفيتنام. كوبا)

الجزء الثاني

مقدمة: يمثل مؤتمر الصومام نقطة تحول في مسيرة الثورة التحريرية خاصة وانه هيكّل ونظم لثورة بمايسمح لها بتوفير ظروف نجاح الثورة (طرح الاشكالية) 0.5

أ- مظاهر التحول في إستراتيجية الثورة بعد مؤتمر الصومام: 0.25*6

- ☞ تكوين مؤسسات قيادية للثورة على المستوى الوطني(المجلس الوطني للثورة لجنة التنسيق و التنفيذ).
- ☞ إقرار مبدأ القيادة الجماعية.
- ☞ إقرار دور أولوية الداخل على الخارج و السياسي على العسكري.
- ☞ تفعيل دور الدبلوماسية الجزائرية في المحافل الدولية للتعرف بالقضية الجزائرية.
- ☞ تنظيم جيش التحرير على غرار الجيوش النظامية(رتب عسكرية- بزة عسكرية) و شمولية الثورة(الولاية السادسة).
- ☞ هيكلة وتنظيم الثورة = ارساء قواعد الدولة الجزائرية الحديثة
- ☞ انشاء الجناح السياسي للثورة=GPRP الاعتراف الدولي بالحكومة المؤقتة.

ب- رد فعل الاستعمار على قرارات مؤتمر الصومام بين 1956-1958.

- زيادة وتيرة العنف و القمع تجاه الشعب الجزائري (المحتشدات- المناطق المحرمة- الخطوط المكهربة...)
- القرصنة الجوية و اعتقال قادة الثورة الخمس في 1956/10/22.
- مشاركة فرنسا في العدوان الثلاثي على مصر في 1956/10/29.
- قنبلة ساقية " سيدي يوسف " بتونس في 1958/02/08.
- طرح مشاريع اغرائية (سلم الشجعان 03 أكتوبر 58/مشروع قسنطينة 23 أكتوبر 58)
- خاتمة:** أهمية قرارات مؤتمر الصومام في هيكلة و تنظيم الثورة و وانعكاس ذلك بشكل ايجابي على مسار الثورة التحرير وبالتالي تحقيق اهداف الثورة في الحرية الاستقلال 0.5

****الموضوع الأول** الجغرافيا**

الجزء الأول :

01- شرح ما تحته خط في النص

الاتحاد الأوروبي: تكتل سياسي واقتصادي يضم معظم دول القارة الأوروبية ظهرت كفكرة في 1944 ثم تجسدت في مارس 1957 تحت تسمية السوق الأوروبية المشتركة ثم المجموعة الاقتصادية ثم أصبح يسمى بالاتحاد الأوروبي منذ معاهدة ماستريخت 1992/02/07، يضم 27 دولة حاليا حقق عدة انجازات اقتصادية وهو يمثل أحد أقطاب الثلاث العالمي.

الثالث العالمي: مصطلح اقتصادي يطلق على القوى الاقتصادية الكبرى المهيمنة على الاقتصاد العالمي تضم (الاتحاد الأوروبي ، الو م أ ، منطقة شرق وج شرق آسيا خاصة اليابان)
الوزن الاقتصادي : القوة الاقتصادية التي تحتلها دول الاتحاد الأوروبي من جراء ما تملكه من موارد مختلفة وحسن توظيفها مكنها من احتلال مكانة اقتصادية عالمية

02- التمثيل البياني تمثيل معطيات الجدول في دائرة نسبية وفق مقياس رسم نق R= 4 سم

الانجاز:..... 1.5 العنوان:..... 0.5 المفتاح+المقياس:..... 0.5
العمليات الحسابية :..... 0.5

الجزء الثاني

مقدمة: يعتبر الغاز الطبيعي من أهم المصادر الطاقوية في ظل ما يلعبه من دور في توجيه السياسات الاقتصادية للدول +(الاشكالية) 0.5

أ- العوامل المتحركة في تحديد أسعار الغاز الطبيعي 0.25*6

✓ الجودة و النوعية نوعية وجودة المنتج

✓ تعرض مناطق الإنتاج لكوارث طبيعية (الفيضانات، الأعاصير، الزلازل، فصلي الشتاء والصيف...)

✓ قانون العرض والطلب (قانون السوق) = اتفاقيات المبرمة بين المصدرين والمستهلكين

✓ الاستقرار أو التوترات والاضطرابات بمناطق الإنتاج

✓ الكارتل العالمي : = منتدى الدول المصدرة للغاز

✓ الأزمات المالية والاقتصادية العالمية.

ب- أهمية الغاز الطبيعي 0.25*6

❖ مادة أولية ومصدر للطاقة = من المصادر الطاقوية الأكثر طلبا في العالم

❖ المساهمة في دفع عجلة التنمية الاقتصادية العالمية

❖ مصدر لعائدات مالية ضخمة للدول المصدرة له

❖ سلاح فعال أثناء الأزمات= وسيلة ضغط في العلاقات الاقتصادية العالمية

❖ تنشيط التجارة العالمية = زيادة حجم المبادلات التجارية

❖ رفع معدلات النمو الاقتصادي في الاقتصاد العالمي.

❖ سهولة استخراجه و استعماله ونقله = لا يسبب تلوثا للبيئة.

❖ يعطي الغاز الطبيعي سرعات حرارية أكبر من التي يعطيها البترول عند احتراقه.

❖ يستخدم كوقود للآلات الصناعية الثابتة في المصانع.

❖ يستخدم كوقود بديلا أو ثان مع البنزين في سير السيارات .

❖ يستخدم في توليد الطاقة في كثير من المصانع.

❖ يستعمل في العديد من الأعمال المنزلية (التدفئة ، الطبخ ...)

❖ يستعمل كمادة أولية في صناعة بعض المواد الكيميائية(إنتاج الأسمدة)

خاتمة: أهمية الغاز الطبيعي جعلت منه وسيلة وأداة ضغط في العلاقات الاقتصادية العالمية 0.5

****الموضوع الثاني****

التاريخ:

الجزء الأول :

01- شرح ما تحته خط في النص:

المجلس الوطني للثورة الجزائرية: الهيئة التشريعية للثورة اقره مؤتمر الصومام 1956 يتكون من 34 عضو مهمته سن القرارات وهو بمثابة الهيئة العليا السياسية التي تدير جبهة التحرير الوطني و تعمل على تحقيق مكاسب الثورة التحريرية،

الحكومة المؤقتة للجمهورية: هيئة سياسية أو تنظيم سياسي جزائري (الهيئة التنفيذية للثورة) نشأة في 19 سبتمبر 1958 م بالقاهرة برئاسة فرحات عباس لتمثيل الثورة على الصعيدين الداخلي والخارجي تمثل الجناح السياسي للثورة

وقف إطلاق النار: اتفاق تم التوصل إليه بين جبهة التحرير الوطني والإدارة الاستعمارية بعد اجراء اخر حلقة من مفاوضات إيفيان الثانية في الفترة ما بين 7-18 مارس 1962 يقتضي توقيف كلي للعمليات العسكرية دخل حيز التنفيذ في 19 مارس 1962

02- الحدث، تاريخه

بداية العدوان الثلاثي على مصر (اسرائيل) 29 أكتوبر 1956

اختطاف طائرة الزعماء الخمس 22 أكتوبر 1956

استقلال الهند وباكستان 15 أوت 1947

الجزء الثاني

مقدمة: دور الحرب العالمية الثانية في بناء نظام عالمي اثر على واقع العلاقات الدولية +(الاشكالية) 0.5

أ- المعايير التي شكلت العالم بعد الحرب العالمية الثانية

➤ استمرارية الصراع الدولي بين الشرق و الغرب على المجال الحيوي

➤ نجاح الحركات التحررية وبروز العالم الثالث

➤ بروز هيئة الأمم المتحدة كأداة لتنظيم العلاقات الدولية .

➤ تراجع القوى التقليدية وبروز قوى جديدة (الوم ا/الاتحاد السوفياتي).

ب- انعكاسات النظام الدولي (الحرب الباردة) على العلاقات الدولية.

← انقسام العالم إيديولوجيا (دول شيوعية دول رأسمالية)

← انعدام الثقة بين الدول = زيادة وتيرة السباق نحو التسلح خاصة النووي

← توتر العلاقات الدولية = زيادة العداء والتوتر (الأزمات الدولية)

← إضعاف دور هيئة الأمم المتحدة = جعلها (وسيلة في يد الدول الكبرى)

← تصادم المصالح بين الدول – انتشار الاضطرابات وعدم الاستقرار

← زيادة الأحلاف والتحالفات العسكرية.

خاتمة: انعكاسات الحرب الباردة سلبا علي واقع العلاقات الدولية خلق جو من عدم الاستقرار والتصعيد

والتوتر بين مختلف الدول والاطراف. 0.5

****الموضوع الثاني****

الجغرافيا

الجزء الأول :

01- شرح ما تحته خط في النص

المبادلات: تلك العمليات الاقتصادية التي تحدث في التجارة سواء على المستوى الدولي أو المحلي و تتمثل في الصادرات و الواردات للبضائع والخدمات المختلفة

السندات : عبارة عن أوراق مالية تثبت دائنية حاملها للمؤسسة التي أصدرتها بمعنى دليل إثبات لعملية قرض، وحامل السند يحصل على فائدة... يتم تداولها في الأسواق المالية العالمية كالبورصات

رؤوس الأموال: الموارد المالية الثابتة والمنقولة التي تستخدم للحصول على الإنتاج أو تحسينه و هي تتوفر من تراكم فائض عمل سابق.

02- التعليق على الجدول من خلال معطيات الجدول يتضح ما يلي:

- ☆ ضخامة المبادلات التجارية العالمية.
- ☆ التباين الكبير في قيمة المبادلات بين العالمين.
- ☆ تفوق قيمة المبادلات التجارية للدول المتقدمة.
- ☆ ضعف قيمة المبادلات التجارية للدول النامية = ضعف الإمكانيات
- ☆ احتلال الو.م.أ المرتبة الأولى باعتبارها أكبر قوة اقتصادية في العالم
- ☆ تنامي متسارع لاقتصاديات الصاعدة.

الجزء الثاني

مقدمة: ضخامة الإمكانيات والموارد وحسن استغلال العامل البشري اكسب منطقة شرق وجنوب شرق آسيا مكانة اقتصادية عالمية+ (الإشكالية) 0.5.

أ- عوامل التنمية في شرق وجنوب شرق آسيا :

- ☞ الموقع الاستراتيجي الهام= الإشراف على أهم المسطحات
- ☞ طول الشريط الساحلي و وفرة الموانئ
- ☞ التحكم في التكنولوجيا المتطورة = الاهتمام بالبحث العلمي
- ☞ وفرة شبكة الطرق و المواصلات= الجسور الضخمة
- ☞ طبيعة الفرد الآسيوي = الانضباط ، الإتقان، سرعة التكيف....
- ☞ دور المهاجرين في جلب رؤوس الأموال والخبرات.

ب- مظاهر تحول المنطقة إلى قطب اقتصادي :

- ⊗ ثالث قطب اقتصادي في العالم = دور الآسيان في رفع مكانة المنطقة اقتصاديا
- ⊗ احتلالها المراتب الأولى في العديد من الصناعات= صناعة السفن= كوريا ج المرتبة 1)
- ⊗ تحول الصين إلى سادس قوة اقتصادية في العالم
- ⊗ قوة زراعية كبرى في العالم (الصين المرتبة 1 في إنتاج القمح و الأرز)
- ⊗ قوة مالية ضخمة (بورصة طوكيو – هونغ كونغ – سنغافورة).

- ⊗ قوة تجارية عالمية (ضخامة الصادرات و الواردات)

خاتمة: قدرة منطقة شرق وجنوب شرق آسيا على التحول إلى قطب اقتصادي كبير في ظل ما تملكه من إمكانيات ضخمة رغم واقعها الديمغرافي 0.5

التَّارِيخُ: 2023/05/16

المُدَّة: 03 سَاعَاتٍ

المادَّة: التاريخ والجغرافيا

المستوى: 3 ع ت

امتحان البكالوريا التجريبية

على المترشح أن يختار أحد الموضوعين الآتيين.

الموضوع الأول

التَّارِيخُ: (10 ن)

الجزء الأول: (06 ن)

السند:

"...لقد أدَّى انهيار الشيوعية في الاتحاد السوفييتي وأوروبا الشرقية إلى اختلال في توازن القوة العالمية لصالح النظام الرأسمالي بقيادة أمريكا، التي بدأت تحديد المبادئ والأهداف وتقرر السياسات، بل هي مركز التفاعلات اقتصاديًا وسياسيًا وعسكريًا، وذلك عبر مؤسساتها الفاعلة فيه..".
حوليات جامعة الجزائر عدد 13، ص 190.

المطلوب:

(1) اشرح ما تحته خط.

(2) أكمل جدول الأحداث التالية:

التاريخ	الحدث
12 مارس 1947 م
.....	العدوان الثلاثي على مصر
22 أكتوبر 1956 م

(3) على خريطة العالم حدّد مواقع الدّول التالية: مالطا، تايلند، بلجيكا، كوبا.

الجزء الثاني: (04 ن)

السند الأول: جاء في ميثاق طرابلس المنبثق عن المؤتمر الذي انعقد خلال أواخر ماي إلى أوائل جوان 1962م ما يلي: " يجب و بدون تأخير علاج هذه الحالة بإيجاد العمل للبالغين و تعليم الأطفال و تنظيم مقاومة الجوع و المرض و إرجاع طعم الحياة بإعادة بناء ما تحطم على نطاق واسع ، و تراب محتل عسكريا ، وسلم مهدد بلا انقطاع ، وإدارة معادية تتجه إلى التعطيل المنظم و اقتصاد فوضوي ...يجب أن نقوي من طاقتنا و نبني بعث الدولة الجزائرية المستقلة، ذات السيادة ، الدولة التي تتيح لنا إرساء قواعد سلمية لجمهورية ديمقراطية اجتماعية ..." المصدر: مقتطف من بيان الحكومة الجزائرية المؤقتة في 18 مارس 1962

انطلاقاً من السند ومكتسباتك القبلية أكتب مقالا تاريخيا تحدد فيه:

- 1) ظروف قيام الدولة الجزائرية الفتية.
- 2) الاختيارات الكبرى التي انتهجتها الجزائر غداة الاستقلال.

مادة الجغرافيا: (10 ن)

الجزء الأول: (06 ن)

تعدُّ العملة الأوروبية الموحَّدة "الأورو" أوَّل عملة من حيث حجم التَّداول النَّقدي للعملة الصَّعبة منذ ديسمبر 2006م وثاني العملات في حجم المعاملات الماليَّة البنكيَّة بعد الدُّولار الأمريكي، وكانت دول الاتحاد الأوروبي قد نجحت في وضع عملة نقدية موحَّدة بموجب اتفاقية ما ستر يخت بهولندا في 1992/02/07م لتسهيل المبادلات التجارية البينية، منافسة الدولار، تقوية روابط الشُّعوب الأوروبيَّة، والقضاء على الهيمنة الأمريكيَّة.

المطلوب:

- 1) اشرح ما تحته خط.
- 2) عيِّن على خريطة العالم المرفقة خمس دول مصدِّرة وخمس دول مستوردة للقمح.

الجزء الثاني: (04 ن)

يعرف العالم تزايداً هائلاً للمبادلات خاصَّة السِّلَع والخدمات وتنقُّلاً واسعاً لرؤوس الأموال والإعلام ممَّا أثَّر على العلاقات الاقتصادية العالميَّة. انطلاقاً من الفقرة واعتماداً على ما درست، حرِّر مقالاً جغرافياً تبين فيه:

- 1) عوامل تزايد المبادلات في السِّلَع والخدمات ورؤوس الأموال.
- 2) مظاهر اضطراب العلاقات الاقتصادية العالمية.

الموضوع الثاني

التاريخ: (10 ن)

الجزء الأول: (06 ن)

"...كانت فترة 1945م – 1947م من أكثر المراحل دقة في العلاقات الدبلوماسية إذ اتسمت بشكل عام بالتوتر بين حلفاء الأمم في الاتفاق على مبادئ عامة تكون الأساس لتنظيم أوضاع ما بعد الحرب ... وكان عام 1947م أبعد من أن يزيل الشك وسوء الظن المتبادلين بين حلفاء الأمم إذ شهد هذا العام مبدأ ترومان الذي كان الخطوة في شطر العالم إلى معسكرين ثم برنامج مارشال ودعوة السوفييت إلى إنشاء الكومنفرم الخطوات اللاحقة في تكريس هذا الانقسام..."

المرجع: رياض عبد الصمد العلاقات الدولية في القرن 20 ج 1 ص 125 – 127

(1) عرّف ما تحته خط.

(2) عرّف الشخصيات التالية:

جوزيف ستالين - ميخائيل غورباتشوف - جورج بوش الأب.

(3) أكمل الجدول التالي:

الحدث	وفاة جوزيف ستالين
التاريخ	1990/11/19م / / ...	1989/12/4-3م

الجزء الثاني: (04 ن)

تعد القضية الفلسطينية من أعقد قضايا العالم بتعدد أطرافها وتوجهاتها إذ تعد مرحلة قيام دولة إسرائيل ومرور واحد وستون عاما (61) على قيامها وحدث نكبة العرب والمسلمين زادت من معاناة الشعب الفلسطيني في ظل التواطؤ الدولي.

المطلوب:

انطلاقاً من الفقرة واعتماداً على ما درست، حرّر مقالاً تاريخياً تبرز فيه:

(1) نتائج قيام دولة إسرائيل على القضية الفلسطينية والعرب.

(2) مظاهر التواطؤ الدولي ضد القضية الفلسطينية.

الجغرافيا: (10 ن)

الجزء الأول: (6 ن)

تعدُّ الشَّرَكَات المتعدِّدة الجنسيات إحدى وسائل التَّغلغل في دول الجنوب، فهي وليدة التطوُّر الموضوعي للاقتصاد الرأسمالي المتمثِّل في تركيز وتدوين الإنتاج والرَّأسمال... لقد بدأ خطر هذه الشَّرَكَات يتزايد على بلدان العالم الثالث عن طريق التَّفوذ السياسي.

المطلوب:

(1) اشرح ما تحته خط.

(2) إليك جدول يمثل معدلات النمو الاقتصادي لبعض دول العالم سنة 2014 م.

الدول	الو.م.أ	بريطانيا	الصين	البرازيل	المكسيك
معدَّل النُّمو الاقتصادي %	02.4%	02.6%	07.4%	00.1%	02.1%

المصدر: التقرير الاقتصادي العربي الموحد، 2015، ص 375

ب - علق على الجدول.

الجزء الثاني: (04 ن)

يحتلُّ البرازيل المرتبة الأولى في أمريكا الجنوبيَّة والثَّانية إقليمياً والعاشره عالمياً من حيث القوَّة الاقتصاديَّة في وقت يبقى فيه معظم سكَّانه يعانون الفقر والمجاعة حتَّى أصبح يطلق عليه بلد الغنى الفاحش والفقر المدقع.

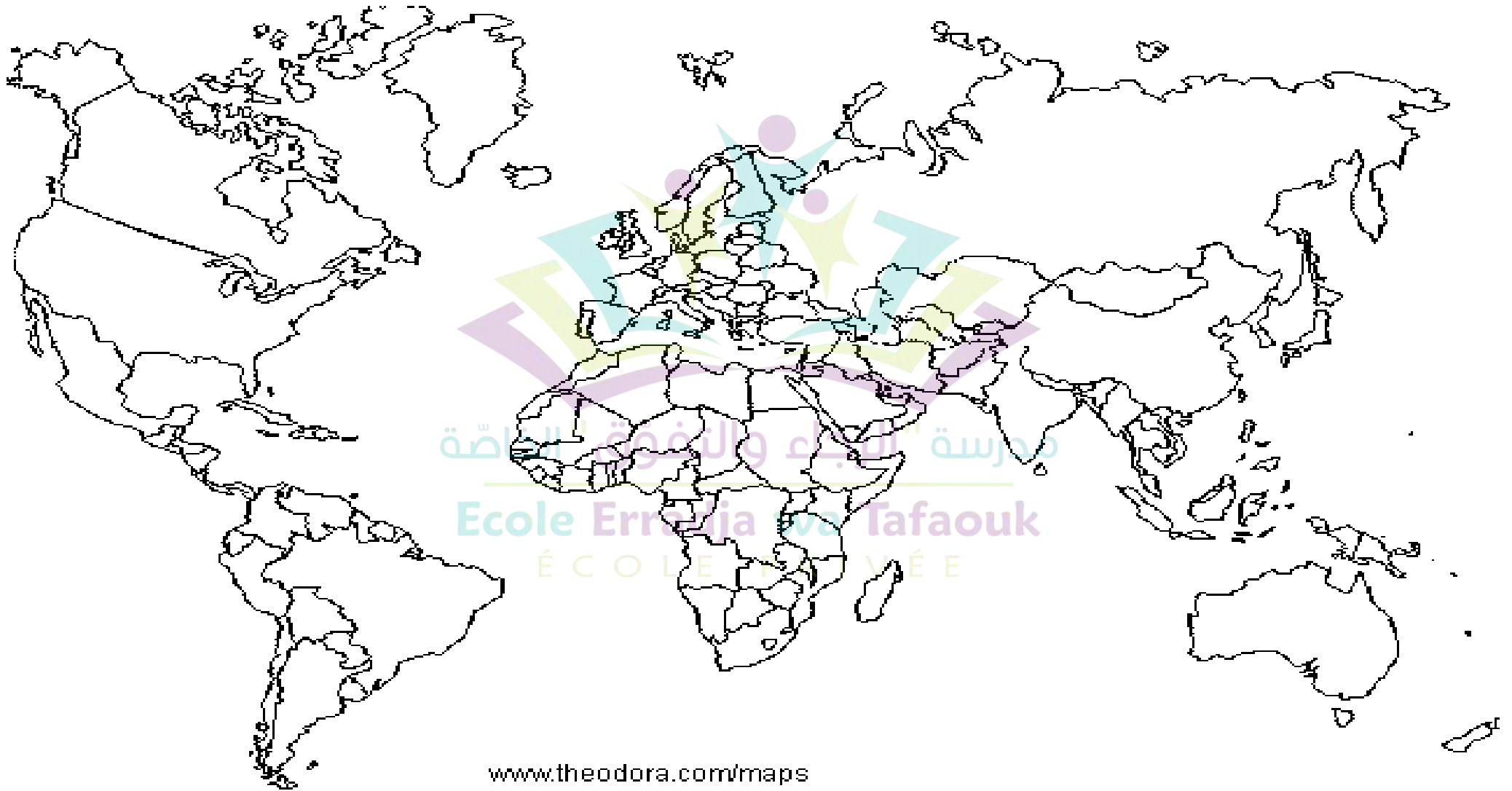
التَّعليمة:

إعتماداً على السَّنَد وعلى ما درست، اكتب مقالاً جغرافياً تبين فيه:

(1) عوامل القوَّة الاقتصاديَّة للبرازيل؟

(2) عوامل التخلف الاجتماعي في البرازيل؟

بالتَّوفيق للجميع



www.theodora.com/maps

التَّارِيخُ: 2023/05/16

المَدَّة: 03 سَاعَاتٍ

المادَّة: التاريخ والجغرافيا

المستوى: 3 ع ت

تصحيح امتحان البكالوريا التجريبية

مادَّة التَّارِيخُ:

الجزء الأول: (06 ن)

(1) شرح ما تحته خط. 02 ن

الشيوعية:

هي نظرية اجتماعية وحركة سياسية ترمي إلى السيطرة على المجتمع ومقدراته لصالح أفراد المجتمع بالتساوي ولا يمتاز فرد عن آخر بالمزايا التي تعود على المجتمع. وتعتبر الشيوعية (الماركسية) تيار تاريخي من التيارات المعاصرة. الأب الروحي للنظرية الشيوعية هو كارل ماركس ومن أهم من توغل في النظرية الشيوعية وأسهم في الكتابات والتطبيق فيها هو فلاديمير لينين بعد نجاح الثورة البلشفية في سنة 1917م.

مؤسساتها الفاعلة:

تعدُّ من أهم وسائل نشر النظام الدولي الجديد والتمثيلة في هيئة الأمم المتحدة، الحلف الأطلسي، صندوق النقد الدولي، البنك العالمي للإنشاء والتعمير، المنظمة العالمية للتجارة، الشركات المتعددة الجنسيات، المنظمات الغير حكومية، وسائل الدعاية والاعلام.

(2) أكمل جدول الأحداث التالي: 1.5 ن

التاريخ	الحدث
12 مارس 1947م	طرح مبدأ ترومان
29\30 أكتوبر 1956م	العدوان الثلاثي على مصر
22 أكتوبر 1956م	القرصنة الجوية للقادة الجزائريين الخمس

(3) على خريطة العالم تحديد مواقع الدول التالية: مالطا، تايلند، بلجيكا، كوبا. 2.5 ن

الجزء الثاني: (04 ن)

المقالة: مقدمة + طرح الاشكالية. 0.5 ن

(1) ظروف قيام الدولة الجزائرية الفتية: 1.5 ن

أ- توقيع اتفاقيات إفيان 18 - 03 - 1962م وتكوين الهيئة التنفيذية المؤقتة برئاسة عبد الرحمان فارس.

ووقف إطلاق النار في يوم 19 - 03 - 1962م.

ب- اشتداد النشاط الإرهابي لمنظمة OAS.

ت- انعقاد مؤتمر طرابلس في 27 ماي إلى 4 جوان 1962م.

ث- إجراء الاستفتاء حول تقرير المصير يوم 1962/07/01 م و 96.5 % نعم للاستقلال واعتراف ديغول باستقلال الجزائر في 3 جويلية 1962 م الإعلان الرسمي عن الاستقلال 05 - 07 - 1962 م وتكوين الجمعية التأسيسية في سبتمبر 1962 م برئاسة "فرحات عباس" التي أعلنت قيام الجمهورية الجزائرية في 26 سبتمبر 1962 م برئاسة "بن بلة".

ح- المشاكل الاقتصادية والاجتماعية والسياسية الموروثة عن الاستعمار:

الاجتماعية:

- مخلفات الثورة التحريرية و 132 سنة من الاستعمار.
- الفقر والجهل والأمراض والأوبئة والبطالة والهجرة.

الاقتصادية:

- اقتصاد مدمر وخزانة فارغة.

- زراعة ببنية ثنائية.

- صناعة ضعيفة ومشلولة.

- تجارة محتكرة وعاجزة.

- تبعية اقتصادية لفرنسا.

السياسية:

- نقص التجربة الإدارية في الحكم.

- قيود اتفاقية افيان - الصراع على السلطة - الأطماع الخارجية.

(2) الاختيارات الكبرى التي انتهجتها الجزائر غداة الاستقلال: 1.5 ن

استخلصت من موانيق الثورة خاصّة من ميثاق طرابلس الصّادر عن مؤتمر طرابلس 27 ماي إلى 4 جوان

1962 م والذي حدّد الخيارات الكبرى للدولة الجزائرية المستقلة والمتمثلة في:

ÉCOLE PRIVÉE

أ- الخيارات السياسية:

- تشييد دولة عصرية ديمقراطية في إطار نظام الحزب الواحد.

- رفض النزعة الذاتية والانفراد بالسلطة.

- محاربة الاستعمار ودعم حركات التحرّر.

- تجسيد الوحدة المغاربية والعربية والإفريقية.

ب - الخيارات الاقتصادية:

- تبني النظام الاشتراكي كأساس للتنمية.

- محاربة الاحتكارات الإقطاعية.

- تطبيق سياسة التخطيط.

- بناء اقتصاد وطني متكامل وتحقيق الاستقلال الاقتصادي.

- مراجعة العلاقات الاقتصادية مع الخارج.

ج - الخيارات الاجتماعية والثقافية:

- رفع المستوى المعيشي والقضاء على البطالة وتحسين الخدمات وتوفير السكن.
- تطوير الرفيف.
- ترقية اللغة العربية وإحياء التراث الوطني كعنصر أساسي للهوية.
- تجاوز التغريب الثقافي.
- دعم الثقافة الوطنية على أسس عملية وثورية.

خاتمة 0.5 ن

الجغرافيا:

الجزء الأول: (6ن)

(1) شرح ما تحته خط.

العملة الصعبة:

يطلق على العملات صرفها بسهولة (التي عملياً مطلوبة في كل مكان) وذات سعر صرف مستقر. عادتاً هي عملات الدول المتقدمة ذات الاقتصاد القوي. بسبب خصائصها فهي تعتبر أداة استثمارية جيدة. 01 ن

دول الاتحاد الأوروبي:

هو جمعية دولية للدول الأوروبية كان يضم 28 دولة وآخرهم كانت كرواتيا التي انضمت في 1 جويلية 2013 ، تأسس بناء على اتفاقية معروفة باسم معاهدة ماستريخت الموقعة عام 1991م وفي 23 جوان 2016م، قرّرت المملكة المتحدة عبر استفتاء الخروج من الاتحاد الأوروبي، لتصبح أول دولة فيه تقوم بذلك. خرجت بريطانيا رسمياً من الاتحاد الأوروبي بتاريخ 31 جانفي 2020م ليصبح حالياً يضم 27 دولة. 01 ن

(2) تعيين على خريطة العالم المرفقة خمس دول مصدرة وخمس دول مستوردة للقمح 03 ن

الجزء الثاني: (04ن)

المقدمة + طرح الاشكالية 0.5ن

عوامل تزايد المبادلات والسلع والخدمات ورؤوس الأموال. 1.5ن

- (1) القوة الاقتصادية وانتشار الرأسمالية (الحرية الاقتصادية).
- (2) -زيادة الطلب و توفر الإنتاج.
- (3) -تطور وسائل النقل والاتصال.
- (4) -الاستثمارات الأجنبية ورفع القيود الجمركية.
- (5) -دور المؤسسات المالية والاقتصادية ووسائل الاعلام والدعاية.
- (6) -قوة العملات الصعبة.

مظاهر اضطراب العلاقات الاقتصادية العالمية: 1.5 ن

- (1) تركز البورصات والاستثمارات المالية الدولية في الدول المتقدمة خاصة الو م ا.
- (2) ارتباط مسار السيولة المالية في العالم ببورصة وولت ستريت والدولار الأمريكي.
- (3) التباين الكبير بين حجم الإنتاج التقليدي وحجم التداولات المالية.
- (4) الفضائح المالية التي تتعرض لها الشركات الأجنبية.
- (5) توسع عملية تبيض الأموال غير المشروعة.
- (6) ارتباط دول العالم المتخلف بتكنولوجيا العالم المتقدم، وتحكم هذا الأخير في الموارد الاستراتيجية.

خاتمة: 0.5 ن

الموضوع الثاني:

التاريخ:

الجزء الأول:

(1) شرح ما تحته خط:

حلفاء الأمم:

وهم اس و و م أ حيث كانوا متحدين ضمن دول الحلفاء للقضاء على العدو المشترك ألمانيا في المرحلة الأخيرة للحرب العالمية الثانية. 01 ن

مبدأ ترومان:

مشروع يتمثل في تقديم مساعدات عسكرية واقتصادية أميركية بقيمة 400 مليون دولار تقدم لليونان، ولتركيا. تقدم به هاري ترومان أمام الكونغرس في مارس 1947 للمصادقة عليه. 1 ن

(1) تعريف الشخصيات التالية:

ميخائيل غورباتشوف: رجل سياسي وزعيم سوفياتي وأمين عام الحزب الشيوعي سنة 1985م ورئيس الإتحاد 1988م وقد جاء بإصلاحات غلاسنوست وبروسترويك لإصلاح الإتحاد السوفياتي وهو الذي ساهم بإسقاط الإتحاد وتفككه في مؤتمر مالطا، منح جائزة نوبل للسلام. 01 ن

جورج بوش الأب:

جورج هيربرت ووكر بوش رجل سياسي أمريكي وزعيم أمريكي رئيس اللوم أ 1989م-1993م حضر مؤتمر مالطا مع غوربا تشوف عرفت فترة حكمه بتدخل الوم أ في عدة مناطق كحرب الخليج الثانية 26 فيفري 1991م وصاحب فكرة النظام الدولي الجديد. 01 ن

1) أكمل الجدول التالي: 01 ن

الحدث	انعقاد مؤتمر باريس للأمن والتعاون الأوروبي	وفاة جوزيف ستالين	انعقاد مؤتمر مالطا
التاريخ	1990/11/19 م	1953/03 / 05 م	1989/12/4-3 م

الجزء الثاني: (04 ن)

المقالة:

المقدمة + طرح الاشكالية 0.5 ن

العرض:

نتائج قيام دولة إسرائيل على القضية الفلسطينية والعرب.

- التواطؤ الدولي وتثبيت الاحتلال الاسرائيلي لفلسطين.

- ظهور مشكلة اللاجئين الفلسطينيين.

- عقد هدنة رودس 1949 والتي أدت إلى عقد سلسلة من الاتفاقيات بين الدول العربية وإسرائيل، كرست

الهزيمة العربية وضياح أرض فلسطين، حيث أصبحت إسرائيل تسيطر على حوالي: 20 ألف كلم² منها.

- توسيع رقعة إسرائيل التي أصبحت تسيطر على كل فلسطين ما عدا قطاع غزة الذي بقي تحت السيطرة المصرية والضفة الغربية والضفة الغربية تحت الإدارة الأردنية.

- شعر الفلسطينيون بمسؤوليتهم، فأخذوا يهيئون أنفسهم للكفاح المسلح.

- المجازر التي ارتكبتها الصهاينة ضد الفلسطينيين، ومنها مجزرة دير ياسين في 09 أفريل 1949م، التي راح ضحيتها 245 شخص، فظهرت مشكلة اللاجئين الفلسطينيين العالقة حتى اليوم.

- سقوط بعض الأنظمة العربية بعد اكتشاف خيانتها في حرب 1948م، مثل نظام الملك فاروق في مصر سنة 1952م.

- بروز أنظمة تقدمية عربية خاصة في مصر، بقيادة جمال عبد الناصر، ودعوتها إلى تحرير فلسطين، والقضاء على الكيان الإسرائيلي.

- مشاركة العرب كدول أو كأفراد في الحروب العربية الاسرائيلية.

- تأسيس منظمة التحرير الفلسطينية في 26 ماي 1964م بالقاهرة.

- بداية الثورة الفلسطينية المسلحة في 01 جانفي 1965م.

- اندلاع انتفاضة أبناء الحجارة في 17 ديسمبر 1987م.

- اندلاع انتفاضة الأقصى عام 2000 دفاعا عن المقدسات الإسلامية.

- رفض حركة المقاومة الإسلامية-حماس- العملية السياسية كخيار استراتيجي لإعادة الحقوق للشعب الفلسطيني.

2) مظاهر التواطؤ الدولي ضد القضية الفلسطينية.

- تقسيم هيئة الأمم المتحدة لفلسطين والاقرار الرسمي بحق إسرائيل في المنطقة.

- الإعلان عن نهاية الانتداب البريطاني يوم 14 ماي 1948م.

- الإعلان عن قيام دولة إسرائيل يوم 15 ماي 1948م.
- اعتراف الدُول الكبرى الو.م.أ و ا.س بإسرائيل بعد قيامها .
- وقوف بريطانيا ثم وم أ إلى جانب اسرائيل.
- اخلال اسرائيل بقرارات هيئة الأمم المتّحدة وعدم تعرّضها لعقوبات من قبلها.

خاتمة:0.5ن

تعتبر القضية الفلسطينية من اعقد القضايا المعاصرة لكونها قضية وقعت تحت تأمر دولي خسيس، لأنها قضية استعمارية عنصرية نتج عنها فقدان شعب بأكمله لحقوقه الطبيعية المشروعة والمتمثلة في أرضه من قبل جماعة عنصرية تأسست من قوميات عديدة عرفت بالصهيونية.

الجغرافيا:

الجزء الأول:(6ن)

(1) شرح ما تحته خط.

الشركات المتعددة الجنسيات:

تعرف أيضا بالشركات العابرة للقارات وهي شركات تخضع في ملكيتها تحت سيطرة جنسيات متعددة حول العالم، بحيث يتولّى إدارتها أشخاص من جنسيات متعددة أيضاً، وتمارس هذه الشركات نشاطاتها المختلفة في البلاد الأجنبية المختلفة، على الرغم من أنّ استراتيجياتها وخططها وسياساتها تكون موجهة للعمل في دولة معينة فيما تُعرف باسم الدولة الأمّ، ولكن يتجاوز عمل هذه الشركات الحدود الوطنية الإقليمية للدولة الأمّ، ويتسع لدول أخرى تُعرف باسم الدول المضيفة. 1ن

الاقتصاد الرأسمالي:

نظام اقتصادي ونمط إنتاج يقوم على مبادئ الملكية الخاصة لوسائل الإنتاج والمبادرة الفردية والمنافسة الحرة وتقسيم العمل وتخصيص الموارد عبر آلية السوق دون الحاجة إلى تدخل مركزي من الدولة. 1ن

(2) شرح ما تحته خط.

الشركات المتعددة الجنسيات:

تعرف أيضا بالشركات العابرة للقارات وهي شركات تخضع في ملكيتها تحت سيطرة جنسيات متعددة حول العالم، بحيث يتولّى إدارتها أشخاص من جنسيات متعددة أيضاً، وتمارس هذه الشركات نشاطاتها المختلفة في البلاد الأجنبية المختلفة، على الرغم من أنّ استراتيجياتها وخططها وسياساتها تكون موجهة للعمل في دولة معينة فيما تُعرف باسم الدولة الأمّ، ولكن يتجاوز عمل هذه الشركات الحدود الوطنية الإقليمية للدولة الأمّ، ويتسع لدول أخرى تُعرف باسم الدول المضيفة.

الاقتصاد الرأسمالي:

نظام اقتصادي ونمط إنتاج يقوم على مبادئ الملكية الخاصة لوسائل الإنتاج والمبادرة الفردية والمنافسة الحرة وتقسيم العمل وتخصيص الموارد عبر آلية السوق دون الحاجة إلى تدخل مركزي من الدولة.

هو مصطلح سياسي واقتصادي واجتماعي وثقافي، يقصد به الدلالة على الدول التي لا تنتمي إلى العالمين الأول والثاني، وهما الدول الصناعية المتقدمة. استُعمل تعبير العالم الثالث لأول مرة سنة 1952 في مقالة صدرت للاقتصادي والسكاني الفرنسي ألفريد سوفيه في إشارة إلى الدول التي لا تنتمي إلى مجموعة "الدول الغربية" (أمريكا الشمالية وأوروبا الغربية وأستراليا واليابان وجنوب إفريقيا) ولا إلى مجموعة الدول الشيوعية (الإتحاد السوفياتي والصين وأوروبا الشرقية). وقد استوحى سوفيه هذه التسمية من الفئة الثالثة في المجتمع الفرنسي أثناء النظام القديم وقبل الثورة الفرنسية.

وأحيانا يطلق على هذه الدول مصطلح "الدول النامية"، وهي دول ذات مستوى معيشي منخفض مقارنة بالدول المتقدمة، ولا يستقيم فيها التوازن بين سرعة نمو السكان ودرجة التقدم الاقتصادي، وتعاني هذه الدول من التخلف الاقتصادي، إذ يرى بعض الدارسين أن دول العالم الثالث هي التي لم تستفد من ثورة القرن التاسع عشر الصناعية، وعلى هذا تعد دولاً آخذة في النمو أو دولاً متخلفة

(3) التعليق على الجدول: 03 ن

الوثيقة المقدمة ذات طبيعة جغرافية اقتصادية ممثلة في جدول يحمل مؤشرات حول معدلات النمو الاقتصادي لبعض دول العالم سنة 2014 من مصدر التقرير العربي الموحد 2015 ص 375. يبرز من خلال الجدول تفوق الصين في معدل النمو الاقتصادي لسنة 2014 بـ 7.4 % وذلك يرجع إلى كونها دولة نامية صناعية منافسة لـ وم أ خاصة والدول الكبرى بصفة عامة.

وأرقام متقاربة لكل من المكسيك بـ 2.1 % و م ا ب 2.4 % وبريطانيا بـ 2.6 % تليها في المرتبة الأخيرة البرازيل بـ 0.1 % فرغم أن درجة التصنيع والامكانيات كبيرة في المنطقة إلا أنها ضعيفة في معدل النمو الاقتصادي بسبب التأثير السلبي للشركات المتعددة الجنسيات.

ويعزى هذا التباطؤ جزئياً في معدلات النمو الاقتصادي إلى تشديد السياسات الرامية إلى كبح جماح ارتفاع معدلات التضخم. ويمكن للصدمات السلبية، مثل ارتفاع معدلات التضخم أو تشديد السياسات أو الضغوط المالية، أن تدفع الاقتصاد العالمي إلى الركود. ومن الضروري اتخاذ إجراءات فورية للتخفيف من مخاطر الركود الاقتصادي العالمي والمديونيات الحرجة.

الجزء الثاني: (04 ن)

المقالة:

مقدمة + طرح الاشكالية

العرض:

(1) عوامل القوة الاقتصادية للبرازيل:

عوامل طبيعية: كبر المساحة 8.5 مليون كلم مربع، تنوع التضاريس (سهول، هضاب، أحواض) وغلبة المناخ المداري وشبه المداري، وفرة التساقطات والشبكة النهرية (الأمازون وروافده)، توفر المواد الأولية الزراعية -

عوامل تنظيمية وبشرية: فلاحه رأسمالية تسويقية تحتكرها الشركات المتعددة الجنسية، ووفرة اليد العاملة الرخيصة.

وتعتبر البرازيل قوة بشرية، إذ تحتل المرتبة الخامسة عالميا من حيث عدد سكانها 186 مليون نسمة

- عوامل تقنية: المكننة، التهجين النباتي والحيواني، الاعتماد على البحث العلمي، السدود وقنوات الري.
* بالنسبة للقطاع الصناعي:

- وفرة المعادن (كالحديد والمنغنيز والذهب) وبعض مصادر الطاقة (الفحم – الطاقة الكهرو مائية) والخشب.
وضعف أجور اليد العاملة.

- امتلاك الدولة لبعض الشركات، وتشجيعها للقطاع الخاص الوطني.

- استقطاب الرأسمال الأجنبي من خلال الامتيازات الجبائية والجمركية والتسهيلات الإدارية.

* بالنسبة للقطاع التجاري:

- الانفتاح على المحاور التجارية العالمية، والانتماء إلى مجموعة مركسور Mercosur.

- أهمية الشركات المتعددة الجنسية والبنوك.

- ضخامة الإنتاج الوطني، وامتلاك موانئ كبرى.

2) عوامل التخلف الاجتماعي في البرازيل؟

تشهد البرازيل حدة الفوارق الاجتماعية حيث توجد هوة شاسعة بين الطبقة الغنية التي تحتكر القسط الأوفر من خيرات البلاد، وغالبية السكان الذين يعانون من الدخل المحدود ويعيشون في حالة فقر دائم. ويتوالي السنين يزداد الفارق بين الطبقتين.

ونشهد البرازيل في مستوى التنمية البشرية بين الأرياف والمدن حيث ينتشر الفقر بشكل كبير بالأرياف (حوالي 20 مليون فقير) يعاني أغلبهم من الأمية، السكن غير الصحي، ضعف التغطية الصحية والافتقار إلى الحاجيات الضرورية بشكل عام (الماء والكهرباء...).

ومعاناة السكان من الاستغلال حيث يشتغل العديد منهم في الاستغلاليات الواسعة.

وجود تفاوت في توزيع الأراضي، حيث يبقى العديد من الفلاحين بالبرازيل بدون أرض وهو ما يفسر ظهور العديد من حركات الاحتجاج. (مظاهرات).

خاتمة:

يسمى البرازيل بلد المتناقضات، حيث يعرف نمو اقتصاديا كبيرا، لكنه يشهد مشاكل اجتماعية متعددة تجعله لا يخرج عن نطاق العالم الثالث وقد تمكنت من تحقيق قفزة اقتصادية مهمة غير أن تباين مستوى التنمية البشرية بها يعتبر من أبرز التحديات المطروحة على الدولة.



اختبار في مادتي: التاريخ و الجغرافيا المدة: 03 سا و 30 د

على المترشح أن يختار أحد الموضوعين التاليين:
الموضوع الأول
التاريخ

الجزء الأول: (06 نقاط)

"... انطلقت رؤية غورباتشوف الجديدة لطبيعة العلاقات ببرالشرق والغرب من اعتبار أن مشكلة الأمن الدولي تحل بالتعاون وعن طريق السياسة لا الحرب، وتحقق ذلك إجرائيا بالتوقيع على معاهدة واشنطن، التي تقضي بإزالة الصواريخ متوسطة المدى، وتعد أهم اتفاقية في تاريخ سياق التسليح، وفي فيفري 1989 انسحب الجيش الأحمر من أفغانستان، وغيّرت الحكومات الشيوعية في بولونيا وتشيكوسلوفاكيا وألمانيا الديمقراطية أنظمتها واتجهت نحو الليبرالية".
المطلوب: 1 اشرح ما تحته خط في النص.
2 أكمل الجدول التالي:

الحدث	تاريخه
.....	22 - 09 - 1947
سقوط جدار برلين
.....	19 - 03 - 1962

الجزء الثاني: (04 نقاط)

" عرفت شوارع العاصمة و العديد من المدن الجزائرية الأخرى في يوم 11/12/1960 نزول الشعب الجزائري في مظاهرات للإعلان عن رغبته في نيل الاستقلال و تدعيمه المطلق للكفاح المسلح ، فكان ذلك بمثابة البركان الشعبي الثائر الذي نسف وهم الاستعمار في فصل الشعب عن جبهة التحرير الوطني"
الكتاب المدرسي / تاريخ ص 202
المطلوب: انطلاقاً من الفقرة واعتماداً على ما درست، اكتب مقالا تاريخيا تبين فيه:
1 - مظاهر الالتفاف الشعبي حول الثورة الجزائرية ما بين 1956-1962
2 - السياسة الاستعمارية العسكرية في فصل الشعب عن الثورة.

الجغرافيا

الجزء الأول: (06 نقاط)

" يشكل اتساع الإقليم عامل قوة بالنسبة للدولة، ويعني ذلك على أقل تقدير توفر موارد طبيعية سطحية وباطنية، كما يمثل ورقة استراتيجية من حيث الامتداد الضروري لأي توسع داخلي ممكن، ذلك ما يتطلب نهضة إقليمية، غير إن الإقليم لوحده لا يمكن أن يشكل عامل قوة اقتصادية إن لم يكن مرتبط كل الارتباط بالوزن الديموغرافي وفعالية نظام التوازن الاجتماعي"

المرجع: الكتاب المدرسي للجغرافيا السنة الثالثة ص 45

المطلوب:

- 1 (اشرح ما تحته خط في النص..
2 (اليك جدولا يمثل كمية استهلاك النفط في بعض الدول سنة 2014 (الوحدة: مليون برميل يوميا)

الدول	الولايات المتحدة	اليابان	ألمانيا	البرازيل	كوريا ج	الصين
الاستهلاك	19.4	4.3	2.4	3.2	2.3	10.4

المرجع: (2015 / 11 / 25 the word top 10 (chou sand barrel / day

مثل معطيات الجدول بأعمدة بيانية .. المقياس 1 سم لكل 5 مليون برميل 1 سم دولة

الجزء الثاني: (04 نقاط)

" يشكل الاتحاد الأوروبي المجموعة الديموغرافية الثالثة في العالم بعد الصين والهند، وهو قطب من أقطاب الثلاث العالمي، يظم 27 دولة يضاها في وزنه الاقتصادي قوة الو.م.أ، ويحتل المرتبة الأولى في التجارة العالمية والإنتاج الصناعي، كما يشكل أوسع سوق استهلاكية في العالم، ويستقطب أكثر من 1/2 من المستثمرين الأجانب "
الكتاب المدرسي / جغرافيا ص 106
المطلوب: انطلاقاً من العبارة، و اعتماداً على ما درست، اكتب مقالا جغرافيا تبرز فيه:



- (1) - العوامل الديمغرافية المادية المساهمة في قوة الاتحاد الأوروبي.
- (2) - أهمية الواجهة البحرية الشمالية والغربية في الاقتصاد الأوروبي.

انتهى الموضوع الأول

الموضوع الثاني التاريخ

الجزء الأول: (06 نقاط)

"... بلغ تدهور العلاقات بين الشرق والغرب أقصى درجاته إثناء حصار برلين، حيث كان الغرب علي استعداد تام لاستخدام الأسلحة النووية... وكانت هذه الأحداث المتلاحقة بمثابة مقدمات **الحرب الباردة** التي اشار اليها ونستن تشرشل في خطابه الذي ألقاه في مارس 1946، وتحدث فيه عما اسماه **بالستار الحديدي**..وبعد سنة من هذا الخطاب أعلن هاري ترومان عن سياسة الاحتواء تجاه أوروبا والتي عُرفت **بهدف ترومان**.." **المرجع : عبد الخالق عبد الله ، العالم المعاصر والصراعات الدولية**

المطلوب:

- (1) اشرح ما تحته خط في النص.
- (2) عرف الشخصيات التالي: العربي بن مهيدي - أحمد سوكارنو - نكيثا خروتشوف

الجزء الثاني: (04 نقاط)

"وُصف مشروع مارشال بأنه أعظم محاولة إقتصادية بدلت لمقاومة الضغط الشيوعي في أوروبا....ومضت أمريكا على منوال مشروع مارشال بإقامة برامج لمساعدة دول آسيا والشرق الأوسط"

المطلوب: إنطلاقا من الفكرة و اعتمادا على ما درست أكتب مقالا تاريخيا تبين فيه:

- (1) - أهداف مشروع مارشال.
- (2) - رد فعل الإتحاد السوفياتي على المشروع.

الجغرافيا

الجزء الأول: (06 نقاط)

"إن تنقل **الاموال غير المشروعة** والمشروعة يتم في اسواق مالية محددة مستفيدة من التطور التكنولوجي والأعلامي ..هناك اموال ضخمة جدا من 1000 الى 2000 مليار دولار يتم تبديلها يوميا اي ما يعادل 100 من حاجيات السوق التجارية والخدمات ..وتشكل الاستثمارات المباشرة في الخارج رأسمال ناتج عن المضاربات وترتبط أساسا ببعض المراكز المالية علي المستوى العالمي ... وتستقبل **البورصات** الكبيرة أموال المستثمرين والمؤسسين للبنوك و **الشركات المتعددة الجنسيات**..."

الكتاب المدرسي للجغرافيا للسنة الثالثة ص33

المطلوب:

- (1) اشرح ما تحته خط في النص.
- (2) إليك جدولا لإنتاج الدول العشر الكبرى للقمح في العالم:

الوحدة :مليون طن

الدول	الصين	الهند	الو.م.ا	روسيا	فرنسا	استراليا	كندا	باكستان	المانيا	اكرانيا
الانتاج	117.4	86.9	56.2	54.4	38	27.4	25.3	25.2	22.8	22.3

المصدر: المنظمة العالمية للتغذية والزراعة (Fao Sta) 2011

- مثل معطيات الجدول بأعمدة بيانية بمقياس 1 سم = 20 مليون طن 1 سم = دولة
- (3) من الجدول وعلى خريطة العالم المرفقة وقّع أربع 04 دول مصدرة للقمح .

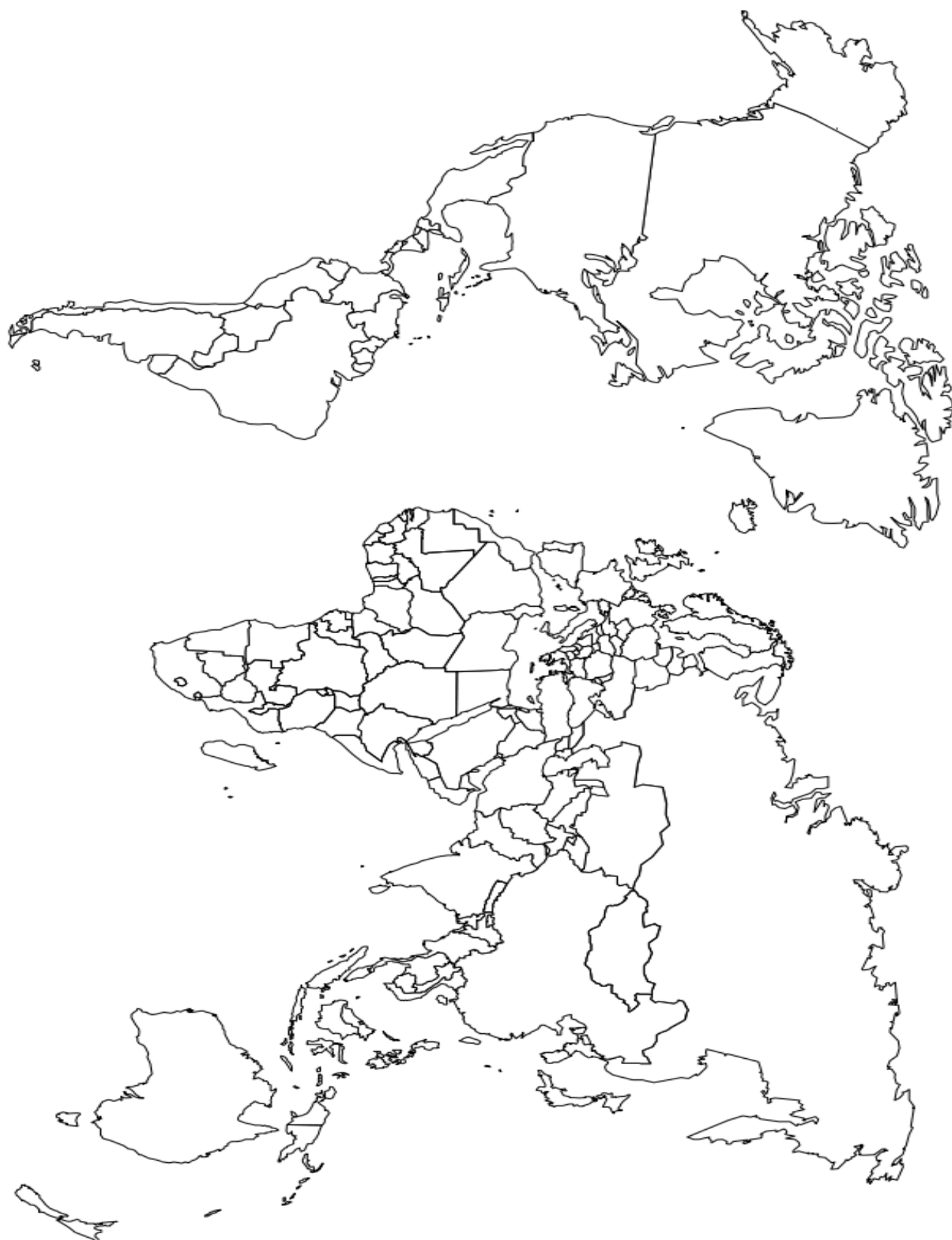
الجزء الثاني: (04 نقاط)

" يؤكد " وون بدريار " في كتابه "أمريكا " ان اعتقاد الامريكيين بانهم يمثلون قلب العالم والقوة العظمى والنموذج الامثل ومركز الصدارة في الاقتصاد العالمي ليس خطئا "

المطلوب: انطلاقا من الفقرة و اعتمادا على مكتسباتك القبلية اكتب مقالا جغرافيا تبين فيه:

- (1) - عوامل القوة الاقتصادية في الاقتصاد الأمريكي.
- (2) - أثر قوة الاقتصاد الأمريكي في الاقتصاد العالمي.

انتهى الموضوع الثاني

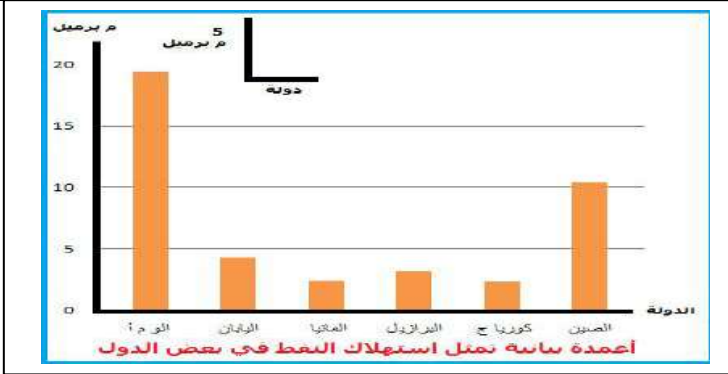


ينجز العمل المطلوب على الخريطة المرفقة و تعاد مع أوراق الإجابة

التصحيح النموذجي (الموضوع الاول)

التصحيح النموذجي (الموضوع الاول)		التقييم									
3	المفاهيم	الشرق: الدول التي تقع في شرق أوروبا والتي طبقت النظام الاشتراكي أثناء الحرب الباردة وتحالف مع السوفيت. سياق التسليح: التسابق للحصول على أكبر قدر من الأسلحة المدمرة بين الولايات المتحدة الأمريكية والاتحاد السوفيتي البرالية: مذهب اقتصادي واجتماعي يركز على مبدأ الحرية الفردية ويستبعد أي تدخل للدولة في الشؤون الاقتصادية									
3	الجدول	<table><tr><th>التاريخ</th><th>الحدث</th></tr><tr><td>1947 - 09 - 22</td><td>اعلان مبدأ جانوف</td></tr><tr><td>1989 - 11 - 09</td><td>سقوط جدار برلين</td></tr><tr><td>1962 - 03 - 19</td><td>وقف إطلاق النار عيد النصر</td></tr></table>		التاريخ	الحدث	1947 - 09 - 22	اعلان مبدأ جانوف	1989 - 11 - 09	سقوط جدار برلين	1962 - 03 - 19	وقف إطلاق النار عيد النصر
التاريخ	الحدث										
1947 - 09 - 22	اعلان مبدأ جانوف										
1989 - 11 - 09	سقوط جدار برلين										
1962 - 03 - 19	وقف إطلاق النار عيد النصر										
0.5	المقدمة	لقد كان احتضان الشعب الجزائري للثورة عاملا حاسما في نجاحها، كيف ذلك؟									
1.5	العرض	1 (مظاهر الالتفاف الشعبي حول الثورة1956-1962: - انشاء الاتحادات العامة (العمال ،التجار، الطلبة ..) - إضراب 08 أيام (28 جانفي - 04 فيفري 1957) - مظاهرات 11 ديسمبر 1960 ونسف السياسة الديغولية - مظاهرات 17 أكتوبر 1961 في باريس									
1.5		2 (السياسة الاستعمارية في فصل الشعب عن الثورة بين1956-1962: - إقامة المحتشدات و المناطق المحرمة ومراكز التعذيب - إتباع سياسة القمع . والإيقاف الجماعي .سياسة التجويع. - إرغام آلاف الجزائريين على الهجرة الداخلية والخارجية - إنشاء مكاتب الفرق الإدارية الخاصة (sa) - ارتكاب المجازر في حق المدنيين									
0.5	خاتمة	رغم سياسة فرنسا القمعية إلا أن صمود الشعب و إيمانه بالاستقلال أفضل مخطاها									

الجغرافيا

3	المفاهيم	الموارد الطبيعية: هي جميع الثروات السطحية والباطنية مثل المعادن والبتروول والغابات التي تتشكل بشكل تلقائي و يمكن إن تتحول إلى ثروة فعلية بأي صورة من الصور إما على هيئة سلع أو خدمات أو غيرها تهيئة إقليمية: هي هيكلة للمظاهر الجغرافية والبشرية والاقتصادية بوضع خطة تهدف لتوفير الاحتياجات وتأخذ بعين الاعتبار الظروف والإمكانيات والموارد التي يتوفر عليها الإقليم الوزن الديموغرافي: التعداد السكاني الكبير والذي يعتبر عامل قوة في اقتصاد منطقة إذا أحسن الاستثمار فيه وتوظيفه في عملية الإنتاج و التنمية.	
3	التوقع	التمثيل: الأعمدة البيانية الرسم الصحيح: 02 المقياس: 0.5 العنوان: 0.5	
0.5	المقدمة	تضافرت عديد العوامل لتجعل من الاتحاد الأوروبي قوة اقتصادية عالمية.	
1.5	العرض	1 (العوامل الديموغرافية والمادية المساهمة في قوة الاتحاد الأوروبي: - توفر اليد العاملة الخبيرة والمؤهلة - اتساع السوق الاستهلاكية - وفرة رؤوس الأموال بفضل قوة الاستثمار - حيوية السوق الداخلية - وفرة البنى التحتية وتطور المواصلات - استمرار تدفق المهاجرين والكفاءات العلمية.	
1.5		2 (أهمية الواجهة البحرية الشمالية والغربية في قوة الاتحاد: - تربط بين دول الاتحاد (من البرتغال إلى النرويج) - ممر تجاري عالمي يربط دول الاتحاد بالأسواق الخارجية (تصدير واستيراد) - منطقة تبادل تجاري حيوي لكثرة الموانئ (ميناء روتردام) - مصدر هام للطاقة والثروة السمكية و - الأهمية السياحية	
0.5	الخاتمة	الاتحاد الاوربي قطب اقتصادي عالمي يواجه تحديات كبرى انسحاب بريطانيا	

التصحيح النموذجي (الموضوع الثاني)

التقييم		التصحيح النموذجي (الموضوع الثاني)		
3	0.5	الحرب الباردة: صراع ايدولوجي بين الغرب الراسمالي بقيادة الو م ا والشرق الاشتراكي بقيادة الاس استخدمت فيها كل الوسائل باستثناء التصادم المباشر في الفترة ما بين 1947 - 1989 الستار الحديدي: مصطلح تاريخي استعمله رئيس الوزراء البريطاني ونستن تشرشل ليعبره مجاز ا عن الخط الفاصل بين اوربا الشرقية الغربية. ميذا ترومان: مساعدات مالية وجهها الرئيس الامريكى هاري ترومان سنة 1947 الي تركيا واليونان التى كانت تهددها الحركات الشيوعية المدعمة من طرف السوفيت.		الفاهيم
		العربي بن مهدي: 1923 - 1957 عضو التيار الثوري ولجنة 6 و قائد الولاة 5 .كلف بالعمليات الفدائية القي عليه القبض واستشهد تحت التعذيب مارس 1957 من قبل الجنرال بيجار. فيدال كاسترو: زعيم الثورة الكوبية فشلت الو م ا في اغتياله قام بتاميم الاراضي واصلاحات كبرى في عهده حدثت ازمة الصواريخ الكوبية 1962. نيكيتا خروتشوف : 1894- 1971 رئيس ا /س ما بين 1953 - 1964 تبني سياسة التعايش السلمي وتخيف الصراع بين الكتلتين اعلن برنامج طموح لغزو الفضاء وتطوير الاسلحة النووية حدثت في عهده ازمة الصواريخ الكوبية سنة 1962		الشخصيات
0.5		تعددت وسائل الصراع اثناء الحرب الباردة بين المعسكرين		المقدمة
1.5	0.5	أهداف مشروع مارشال: المعلنة: * اعادة اعمار دمار الحرب ع 2 * انعاش الاقتصاد الاوربي * التخلص من سلبيات الحرب ع الاجتماعية الخفية : * صد الزحف الشيوعي * ربط الاقتصاد الاوربي بامريكا * تثبيت الرأسمالية * احتواء الاتحاد السوفياتي في حالة قبوله. * انعاش الشركات الامريكية المفلسة		العرض
		رد فعل السوفيات عليه: - رفض المساعدات وتحريض اوربا الشرقية على الرفض - اعلان مبدأ جدانوف وتأسيس مكتب الكومنفورم - انشاء منظمة الكوميكون في سنة 1949		
0.5		اثناء الصراع كل خطوة يقوم بها طرف يعتبرها الاخر ضده ويرد عليها مما اطال من امد الحرب وعدم الثقة		خاتمة
الجغرافيا				
3	0.5	الاموال غير المشروعة: اموال مكتسبة بطرق غير شرعية مثل تجارة المخدرات والسلاح يقوم اصحابها بتبييضها عبر عمليات بنكية وتجارية. البورصات: اسواق للتعامل مع الاوراق المالية عن طرق الاكتتاب واصدار الاسهم والسندات الشركات متعددة الجنسيات: شركات كبرى يساهم في راسمالها متعاملون من عدة جنسيات تمارس نشاطها في اكثر من دولة وتسمي بالشركات العابرة للقارات		المفاهيم
		1 - التمثيل: العنوان * المفتاح * الالتزام بالسلم * المعلم 2 - التوقع: 04 دول مصدرة للقمح..		التوقع
1.5	1.5			
0.5		تحتل الو م ا الصدارة العالمية في الميدان الاق بفعل امكانياتها الطبيعية والبشرية وحسن استغلالها		المقدمة
1.5	0.5	دور الزراعة في الاقتصاد الامريكى: - تساهم في الدخل الخام - تخفف من عجز الميزان التجاري - تمون الكثير من الصناعات بالمواد الاولية الزراعية - يوفر ملايين مناصب الشغل في الانتاج المباشر او في الصناعة الغذائية. - تحافظ علي قوة الدولار - تغطي حاجيات السوق المحلية		العرض
		اثر قوة الاقتصاد الامريكى في الاقتصاد العالمي: - التحكم في التجارة العالمية - هيمنة الدولار علي التعاملات النقدية - هيمنة البورصات الامريكية علي تحديد اسعار المواد الغذائية - ارتباط الاقتصاد العالمي بالاقتصاد الامريكى ايجابا وسلبا - هيمنة الشركات الامريكية علي الاقتصاد العالمي انتاجا واستثمارا		
0.5		الاستغلال الجيد للامكانيات اكسب الو م ا مكانة وهيمنة اقتصادية		الخاتمة

التَّاريخ: 2022/05/18

المُدَّة: 03 سَاعَاتٍ وَ30 دَقِيقَةً

المادَّة: تاريخ وجغرافيا

المستوى: 3 ع ت

امتحان البكالوريا التجريبي

اختر واحدا من الموضوعين وأجب عليه:

الموضوع الأول

التَّاريخ:

الجزء الأول: (06 نقاط)

شهدت الفترة التي امتدَّت ما بين أواخر الثَّمانينيات وأوائل التَّسعينات مجموعة من التَّحولات الدُّولية الكبرى كان أبرزها تفكُّك الكتلة الشَّرقية وانتهاء الحرب الباردة. ويسود الإجماع على أنَّ عام 1989م كان النُّقطة الفاصلة التي بدأ فيها زوال النِّظام العالمي ثنائي القطبية، كما يجمع الباحثون في مختلف التَّخصُّصات على أنَّ هناك عالماً جديداً يتشكَّل أمام أنظارنا.

التَّعليمة:

- 1) عرِّف ما تحته خط.
- 2) عرِّف بالشَّخصيات التَّالية:
- ميخائيل غورباتشوف . جورج بوش الأب – جوزيف ستالين؟
- 3) حدِّد حدثين بارزين ميَّزا سنة 1989م؟
- 4) حدد على الخريطة المرفقة: مالطا. و.م.أ. الاتحاد السُوفياتي؟

الجزء الثاني: (04 نقاط)

قامت فرنسا بعدة إجراءات للقضاء على الثَّورة الجزائرية منذ انطلاقها فاتَّبعَت أساليب ومناورات مختلفة لتحقيق الهدف المنشود وقد احتار ديغول بين الحل العسكري والحل السِّياسي للقضيَّة الجزائرية، بسبب صلابة الثَّورة التَّحريرية وصمودها.

بالاعتماد على السَّنَد وعلى مكتسباتك القبليَّة، اكتب مقالا تبين فيه ما يلي:

- 1) مناورات فرنسا السِّياسية والعسكرية للقضاء على الثَّورة؟
- 2) تعامل الثَّورة مع هذه المناورات؟

الجغرافيا:

الجزء الأول: (06 ن)

(1) حدّد مفهوم المصطلحات التالية:

الدورات الزراعية – الزراعة النطاقية – الاستقطاب.

(2) أذكر معيارين لتصنيف حالي التقدم والتخلف.

(3) "...تعتمد الزراعة الأمريكية على وسائل حديثة كما أنها تستخدم الدورات الزراعية والزراعة النطاقية

وهذا ما جعلها تساهم مساهمة معتبرة في الإنتاج العالمي: 39 □ من إنتاج الذرة 12 □ من إنتاج القمح

19.8 □ من إنتاج القطن و 2.6 □ من إنتاج قصب السكر....".

أ- مثّل الأرقام الواردة في السند بأعمدة بيانية بمقياس رسم 1 سم = محصول و 1 سم = 5 □ من

الإنتاج، مع التعليق على الرسم البياني.

ب- استنتج مظاهر القوة الاقتصادية الأمريكية.

الجزء الثاني: (04 نقاط)

تعد دول الجنوب المتخلفة ضحية الواقع الاقتصادي العالمي الذي وضعته الدول الكبرى، التي لازالت تحاول جاهدة الخروج منه وتغييره من أجل الخروج من دائرة الهيمنة.

المطلوب:

اعتمادا على العبارة وعلى ما درست ومكتسباتك القبليّة، حرّر مقالا جغرافيا تبين فيه ما يلي:

(1) أثر الواقع الاقتصادي العالمي على دول الجنوب.

(2) الحلول المقترحة للخروج من هذا الواقع.

انتهى الموضوع الأوّل

الموضوع الثاني

التاريخ:

الجزء الأول: (06 ن)

السند:

"... واعتبار الولايات المتحدة مسؤولة عن وضع المعايير والتنظيمات ومراقبتها باسم الشرعية الدولية التي عليها هي وحلفائها في الحلف الأطلسي ورببتها إسرائيل ... إنَّ التَّقييم الأول لممارسات الأحاديَّة القطبيَّة يشير أنَّ معظم بلدان العالم الثالث تشهد عودة الهيمنة الامبرياليَّة بدون عون أو نظير..."

الدكتور/ محمد العربي ولد خليفة / النظام العالمي الجديد

(1) اشرح ما تحته خط في السند.

(2) عرّف الشَّخصيات التَّالية: دوايت إيزنهاور، فيدال كاسترو، جواهر لال نهرو.

(3) أكمل الجدول التَّالي:

الحدث	حل منظمة الكومكون	مشروع قسنطينة
تاريخه	22 أكتوبر 1956 م	26 جويلية 1956 م

(4) عيّن على الخريطة 3 دول أعضاء في الحلف الأطلسي و3 دول أعضاء في حلف وارسو.

الجزء الثاني: (04 ن)

عرفت شعوب العالم الثالث المستعمرة قبل الحرب العالمية الثانية حركة مبكرة طالبت من خلالها إصلاح أوضاعها الاقتصادية و السَّياسية المتدهورة نتيجة الهيمنة الاستعماريَّة، ثم تطوَّرت إلى حركات تحرُّريَّة بعد الحرب العالمية الثانية، تطالب بالحرِّيَّة والاستقلال.

المطلوب:

انطلاقاً من الفقرة وممَّا درست، أكتب مقالاً تاريخياً تبين فيه ما يلي:

أ- ظروف قيام الحركات التَّحريرية.

ب- نتائج حركات التَّحرُّر.

“تعد الشركات المتعددة الجنسيات إحدى وسائل التغلغل في دول الجنوب، فهي وليدة التطور الموضوعي للاقتصاد الرأسمالي المتمثل في تركيز وتدوين الإنتاج والرأسمال... لقد بدأ خطر هذه الشركات يتزايد على بلدان العالم الثالث عن طريق النفوذ السياسي، وكان من أهم آثار ذلك عدم تحقيق الكثير منها للاكتفاء الذاتي ... ”

(1) اشرح ما تحته خط في الفقرة.

(2) إليك جدولاً يمثل مناطق التبادل التجاري الرئيسة للجزائر سنة 2005م بالمليار دولار.

المناطق	الصّادات	النسبة %	الواردات	النسبة %
الاتحاد الأوروبي	24.84	54 %	11.15	54.8 %
الوم أ	10.85	23.6 %	1.2	5.9 %
بقية العالم	10.31	22.4 %	8	39.3 %

O.M.C/2006 المصدر:

- أ- مثل نسبة التبادل التجاري للجزائر في دائرتين نسبيتين وفق مقياس رسم نق = 3سم.
ب- علّق على الجدول.

الجزء الثاني: (04 نقاط)

"لواجهة البحرية الشمالية والغربية لأوروبا أهمية بالغة في الاقتصاد الأوروبي وذلك لما تتوفر عليه من إمكانيات اقتصادية وموارد مختلفة وموقع استراتيجي".

المطلوب:

انطلاقاً من الفقرة و اعتماداً على ما درست، أكتب مقالاً جغرافياً مبرزاً فيه ما يلي:

أ- الخصائص الجغرافية للواجهة البحرية.

ب- الأهمية الاقتصادية للواجهة البحرية في اقتصاد الاتحاد الأوروبي.

انتهى الموضوع الثاني

بالتوفيق للجميع

التاريخ: 2022/05/18

المدة: 03 س و 30 د

المادة: تاريخ وجغرافيا

المستوى: 3 ع ت

تصحيح امتحان البكالوريا التجريبي

الموضوع الأول:

الجزء الأول: (06 ن)

التاريخ:

(1) شرح المصطلحات: 1.5 ن

الكتلة الشرقية:

هي مجموعة الدول التي تبنت النظام الشيوعي بعد الحرب العالمية الثانية وواجهت الكتلة الغربية في صراع مبرر عُرف بالحرب الباردة يقودها الاتحاد السوفياتي. 0.5 ن

الحرب الباردة:

هي صراع أيديولوجي حضاري ومصليحي عرفه العالم بعد الحرب العالمية الثانية حتى سنة 1990 م بين المعسكرين استعملت فيه مختلف الوسائل باستثناء المواجهة العسكرية المباشرة بين الوم أ والاتحاد السوفياتي عرف انتشار مفاهيم التعايش السلمي (1956 م. 1962 م) دون أن تزيل وصفها على أنها مرحلة من مراحل الحرب الباردة. الانفراج الدولي: 1963 م - 1975 م. 0.5 ن

الثنائية القطبية:

هو نظام ساد بعد الحرب العالمية الثانية يعتمد على وجود قطبين متفوقين في مركز القوى المؤثرة على الساحة الدولية، هما الوم أ والاتحاد السوفياتي، حيث يتمتع كل منهما بمواصفات القطب والقدرة على توجيه الأحداث العالمية وتحريكها. 0.5 ن

(2) التعريف بالشخصيات: 1.5 ن

غورباتشوف:

هو رئيس الاتحاد منذ مارس 1985 م. اشتهر بسياسة البريستوريكا والglasnost يعتبر في الغرب الصانع الحقيقي لسياسة الوفاق الدولي منح جائزة نوبل للسلام سنة 1990 م وقّع العديد من الاتفاقيات التي ستؤدي إلى إنهاء الحرب الباردة. 0.5 ن

جورج بوش الأب:

(12 يونيو 1924م – على قيد الحياة)، رئيس الولايات المتحدة الأمريكية الواحد والأربعون من عام 1989م إلى عام 1993م. عمل قبل ذلك كمدير لوكالة المخابرات المركزية وكنائب للرئيس الأمريكي رونالد ريغان، وكان قد بدأ حياته السياسية في مجلس الشيوخ عام 1966م. 0.5 ن

(3) تحديد الحدثين البارزين سنة 1989م:

- انعقاد مؤتمر مالطا - انهيار الاتحاد السوفيتي (الكتلة الشرقية). 0.5 ن

الجزء الثاني: (04 نقاط)

(1) مناورات عسكرية وسياسية للقضاء على الثورة التحريرية: 1.5 ن

أسلوب المكر الدبلوماسي للتجميع مطالب الثورة واستعمال القوة العسكرية بعنف خاصة في الأوراس. *بعد إخفاق الحكومات الفرنسية المتتالية ونتيجة للخسائر المادية والبشرية التي منيت بها فرنسا اختار الفرنسيون شارل ديغول (الرجل العسكري والسياسي المحنك صاحب الخبرة الطويلة ومنقذ فرنسا من ورطة الحرب العالمية الثانية) اثر انقلاب 13 ماي 1958م وبه سقطت الجمهورية الرابعة وبدأت الجمهورية الخامسة تحت تأثير ضربات الثورة الجزائرية .

*إنشاء المناطق المحرمة في الأرياف الجزائرية * إتباع سياسة القمع والإيقاف الجماعي * تطبيق سياسة التجويع وإخضاع المواد الغذائية للتقنين * إنشاء مكاتب الفرق الإدارية الخاصة (لأصاص) * إقامة المحتشدات ومراكز التعذيب وإنشاء الخطوط المكهربة على الحدود (خط شال وموريس) ، ابتداء من سنة 1958م ، *مضاعفه الجيش الفرنسي حتى فاقت 800 ألف جندي سنة 1958م * الاستعانة بحلف شمال الأطلسي * القيام بعمليات تمشيط عسكرية شارك فيها معظم جنرالات فرنسا أخذت تسميات مختلفة ومنها عمليات المجهر Jumelle بالقبائل، ومنها عملية الشّارة ببلاد الحضنة لتطهيرها من الثوار، ومنها عملية الأحجار الكريمة على جبال قسنطينة وأخرى على جبال الونشريس، بالإضافة إلى التفنن في وسائل التعذيب والتوسّع في المحتشدات استعملت فيها كافة الأسلحة ...

ج- المخططات السياسية و الإغرائية : وذلك ب :

أهمها * : مشروع قسنطينة : 3 أكتوبر 1958م اقتصادي المظهر وسياسي الباطن : جاء به الجنرال ديغول لاعتقاده أن الثورة ليست سياسية بل تعود لسبب مادي ، فكان هذا المشروع المتمثل في توزيع الأراضي على الجزائريين 250 ألف هكتار * تطوير الجزائريين ماديا * فتح مجالات العمل أمام الجزائريين 400 ألف وظيفة وفي 23 أكتوبر 1958 أعلن ديغول ب "سلم الشجعان" ، حيث دعا الثوار إلى وضع السلاح دون شرط والاتصال بسفارتي فرنسا في تونس والرباط لتنظيم عملية الاستسلام.

-إنشاء القوة الثالثة (من العملاء) لإبعاد جبهة التحرير الوطني وتضليل الرأي العام .

-تنظيم استفتاء شعبي حول دستور الجمهورية الخامسة 1958/07/28 م وذلك بإرغام الشعب بالتصويت " بنعم " على دستور الجمهورية الفرنسية الخامسة.

طرح فكرة تقسيم الجزائر عرقيا و جغرافيا.

مشاريع التقسيم: ومنها :

تقسيم الشمال إلى 3 مناطق 1957 : قسنطينة (حكم ذاتي) ، (الجزائر ووهران إقليم فرنسي) ، تلمسان (حكم ذاتي) ، مخطط تجميع المستوطنين 1961 : فصل الصحراء عن الشمال للحد من توسع الثورة واستغلال بترول الصحراء ومراقبة دول الساحل الإفريقي.

(2) إجراءات ردت بها الثورة الجزائرية على سياسة فرنسا: 1.5 ن

* التنظيم الجماهيري و التعبئة الشعبية ونشر الوعي الوطني .

-تخفيف الحصار على الأوراس وهجومات الشمال القسنطيني 20 أوت 1955 م.

-تنظيم الثورة بعد مؤتمر الصومام 20 أوت 1956 م.

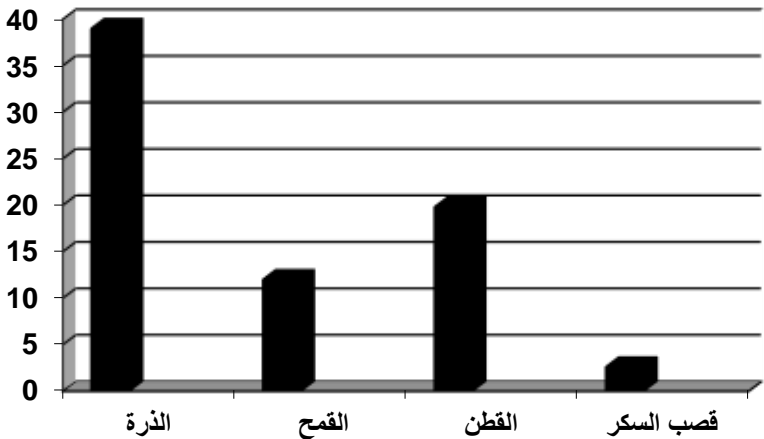
*الدعوة إلى المظاهرات الشعبية مظاهرات 11 /12/ 1960 ومظاهرات 17 /10/ 1961 م.

* التّعريف بالقضيّة الجزائريّة في المحافل الدّوليّة - الأمم المتحدة - .

*إنشاء الحكومة المؤقتة 19 / 09 / 1958 م.

الخاتمة:

نجاح إستراتيجية الثورة في مواجهة المخطط الاستعماري . 0.5 ن

العلامة	عناصر الإجابة	محاو الموضوع
1.5 0.5 0.5 0.5	<p>*الدورات الزراعية: طريقة علمية في استغلال الأرض بتقسيمها إلى عدة قطع وتغير باستمرار للمحافظة على خواص التربة ومنع إجهادها وللحصول المحصول في كل منها على أكبر مردود.</p> <p>وذلك بتخصيص مناطق * الزراعة النطاقية: أسلوب منتشر في الزراعة الأمريكية القمح، بوسائل زراعية ضخمة وحديثة. واسعة لمحصول معين كنطاق الذرة ونطاق التأثير والجذب بفضل القوة الاقتصادية والتطور * الاستقطاب: القدرة على ورؤوس الأموال نحو الأقطاب الاقتصادية التكنولوجية ومن مظاهره تدفق العلماء مثل وم الاتحاد الأوروبي.... الخ</p>	شرح المصطلحات
01 0.5 0.5	<p>* مؤشر التنمية البشرية يمثل نسب التعليم ومتوسط العمر ومعدل الدخل الفردي السنوي.</p> <p>هو مجموع السلع المنتجة والخدمات المقدمة في PNB* حجم الدخل الوطني الخام بلد ما خلال سنة معينة.</p>	معايير لتصنيف حالي التقدم والتخلف.
1.5 0.25	<p>تمثيل معطيات السند في أعمدة بيانية:</p> <p>المقياس:</p>  <p>العنوان:</p> <p>أعمدة بيانية تمثل نسبة مساهمة الإنتاج الزراعي للوم أعلى المستوى العالمي</p>	

0.25	<p>*التعليق على الرسم البياني:</p> <p>* تنوع الإنتاج الزراعي للو م أ.</p> <p>* المساهمة الفعالة للإنتاج الزراعي الأمريكي على المستوى العالمي.</p> <p>* تطور القطاع الزراعي، وحدائته.</p> <p>* الخبرة الفنية العالية لليد العاملة وتحكمها في وسائل الإنتاج.</p> <p>*استنتاج مظاهر القوة الاقتصادية الأمريكية:</p> <p>- تنوع الإنتاج لفلاحي واحتلال المراتب الأولى في الكثير من المنتجات الزراعية.</p> <p>- تنوع الإنتاج الصناعي واحتلالها للمراتب الأولى في عدة صناعات.</p> <p>0.75 من حجم المبادلات العالمية. - احتلالها المرتبة الأولى عالميا بنسبة 12% سنويا تقريبا</p> <p>- ضخامة الاستثمارات الأمريكية في جميع مناطق العالم خاصة الاتحاد الأوروبي</p> <p>0.75 وكندا.</p> <p>- تفاعل عوامل مختلفة جعلت من الو م أ قوة اقتصادية عالمية.</p> <p>- ساهمت عوامل طبيعية ومادية في جعل الو م أ قوة عالمية بلا منازع.</p>	
------	---	--

الجزء الثاني:

المحاور	عناصر الإجابة	العلامة
مقدمة	<p>إنَّ الواقع الاقتصادي العالمي فرض على دول الجنوب البقاء في دائرة الهيمنة المباشرة وغير المباشرة للدول الكبرى، الأمر الذي أثر سلباً على التنمية وكرس التخلف في هذه الدول. فما هي آثار الواقع الاقتصادي على دول الجنوب؟ وما هي الحلول للخروج من هذا الواقع؟</p>	0.5
العرض	<p>1- أثر الواقع الاقتصادي على دول الجنوب:</p> <ul style="list-style-type: none"> ❖ أصبح سوق استهلاكية واسعة لمنتجات الدول الكبرى. ❖ التبعية المفرطة للعالم المتقدم. ❖ استغلال و استنزاف ثروات دول الجنوب. ❖ فقدان السيادة في اتخاذ القرارات. ❖ كثرة الاضطرابات و الحروب و اللا استقرار في جميع المجالات. ❖ اتساع وتفشي التلوث الأسود. <p>2- الحلول لتغيير الواقع:</p> <ul style="list-style-type: none"> ❖ حسن استغلال الموارد. ❖ اعتماد إستراتيجية مشتركة اقتصادياً والتكتل في وجه الدول الكبرى. ❖ تفعيل التعاون جنوب - جنوب. ❖ دعم البحث العلمي وعصرنة وتحديث التسيير. ❖ العمل على تغيير قواعد النظام الاقتصادي. ❖ إرساء قواعد تنمية متينة من خلال الإمكانيات المتاحة. <p>تمتلك دول الجنوب إمكانيات ضخمة جداً تمكنها من تجاوز واقعها المزري إذا ما استغلت بشكل عقلاني.</p>	1.5
	خاتمة	0.5

الموضوع الثاني

السؤال	الإجابة النموذجية										
الشرعية الدولية: 0.5 الحلف الأطلسي: 0.5	مجموعة من المبادئ والقوانين التي تحكم وتوجه العلاقات الدولية من خلال هيئة الأمم المتحدة وخاصة مجلس الأمن. حلف عسكري تشكل في 04-04-1949م بزعامة الوم أمقره بروكسل.										
الأحادية القطبية: 0.5 الامبريالية: دوايت إيزنهاور:	قيادة العالم من قبل القطب (المركز) الواحد أي الدولة الأقوى وتوجيهه للسياسة العالمية بما يخدم مصالحه مثل الوم أم بعد انهيار المعسكر الشرقي. أعلى مرحلة من الرأسمالية وهي سيطرة الوم أم على الاقتصاد العالمي. سياسي وعسكري أمريكي، قاد قوات الحلفاء في شمال إفريقيا وغرب أوروبا، صاحب مبدأ إيزنهاور سنة 1957م، رئيس الوم. أم. 1953-1961م.										
0.5 فيدال كاسترو:	ثائر و سياسي كوبي - قاد الثورة ضد - باتيستا - استولى على السلطة عام 1959 كان حليفا استراتيجيا للإس. قوبلت سياسته بالعداء من طرف الوم. أم. ، عرف عهده أزمة الصواريخ 1962.										
0.5	رجل سياسة هندي وتلميذ غاندي، رئيس المؤتمر الوطني الهندي، شغل منصب الوزير الأول وكان من أبرز أقطاب حركة عدم الانحياز 1961م.										
جواهر لال نهر: 0.5 بن بلة: 0.5	نشط في حزب الشعب و المنظمة الخاصة، من رواد الثورة، أختطف وسجن بين 1956-1962، أول رئيس للجزائر المستقلة 1962، أزيل عن الحكم و اعتقل عام 1965م.										
الأحداث التاريخية: 01	<table border="1" style="width: 100%; border-collapse: collapse;"> <thead> <tr> <th>الحدث</th><th>تاريخه</th></tr> </thead> <tbody> <tr> <td>حل منظمة الكميكون</td><td>28 جوان 1991م</td></tr> <tr> <td>القرصنة الجوية على زعماء الثورة</td><td>22 أكتوبر 1956م</td></tr> <tr> <td>مشروع قسنطينة</td><td>04 أكتوبر 1958م</td></tr> <tr> <td>تأميم قناة السويس</td><td>26 جويلية 1956م</td></tr> </tbody> </table>	الحدث	تاريخه	حل منظمة الكميكون	28 جوان 1991م	القرصنة الجوية على زعماء الثورة	22 أكتوبر 1956م	مشروع قسنطينة	04 أكتوبر 1958م	تأميم قناة السويس	26 جويلية 1956م
الحدث	تاريخه										
حل منظمة الكميكون	28 جوان 1991م										
القرصنة الجوية على زعماء الثورة	22 أكتوبر 1956م										
مشروع قسنطينة	04 أكتوبر 1958م										
تأميم قناة السويس	26 جويلية 1956م										
الخريطة: 01 المقدمة: العرض: الخاتمة:	<p>إقحام شعوب المستعمرات في ح.ع. 2 واستفادتهم منها ...</p> <p>ا. ظروف قيام حركات التحرر: - الح.ع. 2 وانهزام القوى الاستعمارية القديمة كفرنسا.</p> <p>- ظهور شعارات إنسانية كحق الشعوب في تقرير مصيرها.</p> <p>- التجنيد الاجباري ...</p>										

<p>الجغرافيا شرح المصطلحات</p>	<p>١١. نتائج حركات التحرر: - استقلال الكثير من الدول. - تقارب الدول الحديثة الاستقلال وتكتلها. - انتشار المد التحرري. - تزايد الوعي السياسي القومي والعسكري ...</p>
<p>الشركات المتعددة الجنسيات: 01 الاكتفاء الذاتي الاقتصاد الرأسمالي: 01 العالم الثالث: الدائرتين: 02</p>	<p>بالرغم من نقمة الح.ع.2 على المستعمرات إلا أنها كانت عاملا أساسيا في استقلالها... تعرف بالشركات العابرة للقارات شركات ملكيتها وإدارتها تخضع لسيطرة جنسيات متعددة وتمارس نشاطها في بلاد أجنبية تتمتع بقدر كبير من حرية تحريك ونقل الموارد ورؤوس المال والتكنولوجيا. قدرة الدولة علي توفير الغذاء لشعبها دون اللجوء إلى الاستيراد. يسمى كذلك اقتصاد السوق يقوم على الملكية الخاصة لوسائل الإنتاج والمبادرة الفردية ويخضع لتفاعل العرض والطلب. الدول التي خضعت للاستعمار لفترة طويلة واستقلت حديثا ... تتعامل الجزائر مع إ.أ بسبب الشراكة، القرب والعامل التاريخي. - تستورد من الو.م.أ الحبوب خاصة .</p>
<p>التعليق: 01 المقدمة: العرض: الخاتمة:</p>	<p>- تتمثل بقية العالم خاصة في دول ج ش آ ... تتمتع م إ أ بجملة من العوامل ساعدتها في أن تصبح أكبر وأقوى قطب من بينها الواجهة البحرية ... 0.5 ن 1. الخصائص الجغرافية للواجهة البحرية: - الموقع الاستراتيجي. - المناخ المتنوع. - المصائد ... 1.5 ن 2. الأهمية الاقتصادية للواجهة البحرية في الاقتصاد العالمي:</p>
	<p>* تسهيل الاتصال مع العالم الخارجي. * مصدر مهم للنفط والغاز الطبيعي والأسماك * مناطق صيد الأسماك في بحر الشمال ضمن أغنى المناطق في العالم. * يعد بحر الشمال أحد أهم الممرات المائية في العالم للنشاط التجاري. * يعتبر من أكثر المحيطات ازدهاما بحركة الملاحة وتتركز في هذا المحيط غالبية الأنشطة الاقتصادية بما فيها الصيد البحري ما جعل الاتحاد الأوروبي يحتل المراتب الأولى عالميا في التجارة الدولية. استفادة الاتحاد السوفياتي من كل الامكانيات المتاحة 0.5</p>

الجمهورية الجزائرية الديمقراطية الشعبية

السنة الدراسية: 2019/2018

المستوى: السنة الثالثة ثانوي

الشعبة: رياضيات وعلوم تجريبية

المدة: 3 سا و 30 د

وزارة الدفاع الوطني

أركان الجيش الوطني الشعبي

دائرة الاستعمال والتحضير

مديرية مدارس أشبال الأمة

امتحان البكالوريا التجريبي في مادتي التاريخ والجغرافيا

على المترشح أن يختار أحد الموضوعين

الموضوع الأول

التاريخ

الجزء الأول: (06 نقاط)

- 1- اشرح المصطلحات التالية: - المحافل الدولية. - التحرر السياسي. - الدبلوماسية
- 2- عرف بالشخصيات الآتية: - العربي بن مهيدي - فيدال كاسترو - جورج بوش الأب.
- 3- اشرح في بضعة أسطر الأساليب التي اعتمدتها دول العالم الثالث في كفاحها ضد الاستعمار في كل من إفريقيا و آسيا و أمريكا اللاتينية.

الجزء الثاني: (04 نقاط)

(... لقد تراجعت الحرب الباردة تدريجيا أمام الانفراج بين الشرق و الغرب . فالمخاوف التي أثارته أزمة الصواريخ الكوبية كانت دافعا قويا لتحقيق الوفاق الدولي..). المصدر: الكتاب المدرسي القديم والجديد .

المطلوب:

انطلاقا من العبارة واعتمادا على ما درست أكتب مقالا تاريخيا تبين فيه:

- 1- العوامل التي أرغمت المعسكرين إلى الجنوح للسلم.
- 2- موقف دول العالم الثالث إزاء الصراع الدولي بين المعسكرين .

الجغرافيا

الجزء الأول: (06 نقاط)

1- حدد مفهوم المصطلحات التالية : البورصة – الدول المصنعة – الأمن الغذائي.

2- إليك جدول لأهم الدول المستوردة للقمح لسنة 2016 حسب تقرير منظمة فاو:

الدولة	مصر	كوريا ش	نيجيريا	البرازيل	اليابان	اندونيسيا	الجزائر	المكسيك
الكمية	09	04	07	07.9	07.1	07.8	06.3	03.4

الوحدة: مليون طن

المطلوب:

أ - مثل أرقام الجدول بأعمدة بيانية بمقياس 1 سم = 1 م . طن. 1 سم = 1 دولة

ب - على خريطة العالم المرفقة وقع دولتان من آسيا , دولتان من إفريقيا , دولتان من القارة الأمريكية من الدول الواردة في الجدول.

الجزء الثاني: (04 نقاط)

تمثل رغبة بريطانيا في الخروج من الاتحاد الأوروبي نكسة بالنسبة لهذا التكتل السياسي و الاقتصادي الكبير.

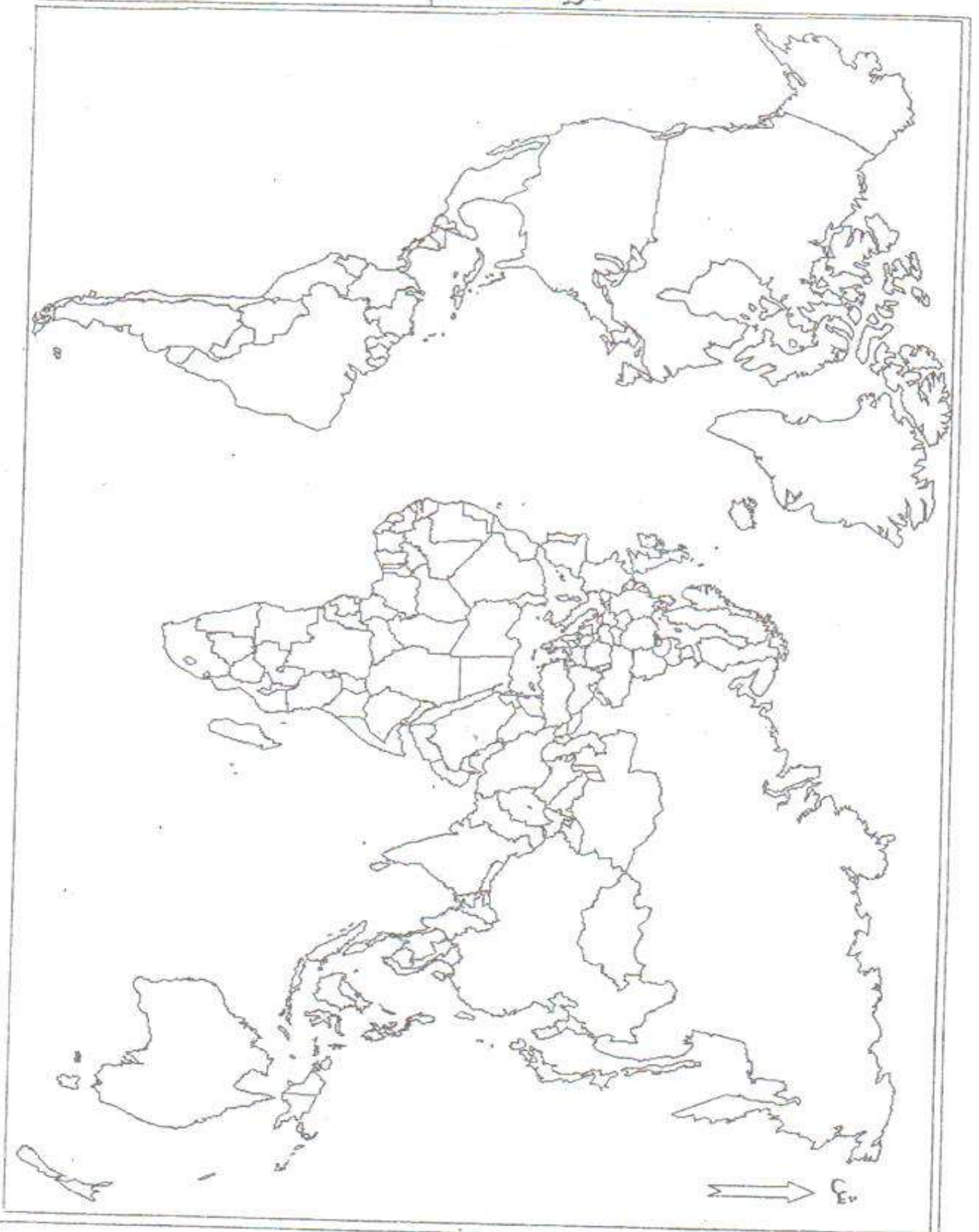
المطلوب :

اعتمادا على ما درست أكتب موضوعا جغرافيا تبين فيه:

1- الأهداف التي تسعى الدول الأوروبية لتحقيقها.

2- التحديات التي يواجهها الاتحاد الأوروبي في ظل التغيرات الدولية الراهنة.

خريطة العالم



ينجز العمل المطلوب على الخريطة وتعاد مع أوراق الإجابة

الموضوع الثاني

التاريخ :

الجزء الأول : (06 نقاط)

« ..انعقد في أوائل سبتمبر 1961 في بلغراد مؤتمر عدم الانحياز ، وتمثلت فيه خمس وعشرون دولة ..وشدد تيتو في خطابه الافتتاحي على ضرورة إسهام الدول الصغرى في حل مشاكل العالم ، فبدأ مذكّ الكلام عن قيام "العالم الثالث" وعن سعيه لتحقيق التعايش السلمي بين مختلف الأنظمة والدول ، وإزالة التكتلات واحترام دور الأمم المتحدةوأبرز ما تمخض عن هذا المؤتمر فكرة عرضها جمال عبد الناصر وتبناها المؤتمرين ألا وهي توجيه رسالة موقعة من كل أعضاء المؤتمر إلى خروتشوف وكينيدي يحثونهما فيه على التفاوض من أجل صون السلام... »

ليبيب عبد الساتر ، أحداث القرن العشرين بتصرف ، ص218.

1- عرف الشخصيات التي تحتها خط.

2 - أكمل الجدول الآتي:

التاريخ	الحدث
.....	نهاية الحرب الباردة
08 فيفري 1958
.....	معركة ديان بيان فو

الجزء الثاني : (04 نقاط)

وعشية اندلاع الثورة أعلن عن ميلاد جبهة التحرير الوطني وتم إصدار بيان يشرح فيه طبيعة تلك الأحداث ويحدد هدف الثورة استعادة الاستقلال وإعادة بناء الدولة الجزائرية .

المطلوب:

انطلاقا من العبارة واعتمادا على ما درست أكتب مقالا تاريخيا تبين فيه:

- 1- إستراتيجية تنفيذ الثورة على المستوى الخارجي .
- 2-اختلاف الطرح الفرنسي وطرح قادة الثورة خلال المفاوضات .

الجغرافيا

الجزء الأول : (06 نقاط)

1 السند : (...إننا نعيش في نظام دولي يرفض فكرة قطرية فردية ،ويدعو إلى تجسيد فكرة التكامل ،ومن هنا أخذت فكرة التكامل شرعيتها وأصبح التكتل والتكامل الاقتصادي حتمية لا بد منها... ويتمثل القطب الثاني في دول التنينات التي استفادت من التحول التكنولوجي الياباني وهي بذلك دول ذات دخل وطني مرتفع وقوة تجارية ومراكز مالية هامة...)

المصدر: الكتاب المدرسي بتصريف

1 - اشرح المصطلحات التي تحتها خط.

2 - إليك جدول يمثل نسبة إنتاج و استهلاك بعض المناطق للطاقة لعام 2012 :

المناطق	أمريكا الشمالية	أمريكا الجنوبية	إفريقيا	الشرق الأوسط	الاتحاد الأوروبي
إنتاج %	19	11	10.4	33.1	09.7
استهلاك %	25	08	03.2	05	18

المطلوب :

- علق على أرقام الجدول.

الجزء الثاني : (04 نقاط)

تهيمن الولايات المتحدة الأمريكية على العالم منذ الستينات بفضل ضخامة إنتاجها و حجم استثماراتها في الخارج و الدور العالمي لعملتها، إذ تعتبر العملة الرئيسية في المبادلات التجارية.

المطلوب : انطلاقا من العبارة و مما درست، اكتب مقالا جغرافيا تبين فيه:

- 1- التكامل الاقتصادي بين الأقاليم في الولايات المتحدة الأمريكية .
- 2- التحديات التي تواجه الاقتصاد الأمريكي.

الجمهورية الجزائرية الديمقراطية الشعبية

السنة الدراسية: 2019/2018

المستوى: السنة الثالثة ثانوي

الشعبة: رياضيات وعلوم تجريبية

وزارة الدفاع الوطني

أركان الجيش الوطني الشعبي

دائرة الاستعمال والتحصير

مديرية مدارس أشبال الأمة

الإجابة النموذجية لامتحان البكالوريا التجريبي في مادتي التاريخ والجغرافيا

الموضوع الأول

العلامة	مجزأة	عناصر الإجابة <u>1/ التاريخ</u>	محاور الإجابة
06	01	الجزء الأول (6) - المحافل الدولية: المنظمات والمؤتمرات الكبرى كهيئة الأمم المتحدة، منظمة الوحدة الإفريقية ، مؤتمر باندونغ ، مؤتمر بلغراد.	1- التعريف بالمصطلحات
	01	*التحرر السياسي: تحقيق الاستقلال و الانعتاق وإقامة سلطة سياسية لكن دون التحكم في الشؤون الاقتصادية (السيطرة على الثروات والموارد) .	2 – التعريف بالشخصيات :
	01	.- *الدبلوماسية: أداة رئيسية لتحقيق أهداف السياسة الخارجية ، والتأثير على الدول والجماعات الخارجية بهدف استمالتها وكسب تأييدها .	
	0.5	-العربي بن مهيدي: مناضل في حزب الشعب ، عضو بالمنظمة الخاصة ، ومن بين العناصر البارزة في اللجنة الثورية للوحدة والعمل ومجموعة 22 ، ومجموعة الست ، ترأس المنطقة الخامسة (الإقليم الوهراني) ، وترأس مؤتمر الصومام في 1956، استشهد في 04 مارس 1957 .	
	0.5	- فيدال كاسترو: قائد الثورة الشيوعية الكوبية سنة 1959، ترأس في نفس السنة جمهورية كوبا، عزز علاقاته مع الكتلة الشيوعية ودعم حركات التحرر.	
	0.5	-جورج بوش الأب: رئيس الولايات المتحدة أ من 1989 إلى 1993، شغل نائب رئيس الولايات المتحدة في عهد ريغان وعمل عضوا في الكونغرس وسفيرا ومدير المخابرات المركزية، حارب العراق في الكويت خلال حرب الخليج 1991، صاحب فكرة النظام الدولي الجديد.	
04	1.5	3- أساليب الكفاح التحرري: - الأسلوب السياسي : في الهند . - الأسلوب العسكري : في الفيتنام. - محاربة الأنظمة العميلة : في كوبا و مصر . - الجمع بين الأسلوبين السياسي والعسكري : في الجزائر.	المقدمة العرض
	0,5	الجزء الثاني : (4نقاط) تميز العالم بعد الحرب العالمية الثانية بحالات من الصراع والتعايش بين قطبيه ميزته مجموعة أحداث	
	1.5	1-العوامل التي أرغمت المعسكرين إلى الجنوح للمسلم: - ظهور حكام معتدلين: الترويكما بعد وفاة ستالين ونهاية حكم ترومان. - حدوث أزمات دولية حادة(كوبا 1962- كوريا 1950/1953) . - ظهور حركة عدم الانحياز ونبذها الصراع. - الرعب النووي: تزايد كميات الأسلحة النووية وتزايد مخاطر اندلاع حرب نووية. - ارتفاع نفقات الحرب الباردة. - زيادة الانشقاق والانقسام داخل الكتلتين (الخلاف السوفيياتي الصيني والخلاف	
	04		

	1.5	<p>الأمريكي الفرنسي).</p> <p>- التسابق في مجال غزو الفضاء.</p> <p>- اقتناع و م أ بفشل سياسة الاحتواء وتخلي السوفييات عن النظرية الصفريية.</p> <p>2- موقف دول العالم الثالث من الصراع:</p> <p>- بروز العالم الثالث كقوة جديدة في ظل تراجع الاستعمار التقليدي . وانتشار موجة التحرر</p> <p>- إتباع سياسة الحياد الايجابي ورفض سياسة الاستقطاب</p> <p>- ظهور التضامن الأفروآسيوي(مؤتمر باندونغ أفريل 1955 وحركة عدم الانحياز سنة 1961</p> <p>- رفض المشاركة في الأحلاف و تواجد القواعد العسكرية</p>	الخاتمة
	0.5	<p>كان لدول العالم الثالث دور رئيسي في إنجاح مساعي الانفراج وتجنب العالم مواجهة عسكرية</p>	

الجغرافيا

النقطة	الإجابة النموذجية	المحاور
0.5	-البورصة :سوق مالية منظمة يتم فيها تداول السندات والأموال و الأسهم كما تحدد فيها أسعار المواد الأولية .	الجزء الأول المصطلحات
0.5	- الدول المصنعة: هي الدول التي تعتمد في اقتصادها على القطاع الصناعي أكثر من القطاعات الأخرى .	
0.5	- الأمن الغذائي : قدرة الدولة على توفير الغذاء لسكانها إما عن طريق الإنتاج او الاستيراد.	
1.5 0.25 0.25	- الإنجاز - المقياس - العنوان	الرسم البياني
2 0.5	- الإنجاز - العنوان 0.25 - المفتاح 0.25 .	الخريطة
0.5	إن إنشاء الاتحاد الأوروبي لم يكن بالعمل السهل بالنسبة لدوله التي عانت من ويلات الحرب العالمية الثانية .	الجزء الثاني المقدمة

<p>1.5</p> <p>1.5</p> <p>0.5</p>	<p>1- الاهداف التي تسعى الدول الاوربية لتحقيقها :</p> <ul style="list-style-type: none"> - استرجاع مكانتها الدولية. - توحيد الدول الاوربية لمواجهة اي عدوان خارجي . - التخفيف من الهيمنة الامريكية. - تحقيق التكامل الاقتصادي. - تحقيق الاكتفاء الذاتي و الامن الغذائي. - القضاء على التبعية الاقتصادية للدول الاخرى. <p>2 – التحديات التي يواجهها الاتحاد الاوربي :</p> <ul style="list-style-type: none"> - استمرار الهيمنة الامريكية على العالم الغربي . - الصراع التجاري بين الاتحاد الاوربي و الولايات المتحدة . - عدم تحقيق التكامل الاقتصادي الكامل . - مشكلة التلوث و ارتفاع معدلات البطالة . - رغبة بعض الدول الاوربية في الانسحاب من الاتحاد . - مشكلة الهجرة غير الشرعية نحو اوربا. <p>يمكن لدول الجنوب أن تتخلص من الواقع الذي تعيش فيه لو توفرت لديها الإرادة السياسية وروح التعاون.</p>	<p>العرض</p> <p>الخاتمة</p>
----------------------------------	---	-----------------------------

الموضوع الثاني

العلامة		عناصر الإجابة	محاور الإجابة
المجموع	مجزأة	1/ التاريخ	
06	<p>01</p> <p>01</p> <p>01</p>	<p><u>الجزء الأول (6ن)</u></p> <p>- جمال عبد الناصر: عسكري ورجل دولة ،زعيم الثورة المصرية 1952 ، ورئيس مصر من 1954 إلى 1970 ، ومؤمم قناة السويس 1956 ، ناصر الحركات التحررية خاصة الثورة الجزائرية كما كان أحد مؤسسي حركة عدم الانحياز .</p> <p>- نيكيتا خروتشوف: رجل سياسي سوفيتي خلف ستالين وامتد حكمه من 1953 إلى 1964 ، صاحب مبادئ التعايش السلمي كما عرف بالتشدد في تعامله مع أزمات الحرب الباردة مثل : أزمة السويس 1956 وأزمة الصواريخ بكوبا 1962 .</p> <p>- جون كينيدي: رئيس الولايات المتحدة الأمريكية من 1961 وحتى اغتياله عام 1963 ، دافع عن الزواج ومن أهم أحداث فترة ولايته أزمة الصواريخ في كوبا وسباق غزو الفضاء .</p>	<p>1 – التعريف بالشخصيات :</p>

04	1	التاريخ	الحدث	جدول الاحداث
	1	1990/11/20	نهاية الحرب الباردة	
	1	1958/2/8	قسف ساقية سيدي يوسف	
	1	1954/5/7	معركة ديان بيان فو	
	الجزء الثاني : (04نقاط)			
	0.5	المعركة على طاولة المفاوضات لا تقل أهمية عن الحرب المسلحة (أو أي مقدمة وظيفية للموضوع)		المقدمة
	1.5	1-استراتيجية تنفيذ الثورة على المستوى الخارجي: -التعريف بالقضية في المحافل الدولية - فضح السياسة الفرنسية و عزلها دوليا - كسب التعاطف العالمي - الحصول على الدعم المادي والسياسي و هذا من خلال جهاز دبلوماسي يتشكل من الوفد الخارجي للثورة (ايت احمد، بن بله ،خيضر و بوضياف) وفود الجبهة إلى المؤتمرات الدولية - إنشاء الحكومة المؤقتة (19 - 09 - 1958) و وزارة الشؤون الخارجية و وزارة الإعلام .		العرض
	1.5	2-طرح قادة الثورة في المفاوضات :التشبيث ب: - جبهة التحرير الوطني هي الممثل الشرعي والوحيد. -وحدة الشعب الجزائري . -وحدة التراب الوطني . -السيادة الوطنية الكاملة والتفاوض يفضي إلى وقف القتال. الطرح الفرنسي في المفاوضات : التشبيث ب: -الطاولة المستديرة - تقسيم الجزائر عرقيا و دينيا - الهدنة قبل التفاوض - الحكم الذاتي		
	0.5	جسدت مفاوضات ايفيان الثانية مبادئ قادة الثورة من خلال حصول الجزائر على استقلالها السياسي حسب الشروط التي أقرها بيان أول نوفمبر وميثاق الصومام		الخاتمة

المحاور	الإجابة النموذجية	النقطة
الجزء الأول المصطلحات	<p><u>التحول التكنولوجي</u>: هو نقل وإعادة توطين التكنولوجيا من منطقة ألى أخرى أو من دولة إلى أخرى</p> <p><u>دول التينينات</u> : وهي الدول الأربعة الآسيوية (كوريا الجنوبية، تايوان، هونغ كونغ، سنغافورة وتعرف بالدول الحديثة التصنيع وتتميز بنموها الصناعي السريع واعتمادها على الاستثمارات الأجنبية .</p> <p><u>الدخل الوطني</u> : وهو مجموع الثروات المنتجة داخل وخارج البلاد خلال سنة .</p>	<p>1</p> <p>1</p> <p>1</p>
التعليق على الجدول	<p>-التباين بين المناطق في الإنتاج والاستهلاك</p> <p>- احتلال منطقة الشرق الأوسط في نسبة الإنتاج أكثر من الثلث (ضخامة الاحتياط)</p> <p>- احتلال أمريكا الشمالية الرتبة الأولى من حيث الاستهلاك ربع الإنتاج العالمي (الاستهلاك السكاني الكبير والتطور الصناعي)</p> <p>- ضعف الاستهلاك في مناطق دول الجنوب (التخلف الصناعي والتركيز على الصناعة الاستخراجية)</p>	3
المقدمة	<p>الجزء الثاني: 04ن</p> <p>تمتلك الولايات المتحدة الأمريكية أكبر اقتصاد في العالم بفضل تطورها الصناعي وضخامة إمكاناتها الطبيعية والبشرية والمادية</p>	0.5
العرض	<p>1- التكامل الاقتصادي بين الأقاليم في الو م أ :</p> <p>- التنوع أي وجود قطاعات متعددة</p> <p>- التخصص في المنتجات الزراعية بفضل تنوع المناخ</p> <p>-التكامل في الموارد الطبيعية</p> <p>- الترابط في البنية التحتية</p> <p>-الاستثمارات المالية الضخمة</p>	1.5
الخاتمة	<p>2- التحديات التي تواجه الاقتصاد الأمريكي:</p> <p>- المنافسة الخارجية مع الاتحاد الأوروبي وجنوب شرق اسيا</p> <p>- حاجتها الى المواد الأولية</p> <p>- تزايد حجم الدين الداخلي</p> <p>- ظهور دول صناعية جديدة في العالم</p> <p>- الكوارث الطبيعية (الاعاصير) والتلوث</p> <p>-عدم استقرار العملة</p> <p>رغم التحديات يبقى الاقتصاد الأمريكي أقوى اقتصاد في العالم وأكثرها تأثيرا في اقتصادات العالم.</p>	0.5

التَّارِيخُ: 2021/05/26

المُدَّة: 02 سَاعَةً وَ30 دَقِيقَةً

المادَّة: التاريخ والجغرافيا

المستوى: 3 ع ت

امتحان البكالوريا التجريبية

على المترشح أن يختار أحد الموضوعين التاليين
الموضوع الأول

التاريخ:

الجزء الأول: (06 نقاط)

"...عرض ديغول على المجاهدين الاستسلام تحت شعار ما يسمى "سلم الشجعان" وفي عرض آخر كخداع للثورة قصد إجهادها وإدخال الشكوك في أوساطها تكلم عن تقرير المصير كمراوغة، لأنَّ شروط تحقيقه - كما وضعها - كانت تعجيزية وهي عدم الاعتراف بـ بحمة التحرير الوطني كمفاوض وحيد ووقف العمل العسكري".

المرجع: الملخص في تاريخ الجزائر، صالح فركوس، ص 275-276.

المطلوب:

(1) اشرح ما تحته خط في النص.

(2) عرّف بالشخصيات التالية:

جون كيندي - زيغود يوسف - نكيثا خروتشوف.

(3) أكمل الجدول التالي:

التاريخ	الحدث
.....	إعلان مبدأ ترومان
23 مارس 1954 م
.....	انعقاد قمة مالطا

الجزء الثاني: (04 نقاط)

دخلت الثورة الجزائرية بعد عام 1956م مرحلة جديدة من الكفاح، نجاح عسكري ودبلوماسي، ممَّا جعل السلطات الاستعمارية تلجأ الى مختلف الوسائل للقضاء عليها.

المطلوب: انطلاقا من العبارة واعتمادا على ما درست، اكتب مقالا تاريخيا تبين فيه:

(1) مظاهر النّجاح العسكري والدبلوماسي للثورة بعد عام 1956م.

(2) ردّ فعل الاستعمار اتجاه الثورة.

الجغرافيا:

الجزء الأول: (06 نقاط)

"...عرفت فترة الثمانينيات وبداية التسعينيات جهودا كبيرة في مجال التنمية سنّتها الدول الكبرى انطلاقا من فكرة تدعيم الأسواق التي تجعل مجمل البلدان الفقيرة على عتبة النمو الاقتصادي... واعتبرت النظام العالمي الجديد -العولمة- كمحرك جديد للتقدم والرفاه الاقتصادي على المستوى العالمي، وكان الاعتقاد السائد أنه بإمكان البلدان الفقيرة أن تشرع في النمو الاقتصادي إذا ما اعتمدت أساليب التحكم في التسيير القائم على تحرير الأسواق واتباع الخصوصية..."

المرجع: الكتاب المدرسي، السنة الثالثة الثانوي مادة الجغرافيا، ص154

■ المطلوب: اشرح ما تحته خط في النص.

إليك جدولا يمثل قيمة صادرات السلع ونسبة المساهمة العالمية لبعض القوى الاقتصادية في العالم عام 2017م.

الوحدة: مليار دولار

البلد	الصين	الو.م.أ	ألمانيا	اليابان	فرنسا	إيطاليا
قيمة الصادرات	5503	12.7	1001	091	232	260
النسبة العالمية	15.1 %	1.7%	1.5 %	3.9 %	3%	5.9%

المصدر: احصائيات المنظمة العالمية للتجارة. 2018م

المطلوب:

- 1) علّق على المعطيات الإحصائية الواردة في الجدول.
- 2) على خريطة العالم المرفقة وقّع ثلاث دول واردة في الجدول.

الجزء الثاني: (04 نقاط)

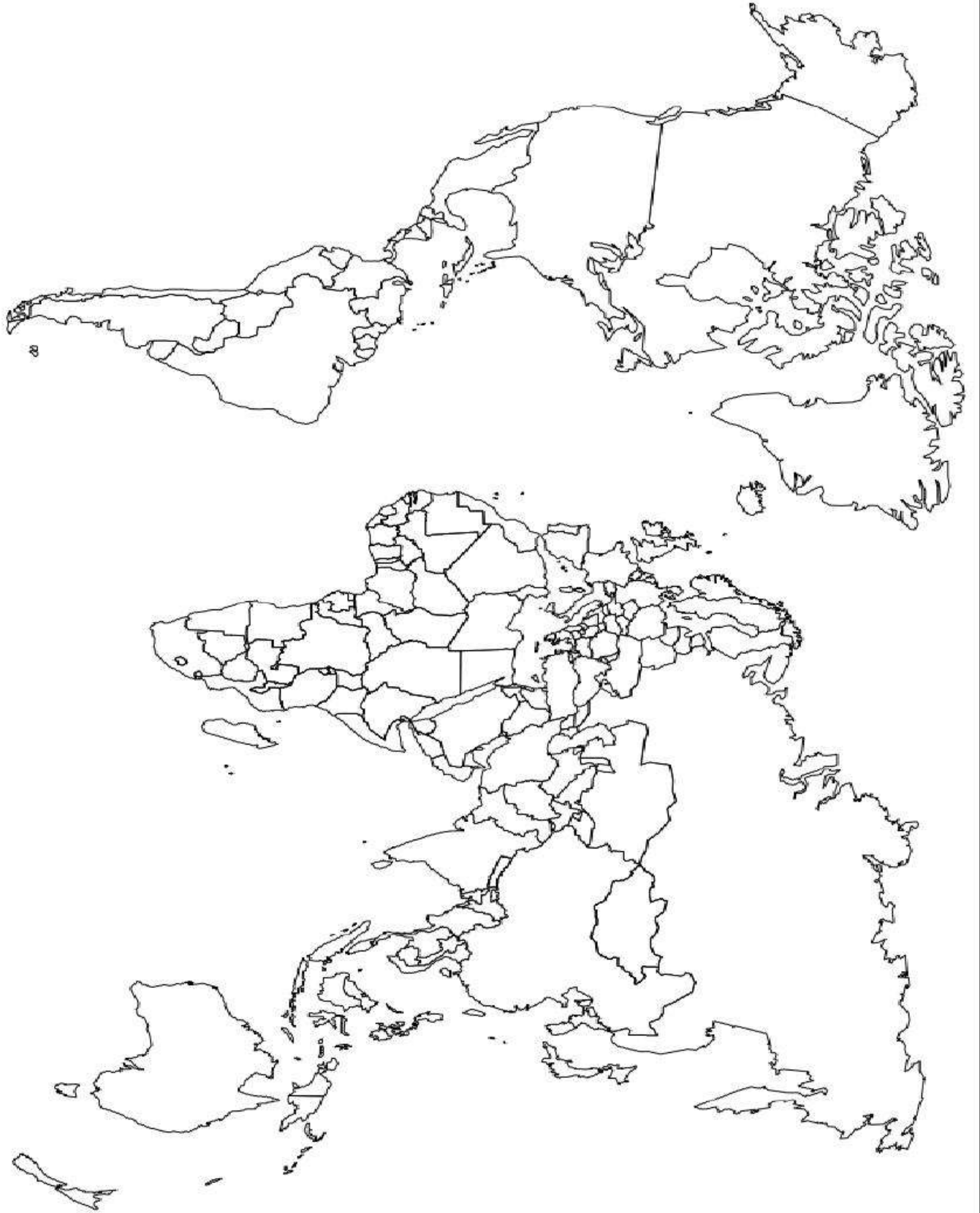
يمثل البناء المشترك الذي يميز الاتحاد الأوروبي عن بقية الثالوث الاقتصادي دعامة أساسية للقوة الأوروبية بما يتضمنه من أهداف وما قطعه من مراحل وما يستند إليه من سياسات مشتركة متنوعة.

المطلوب:

انطلاقا من العبارة واعتمادا على ما درست، أكتب مقالا جغرافيا تبين فيه:

- 1) دور التكتل في تحقيق القوة الاقتصادية للاتحاد الأوروبي.
- 2) المعوقات التي واجهت هذا التكتل.

خريطة العالم



انتهى الموضوع الأول

ينجز العمل المطلوب على الخريطة وتعاد مع أوراق الإجابة

الموضوع الثاني

التاريخ:

الجزء الأول: (06 نقاط)

"...كان للتناقض الإيديولوجي بين القطبيين أثره البالغ في تعميق هوة الخلاف بينهما، فقد أدى ذلك الخلاف الإيديولوجي إلى انقسام دول العالم المتقدم إلى كتلتين رئيسيتين، الكتلة الغربية الرأسمالية تتزعمها الولايات المتحدة الأمريكية...الكتلة الشرقية الشيوعية يتزعمها الاتحاد السوفياتي وتمثلت خطورة هذه التكتلات بالأخص في إنشاء الأحلاف العسكرية على غرار حلف شمال الأطلسي وحلف وارسو..."

المرجع: د. إيناس سعدي عبد الله، الحرب الباردة - دراسة تاريخية للعلاقات الأمريكية-السوفياتية

المطلوب:

(1) اشرح ما تحته خط في النص.

(2) عرّف بالشخصيات التالية:

ليونيد بريجنيف - دوايت أيزنهاور - مصطفى بن بولعيد.

(3) على خريطة أوروبا المرفقة، وقّع أسماء ثلاث دول عضوة في الحلف الأطلسي وثلاث دول عضوة في حلف وارسو.

الجزء الثاني: (04 نقاط)

"إنّ النظام الدولي السابق ذي القطبية الثنائية، والذي هيمن على العلاقات الدولية لأكثر من أربعة عقود، قد انتهى عمليا بتدهور الاتحاد السوفياتي وتفككه ومعه المعسكر الشيوعي، لتبقى الولايات المتحدة كدركي وحيد في العالم، وقوة الاستقطاب الوحيدة في العالم كله، وخصما وحكما وحيدا فيه."

المطلوب:

انطلاقا من العبارة واعتمادا على ما درست، اكتب مقالا تاريخيا تبين فيه:

(1) ملامح النظام الدولي الجديد.

(2) مؤسساته الفاعلة.

الجغرافيا:

الجزء الأول: (06 نقاط)

"...كانت الشركات متعدّدة الجنسيّات تحتكر المحروقات إنتاجا وتسويقا وأسعارا... وكان كارتل الأخوات السبع الذي تأسس في عام 1928 يعمل على نهب بترول الشرق الأوسط ... وتخفيض الأسعار في خدمة اقتصاديات الدول الرأسمالية الكبرى ... وكانت فنزويلا قد دعت إلى ضرورة إنشاء منظمة الأوبك لمحاربة الاحتكارات..."

المرجع الكتاب المدرسي (جغرافيا الوطن العربي والعالم) للسنة الثالثة ثانوي طبعة 2003 ص 313.

المطلوب:

(1) اشرح ما تحته خط في النص.

إليك جدولا يمثل كمية الإنتاج لبعض المحاصيل الزراعيّة والرتبة العالميّة للولايات المتحدة الأمريكية عام 2016م.

الوحدة: مليون طن

المنتوج	القمح	الذرة	القطن	الصوجا	الحوامض
الإنتاج	62.8	384.7	3.6	117.2	10
الرتبة العالمية	5	1	3	1	3

المرجع: منظمة الأغذية والزراعة FAO 2017

المطلوب:

(1) مثل كمية الإنتاج الزراعي بواسطة أعمدة بيانية بمقياس: 1سم لكل 50مليون طن.

1سم لكل عمود (منتوج).

(2) علّق على المعطيات الإحصائية الواردة في الجدول.

الجزء الثاني: (04 نقاط)

يتميّز المجال العالمي بتفاوت واضح في التّقدم الاقتصادي والاجتماعي المرتبط بعوامل اقتصادية واجتماعية.

المطلوب:

انطلاقا من العبارة واعتمادا على ما درست، أكتب مقالا تاريخيا تبين فيه:

(1) عوامل التّفاوت بين الشّمال والجنوب.

(2) مظاهر التّفاوت الاقتصادي والاجتماعي بين العالمين.

خريطة أوروبا



ينجز العمل المطلوب على الخريطة وتعاد مع أوراق الإجابة

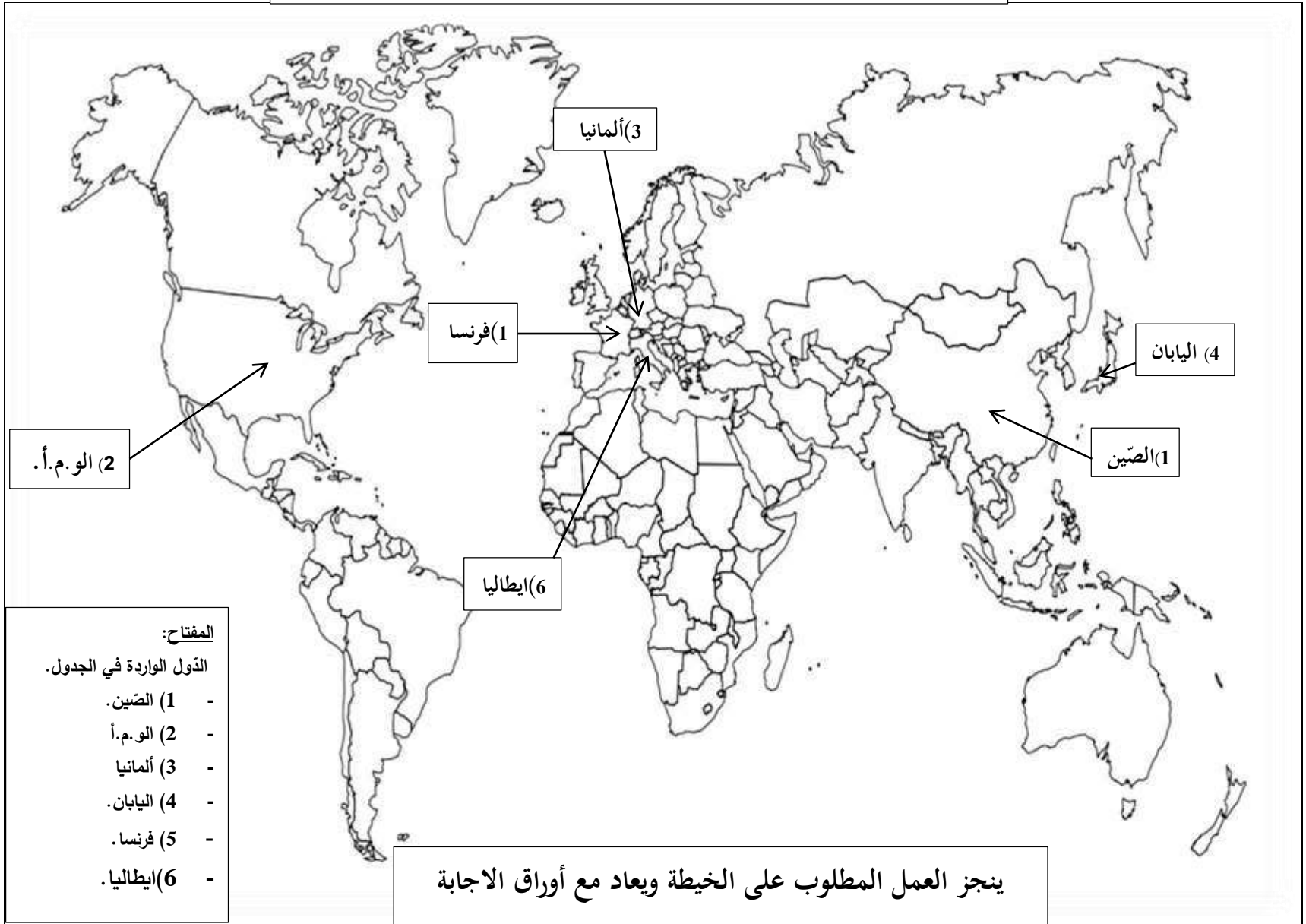
انتهى الموضوع الثاني

العلامة		عناصر الإجابة (الموضوع الأول)								
مجموعة	مجزأة									
06		<p>التاريخ</p> <p>الجزء الأول:</p> <p>(1) شرح ما تحته خط في النص:</p> <p>❖ سلم الشجعان: مناورة سياسية أطلقها ديغول 1958/10/23 تقضي باستسلام الثوار وتسليم أسلحتهم مقابل ضمان سلامتهم والتفاوض معهم ويهدف إلى اختراق الثورة وتشتيت صفوفها...</p> <p>❖ تقرير المصير: مشروع سياسي تقدم به شارل ديغول في 1959/09/16 يعترف فيه بحق الشعب الجزائري في تقرير مصيره وفق شروط فرنسية رفضتها الثورة ...</p> <p>❖ جبهة التحرير الوطني: تنظيم سياسي ثوري جزائري تأسس خلال اجتماع 1954/10/23 قاد الثورة التحريرية إلى غاية الاستقلال (1954 - 1962) وهو الممثل الوحيد والشرعي للشعب الجزائري.</p> <p>(2) التعريف بالشخصيات:</p> <p>❖ جون كنيدي: رئيس الو.م.أ (1961 - 1963) شهدت فترة حكمه أزمة كوبا 1962، وسباق غزو الفضاء، دافع عن حقوق السود في الو.م.أ، اغتيل في دلاس عام 1963...</p> <p>❖ زيغود يوسف: (1921 - 1956) شهيد جزائري كان مناضلا في حزب الشعب الجزائري ثم المنظمة الخاصة ، عضو في مجموعة 22 ، من مفجري الثورة ، قائد المنطقة الثانية بعد استشهاد ديدوش مراد، قاد هجومات الشمال القسنطيني 1955/08/20 وحضر مؤتمر الصومام في اوت 1956 ، استشهد في 23 سبتمبر 1956.</p> <p>❖ نيكيتا خروتشوف: رئيس الاتحاد السوفياتي (1953 - 1964) بعد وفاة ستالين ضمن القيادة الثلاثية، صاحب مبادرة التعايش السلمي، عرفت فترة حكمه عدة أزمات منها: قناة السويس، برلين الثانية، كوبا....</p> <p>(3) إكمال جدول الاحداث والتواريخ التالية:</p> <table><tr><th>الحدث</th><th>تاريخه</th></tr><tr><td>إعلان مبدأ ترومان</td><td>1947/03/12</td></tr><tr><td>تأسيس اللجنة الثورية للوحدة والعمل</td><td>1954/03/23</td></tr><tr><td>انعقاد قمة مالطا</td><td>1989/12/04/03</td></tr></table>	الحدث	تاريخه	إعلان مبدأ ترومان	1947/03/12	تأسيس اللجنة الثورية للوحدة والعمل	1954/03/23	انعقاد قمة مالطا	1989/12/04/03
	الحدث	تاريخه								
	إعلان مبدأ ترومان	1947/03/12								
	تأسيس اللجنة الثورية للوحدة والعمل	1954/03/23								
	انعقاد قمة مالطا	1989/12/04/03								
	0.75									
	0.50									
	0.75									
	0.50									
	01,00									
0.50										
0.75										
0.75										
0.50										
(تقبل كل الإجابات الصحيحة الأخرى)										

العلامة		عناصر الإجابة (الموضوع الأول)
مجموعة	مجزأة	
04	0.50	<p>الجزء الثاني:</p> <p>مقدمة: العالم الثالث بين كونه ميدانا لصراع المعسكرين ودوره في التخفيف من خطورته.</p> <p>(تقبل كل مقدمة وظيفية تخدم الموضوع)</p> <p>(1) مظاهر الصراع بين المعسكرين في العالم الثالث:</p> <p>❖ إنشاء الأحلاف العسكرية في العالم الثالث منها: حلف جنوب شرق آسيا 1954 وحلف بغداد 1955.</p> <p>❖ إقامة القواعد العسكرية في بعض دول العالم الثالث (كوريا ، كوبا ، تركيا...)</p>
	×0.25 6	<p>❖ الإعلان عن مشروع إيزنهاور 1957 وتطبيق سياسة ملء الفراغ.</p> <p>❖ الالتزامات التي عرفتتها دول العالم الثالث (كوبا، الهند الصينية، والسويس...).</p> <p>❖ التدخلات العسكرية (الو.م.أ في الفيتنام 1965 والاتحاد السوفياتي في أفغانستان 1979...).</p> <p>❖ تدبير الانقلابات والاعتقالات (إيران، الكونغو، الشيلي...).</p>
	×0.25 6	<p>(2) دور العالم الثالث في التخفيف من حدة الصراع بين المعسكرين:</p> <p>❖ تبني سياسة الحياد الإيجابي (باندونغ 1955).</p> <p>❖ تأسيس حركة عدم الانحياز (بلغراد 1961).</p> <p>❖ دعم سياسة التعايش السلمي والانفراج الدولي.</p> <p>❖ دعم جهود الأمم المتحدة من أجل تحقيق السلم والامن الدوليين.</p> <p>❖ رفض سياسة القواعد والأحلاف العسكرية والمشاريع الاقتصادية (مشروع إيزنهاور).</p> <p>❖ رفض سياسة السباق نحو التسليح النووي.</p>
	0.50	<p>خاتمة: ساهمت دول العالم الثالث في التخفيف من حدة الصراع وتدعيم أسس التعايش السلمي.</p> <p>(تقبل كل خاتمة وظيفية تخدم الموضوع)</p> <p>الجغرافيا</p> <p>الجزء الأول:</p> <p>(1) شرح ما تحته خط في النص:</p> <p>❖ التنمية: مختلف التدابير والإجراءات التي تقوم بها الدول في جميع المجالات، وذلك بحسن استغلال الموارد الاقتصادية والبشرية المتاحة لتحقيق التطور الاقتصادي والاجتماعي.</p>
	0.75	<p>❖ العولمة: تعني الشمولية أي انتشار نفس النمط الاقتصادي والسياسي والثقافي على المستوى العالمي (مثلا: النمط الأمريكي) أوهي توجه عالمي نحو إزالة كل الحواجز أمام تنقل السلع والخدمات والثقافات وسهولة الاتصال.</p>
	0.50	<p>❖ الخصوصية: الانتقال الجزئي أو الكلي للمنشآت العامة من القطاع العام إلى القطاع الخاص إما عن طريق التنازل أو البيع أو الشراء ...</p> <p>(تقبل كل الإجابات الصحيحة الأخرى)</p>

العلامة		عناصر الإجابة (الموضوع الأول)
مجموعة	مجزأة	
06	×0.50 4	<p>(2) <u>التعليق على المعطيات الواردة في الجدول الذي يمثل قيمة صادرات السلع نسبة المساهمة العالمية لبعض القوى الاقتصادية في العالم عام 2017:</u></p> <p>❖ معظم الدول المصدرة الواردة في الجدول تنتمي إلى العالم المتقدم.</p> <p>❖ تباين نسب مساهمة الدول في الصادرات العالمية.</p> <p>❖ تساهم دول الاتحاد الأوروبي الثلاث (14.1%) من حجم الصادرات العالمية.</p> <p>❖ بروز الصين كقوة تجارية واحتلالها المرتبة الأولى من نسبة الصادرات العالمية.</p>
		<p>(3) <u>التوقع على خريطة العالم المرفقة ثلاث دول واردة في الجدول:</u></p> <p>- الإنجاز: 01.50 ن - المفتاح: 0.25 ن - العنوان: 0.25 ن</p>
		<p><u>الجزء الثاني:</u></p> <p>مقدمة: رغم أهمية البترول إلا أنّ تذبذب أسعاره انعكس سلبا على الدول التي تعتمد عليه في الدخل القومي.</p>
		<p>(1) <u>أهمية البترول بالنسبة للدول المصدرة له:</u></p> <p>❖ مصدر رئيسي للطاقة ومحرك أساسي لاقتصاد الدول المصدرة له.</p> <p>❖ مصدر مهم للدخل وتمويل مختلف المشاريع التنموية من خلال استقطاب الاستثمارات.</p> <p>❖ مادة أولية للكثير من الصناعات (تكرير البترول....)</p> <p>❖ تستخرج منه عدة مشتقات بترولية.</p> <p>❖ يوفر فرص العمل وامتصاص البطالة.</p> <p>❖ استغلت كوسيلة ضغط من طرف الدول المصدرة ويمكن ان تكون كذلك حاليا ومستقبلا.</p>
04	×0.25 6	<p>(2) <u>الآثار السلبية لتذبذب أسعاره على اقتصاد تلك الدول:</u></p> <p>❖ تراجع وانخفاض إيراداتها المالية.</p> <p>❖ الوقوع في أزمات اقتصادية واجتماعية وسياسية.</p> <p>❖ اللجوء إلى سياسة التقشف والاستدانة الخارجية (تفاقم مشكل المديونية).</p> <p>❖ التبعية إلى الخارج في عدة مجالات.</p> <p>❖ بطء النمو الاقتصادي و توقف الاستثمار و تجميد المشاريع الكبرى.</p> <p>❖ تراجع فرص العمل وتفاقم مشكلة البطالة.</p>
		<p><u>خاتمة:</u> ضرورة تنويع الصادرات ومصادر الدخل لتجنب خطر تذبذب أسعار البترول.</p>
		<p>(تقبل كل خاتمة وظيفية تخدم الموضوع)</p>
		<p>(تقبل كل الإجابات الصحيحة الأخرى)</p>

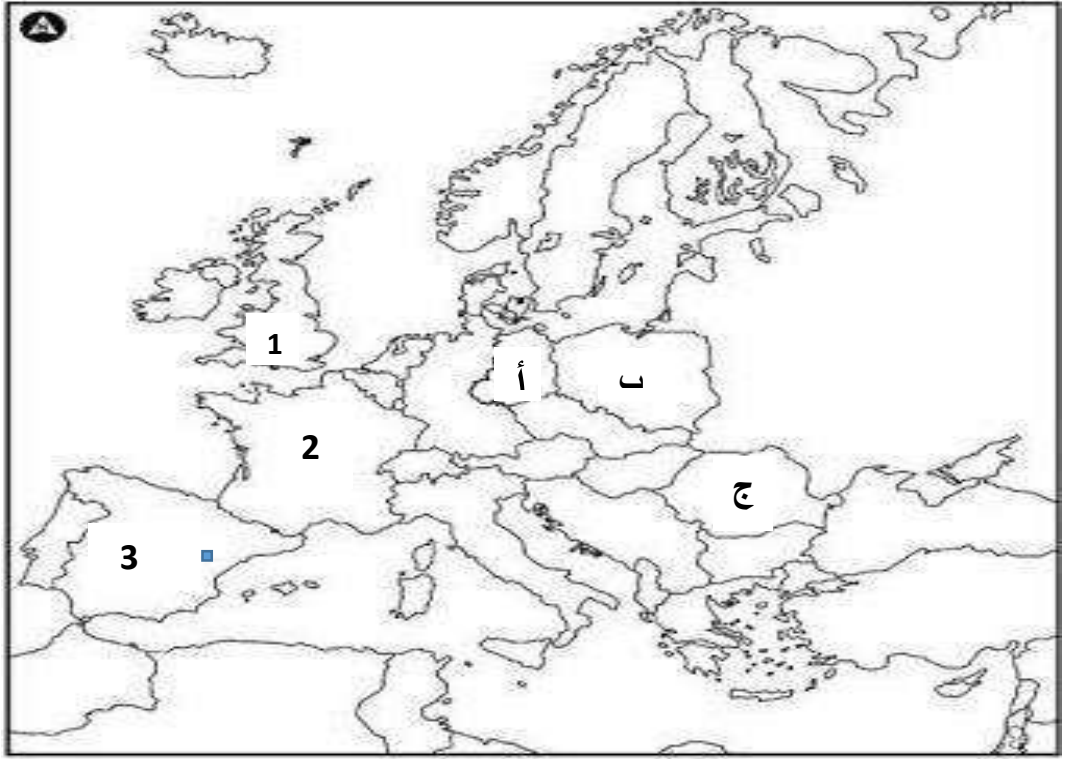
خريطة العالم تمثل 03 دول واردة في الجدول



العلامة		عناصر الإجابة (الموضوع الثاني)
مجموعة	مجزأة	
06		<p>التاريخ</p> <p>الجزء الأول:</p> <p>(1) شرح ما تحته خط في النص:</p> <p>❖ القطبين: الدولتان الكبيرتان المؤثرتان على العلاقات الدولية هما الولايات المتحدة الأمريكية التي تتزعم المعسكر الغربي الرأسمالي والاتحاد السوفييتي الذي يتزعم المعسكر الشرقي الشيوعي...</p> <p>❖ الخلاف الأيديولوجي: هو التباين والتناقض الفكري والمذهبي بين النظامين الرأسمالي القائم على الملكية الخاصة والحرية الاقتصادية والنظام الشيوعي القائم على الملكية الجماعية وتحكم الدولة في الاقتصاد (الاقتصاد الموجه) وهو السبب الرئيسي لصراع الحرب الباردة بين المعسكرين...</p> <p>❖ حلف شمال الأطلسي: تكتل عسكري يضم الدول الغربية الرأسمالية بزعامة الولايات المتحدة الأمريكية، تأسس في 1949/04/04 هدفه مواجهة الشيوعية والدفاع عن مصالح العالم الرأسمالي والدول الأعضاء، مقره بروكسل بلجيكا.</p> <p>(2) التعريف بالشخصيات التالية:</p> <p>❖ ليونيد بريجنيف: رئيس الاتحاد السوفييتي (1964 - 1982) له مبدأ باسمه، أبرم معاهدتي سالت 1 عام 1972 وسالت 2 عام 1979 تدخل عسكريا في عدة مناطق منها تشيكوسلوفاكيا وأفغانستان....</p> <p>❖ دوايت أيزنهاور: رئيس الولايات المتحدة الأمريكية (1953 - 1961) كان قائدا لأركان قوات الحلفاء خلال الحرب العالمية 2، صاحب مشروع عرف باسمه عام 1957 طبق سياسة ملء الفراغ، عرفت فترة حكمه عدة أزمات أبرزها السويس...</p> <p>❖ مصطفى بن بولعيد: (1917 - 1956) شهيد جزائري، ناضل في حزب الشعب الجزائري ثم المنظمة الخاصة ثم اللجنة الثورية للوحدة والعمل عضو في مجموعة 22 ومجموعة الستة من مفجري الثورة قائد المنطقة الأولى الأوراس، استشهد في 22 مارس 1956.</p> <p>(3) توقيع 03 دول عضوة في الحلف الأطلسي و03 عضوة في حلف وارسو على خريطة أوروبا.</p> <p>- الإنجاز 01.50 - المفتاح 0.25 - العنوان 0.25</p> <p>02</p>
	0.75	
	0.75	
	0.50	
	0.50	
	0.50	
	01,00	
		(تقبل كل الاجابات الصحيحة الأخرى)

العلامة		عناصر الإجابة (الموضوع الثاني)
مجموعة	مجزأة	
04	0.50	<p>الجزء الثاني:</p> <p>مقدمة: التعريف بأحداث 08 ماي 1945 ودورها في التعجيل باندلاع الثورة.</p> <p>(تقبل كل مقدمة وظيفية تخدم الموضوع)</p> <p>(1) أثر مجازر 08 ماي 1945 على الحركة الوطنية الجزائرية:</p> <ul style="list-style-type: none"> ❖ إصدار الاستعمار لمرسوم العفو العام في 16/03/1946 وبالتالي إطلاق سراح المعتقلين السياسيين الجزائريين. ❖ إعادة بناء الحركة الوطنية الجزائرية (حركة انتصار الحريات الديمقراطية، الاتحاد الديمقراطي للبيان الجزائري، جمعية العلماء المسلمين...). ❖ التأكد من حقيقة التوايا الاستعمارية المتمثلة في التمسك بالبقاء في الجزائر. ❖ تنامي التيار الاستقلالي الداعي إلى الكفاح المسلح (تأسيس المنظمة الخاصة 1947). ❖ التأكد من عقم النضال السياسي وحتمية العمل المسلح. ❖ لجوء الاستعمار الفرنسي إلى التهدة لضرب الحركة الوطنية ومحاولة احتوائها بإصدار قانون 1947/09/20. <p>(2) المحطات الرئيسية لاندلاع الثورة التحريرية:</p> <ul style="list-style-type: none"> ❖ تأسيس المنظمة الخاصة في 15/02/1947 ودورها في التحضير للثورة. ❖ تأسيس اللجنة الثورية للوحدة والعمل في 23/03/1954 لتوحيد صفوف حركة انتصار الحريات الديمقراطية والتحضير لتفجير الثورة. ❖ عقد اجتماع مجموعة 22 في 25/06/1954. ❖ اجتماع لجنة 06 في 23/10/1954 وتشكيل جبهة التحرير وجيش التحرير الوطني. ❖ إصدار بيان 01 نوفمبر 1954 (أول وثيقة للثورة التحريرية) ❖ تقسيم الجزائر إلى 05 مناطق عسكرية ثورية، وإعلان الثورة في 01 نوفمبر 1954. <p>خاتمة: مجازر 08 ماي 1945 منعرج حاسم في تغيير مسار النضال نحو الثورة المسلحة.</p> <p>(تقبل كل خاتمة وظيفية تخدم الموضوع)</p>
	6x0.25	
	6x0.25	
	0.50	
	0.75	<p>حغرافيا:</p> <p>(1) شرح ما تحته خط في النص:</p> <ul style="list-style-type: none"> ❖ المحروقات: يقصد بها البترول والغاز الطبيعي، وهي مواد أولية طاقوية استراتيجية تعتبر محركا أساسيا للاقتصاد العالمي. ❖ الدول الرأسمالية: يقصد بها القوى الاقتصادية الكبرى التي تتبنى النظام الرأسمالي الليبرالي الحر والتي تتحكم في الاقتصاد العالمي من خلال نفوذ شركاتها الاحتكارية وتحكمها في المؤسسات الاقتصادية والمالية العالمية. <p>(تقبل كل الاجابات الصحيحة الأخرى)</p>
	0.75	

العلامة		عناصر الإجابة (الموضوع الثاني)
مجموعة	مجزأة	
06	0.50	❖ <u>منظمة الأوبك</u> : منظمة الدول المصدرة للبترول تأسست في 10/09/1960 في مؤتمر بغداد (العراق) من طرف خمس دول هي: (العراق، فنزويلا، م.ع.السعودية، إيران والكويت) وتوسعت عضويتها لدول أخرى كالجائر ونيجيريا...هدفها مجابهة كارتل الشقيقات السبع، الدّفاع عن مصالح الدول الأعضاء ومقرها فيينا بالنمسا.
	02	(2) <u>أعمدة بيانية تمثل كمية انتاج بعض المحاصيل الزراعية في الو.م.أ عام 2016:</u> - الإنجاز: 1.25 - المفتاح: 0.25 - المقياس: 0.25 - العنوان: 0.25
	0.50x4	(3) <u>التعليق على المعطيات الاحصائية التي تمثل كمية انتاج بعض المحاصيل الزراعية والزّربية العالمية في الولايات المتحدة الأمريكية عام 2016:</u> ❖ تباين كمية الانتاج الزراعي في الو م أ. ❖ ضخامة الإنتاج الزراعي واحتلالها للمراتب الأولى عالميا. ❖ تنوع المحاصيل الزراعية للو. م. أ بين غذائية وتجارية. ❖ هيمنة الو. م. أ على الإنتاج العالمي للمحاصيل الغذائية الاستراتيجية كالذرة والقمح.
	0.50	<u>الحزب الثاني:</u> <u>مقدمة:</u> الاتحاد الأوربي بين قوة وثراء امكانياته والمعوقات التي تواجهه. (تقبل كل مقدمة وظيفية تخدم الموضوع)
04	6x0.25	(1) <u>عوامل القوة الاقتصادية للاتحاد الأوربي:</u> ❖ وفرة رؤوس الأموال وقوتها الاستثمارية. ❖ العامل التاريخي (الثورة الصناعية ، الاستعمار ، مشروع مارشال...).
	6x0.25	❖ التحكم في التكنولوجيا والبحث العلمي. ❖ سوق تجارية مثالية للتكامل والاندماج. ❖ توفر اليد العاملة المؤهلة واستقطاب الأدمغة المهاجرة. ❖ توفر شبكة مواصلات (برية، بحرية، نهريّة، جوية).
	6x0.25	(2) <u>المعوقات التي تواجه الاتحاد الأوربي:</u> ❖ التباين الاقليمي والتفاوت في النمو الاقتصادي بين بلدان الاتحاد الأوربي. ❖ الافتقار إلى المواد الأولية (الطاقة والمعادن). ❖ اشتداد المنافسة الداخلية (عدم احترام مبدأ الأفضلية) والخارجية مع بلدان آسيا والو.م.أ.
	0.50	❖ تراجع كبير في النمو الديمغرافي (الشّيوخوخة). ❖ التّعرض للاثمات المالية والاقتصادية... ❖ الهجرة نحو دول الاتحاد الاوربي من طرف شعوب أوربا الشّرقية والعالم الثّالث... <u>خاتمة:</u> يبقى الاتحاد الأوربي يشكل قوة اقتصادية عالمية رغم بعض المعوقات والتّحديات. (تقبل كل خاتمة وظيفية تخدم الموضوع) (تقبل كل الاجابات الصحيحة الأخرى)
العلامة		

مجموعة	مجزأة	عناصر الإجابة (الموضوع الثاني)								
		<p>توقيع 03 دول من الحلف الأطلسي و 03 دول من حلف وارسو على خريطة أوروبا</p> <div></div> <p>المفتاح :</p> <table><tr><th>دول الحلف الأطلسي :</th><th>دول حلف وارسو:</th></tr><tr><td>1- بريطانيا</td><td>أ- ألمانيا الشرقية</td></tr><tr><td>2- فرنسا</td><td>ب- بولونيا</td></tr><tr><td>3- اسبانيا</td><td>ج - رومانيا</td></tr></table> <p>ملاحظة:(تقبل كل الاجابات الصحيحة الأخرى)</p>	دول الحلف الأطلسي :	دول حلف وارسو:	1- بريطانيا	أ- ألمانيا الشرقية	2- فرنسا	ب- بولونيا	3- اسبانيا	ج - رومانيا
دول الحلف الأطلسي :	دول حلف وارسو:									
1- بريطانيا	أ- ألمانيا الشرقية									
2- فرنسا	ب- بولونيا									
3- اسبانيا	ج - رومانيا									

امتحان بكالوريا تجريبي في مادتي التاريخ والجغرافيا

المدة: 03 ساعات و نصف

الشعبة : علوم تجريبية و رياضيات

الموضوع الأول

1/ التاريخ

الجزء الأول: (06 نقاط)

"...ينقسم العالم المعاصر سياسيا إلى وحدات سياسية متعددة كالدول والمنظمات الدولية والإقليمية والشركات متعددة الجنسيات والمحاور والأحلاف العسكرية وحيث إن صراعات العالم هي بطبيعتها صراعات لا متناهية، إن الصراع بين الولايات المتحدة التي تتزعم الغرب الرأسمالي والاتحاد السوفياتي الذي يقود الشرق الاشتراكي هو صراع عسكري ونووي، وهو أيضا في جوهره صراع إيديولوجي... ويتصور الشرق أن الولايات المتحدة هي في الوقت الراهن أخطر الدول الرأسمالية لأنها قد برزت منذ نهاية الحرب العالمية الثانية كدولة إمبريالية راغبة في بسط سيطرتها على جميع دول العالم. و مصممة كذلك على محاربة حركات التحرر التي تطمح في إنهاء هيمنة القوى الاستعمارية والإمبريالية في العالم..." العالم المعاصر والصراعات الدولية، تأليف عبد الخالق عبدالله (ص 26)

1- اشرح المصطلحات التي تحتها خط في النص .

2- عرف بالشخصيات الآتية :- جمال عبد الناصر - دوايت أيزنهاور - جوزيف بروز تيتو .

3- أكمل الجدول التالي .

التاريخ	الحدث
05 جوان 1947
.....	انعقاد مؤتمر باندونغ
03 ديسمبر 1989

4- على خريطة العالم المرفقة وقع مقرات الأحلاف العسكرية الثلاث: اثنين للمعسكر الغربي وحلف واحد للمعسكر الشرقي

الجزء الثاني: (04 نقاط)

اتسمت فترة ما بعد الحرب العالمية الثانية بانتشار روح التحرر وثورات الاستقلال في العالم الثالث، لتتلقى دول هذا العالم دعما من المعسكرين وهكذا التقت مصالح القطبين في تحرير المستعمرات.

المطلوب : انطلاقا من العبارة واعتمادا على ما درست أكتب موضوعا تاريخيا تبين فيه :

1- دوافع المعسكرين من وراء تحرير دول العالم الثالث.

2- الوسائل التي سخرها المعسكران للحفاظ على مصالحهما.

2. الجغرافيا

الجزء الأول: (06 نقاط)

- 1- عرف المصطلحات التالية : منطقة اليورو .- تبييض الأموال .- قروض
- إليك جدولا يمثل مناطق إنتاج واستهلاك القمح حسب المناطق الجغرافية سنة 2010 وبالنسبة المئوية

المناطق	إفريقيا الشمالية	أمريكا الوسطى والشمالية	أمريكا الجنوبية	أقصى شرق آسيا	أوروبا	أوقيانوسيا	الشرق الأوسط	الاتحاد السوفيتي سابقا	العالم
الإنتاج %	3,4	13,3	3,7	34,8	21,6	4,3	6,2	12,6	100
الاستهلاك %	30,4	7,3	10,1	29,3	4,7	0,7	12,7	4,2	100

المصدر: Conseil International des Céréales 2012

المطلوب : آ- مثل نسب الإنتاج والاستهلاك بواسطة أعمدة بيانية وفي نفس المعلم وبسلم : 1 سم = 5%.

1 سم = منطقة (إنتاجا واستهلاكاً)

ب - علق على الجدول مبينا عوامل التطور السريع لاستهلاك القمح في العالم النامي .

الجزء الثاني: (04 نقاط)

تعتبر دول شرق وجنوب شرق آسيا قوة ديموغرافية و فضاء قويا للنمو الاقتصادي، إذ حققت معدلات نمو فاقت به أكثر البلدان تقدما، وهذا رغم التحديات التي تواجهها .

المطلوب : انطلاقا من الفقرة و اعتمادا على ما درست ، أكتب موضوعا جغرافيا تبرز فيه:

1 - دور استثمار العنصر البشري في تحقيق التطور الاقتصادي بدول شرق و جنوب شرق آسيا

2 - التحديات التي تواجه منطقة شرق وجنوب شرق آسيا.

خريطة العالم



ينجز العمل المطلوب على الخريطة وتعاد مع أوراق الإجابة

امتحان بكالوريا تجريبي في مادتي التاريخ والجغرافيا

المدة: 03 ساعات و نصف

الشعبة : علوم تجريبية و رياضيات

الموضوع الثاني

التاريخ :

الجزء الأول : (06 نقاط)

- 1- إشرح المصطلحات التالية :
القطبية الثنائية - سلم الشجعان - الإنتفاضة
- 2- عرف الشخصيات التالية : محمد بوضياف - كريم بلقاسم - ياسر عرفات
- 3- إليك التواريخ التالية : 15 فيفري 1947 - 01 نوفمبر 1954
20 أوت 1955 - 19 سبتمبر 1958

- بين الأحداث المرتبطة بهذه التواريخ
- أربط العلاقة بين هذه الأحداث .

الجزء الثاني : (04 نقاط)

ما إن إعتلى ميخائيل غورباتشوف سدة الحكم في مارس 1985 خلفا لسلفه تشيرنينكو حتى سارع إلى إحداث تغيرات بارزة في السياسة السوفياتية عرفت بالبيريسترويكا .

المطلوب :

- إعتمادا على ما درست أكتب مقالا تاريخيا تبين فيه :
- 1- الظروف المحيطة بإصلاحات غورباتشوف .
 - 2- إنعكاساتها على الإتحاد السوفياتي والعالم

الجغرافيا :

الجزء الأول : (06 نقاط)

1- حدد مفهوم المصطلحات التالية : الثالوث الإقتصادي العالمي – الشركات المتعددة الجنسيات الناتج الداخلي الخام .

2- إليك جدول نسب مساهمة بعض الدول الآسيوية في التجارة العالمية لسنة 2001 .

الدولة	الصين	كوريا الجنوبية	هونغ كونغ	أندونيسيا	اليابان	ماليزيا	الفلبين	سنغافورة	تاوان	تايلاندا
النسبة %	2.23	2.51	3.54	0.83	7.52	1.46	0.44	2.34	2.08	1.26

المصدر: الكتاب المدرسي

المطلوب :

- مثل نسب الجدول بأعمدة بيانية بمقياس 1 سم = 0.5 % 1 سم = عمود
- على خريطة آسيا المرفقة وقع الدول الآسيوية الأكثر مساهمة في التجارة العالمية الواردة في الجدول .

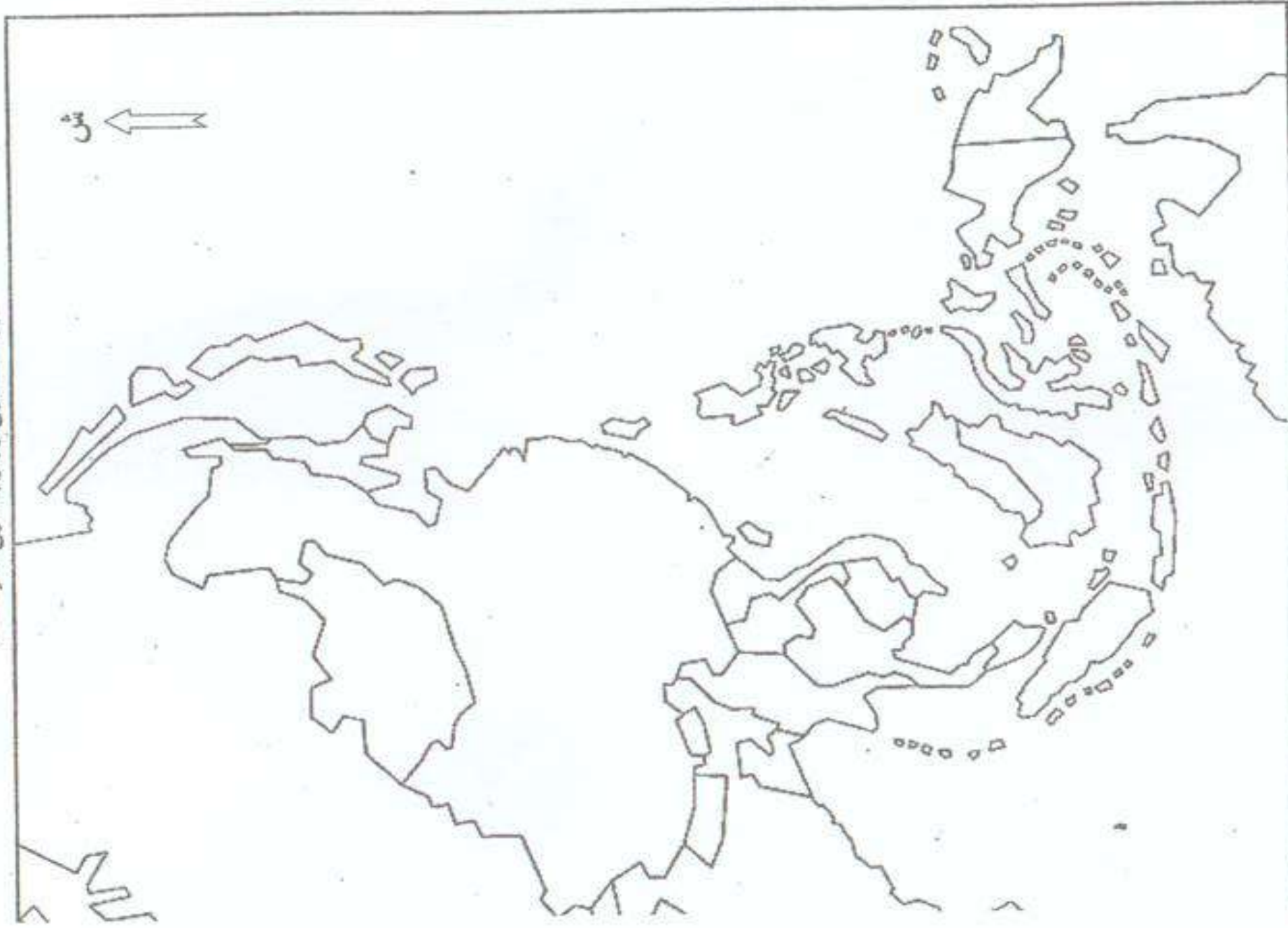
الجزء الثاني : (04 نقاط)

تمتلك دول الجنوب قوة ديمغرافية وإمكانيات طبيعية هائلة إلا أنها تواجه تخلفا إقتصاديا وإجتماعيا حادا.
المطلوب :

إعتمادا على ما درست أكتب موضوعا جغرافيا تبين فيه :

- 1- أثر الواقع الإقتصادي العالمي على دول الجنوب
- 2- بعض الحلول لخروج دول الجنوب من ظاهرة التخلف .

خريطة شرق وجنوب شرق آسيا



ينجز العمل المطلوب على الخريطة وتعاد مع أوراق الإجابة

الجمهورية الجزائرية الديمقراطية الشعبية

2016/2015

وزارة الدفاع الوطني السنة الدراسية :

دورة ماي 2016

أركان الجيش الوطني الشعبي

المادة: التاريخ والجغرافيا

دائرة الإستعمال و التحضير

مديرية مدارس أشبال الأمة

امتحان بكالوريا تجريبي في مادتي التاريخ والجغرافيا

المدة: 03 ساعات و نصف

الشعبة : علوم تجريبية و رياضيات

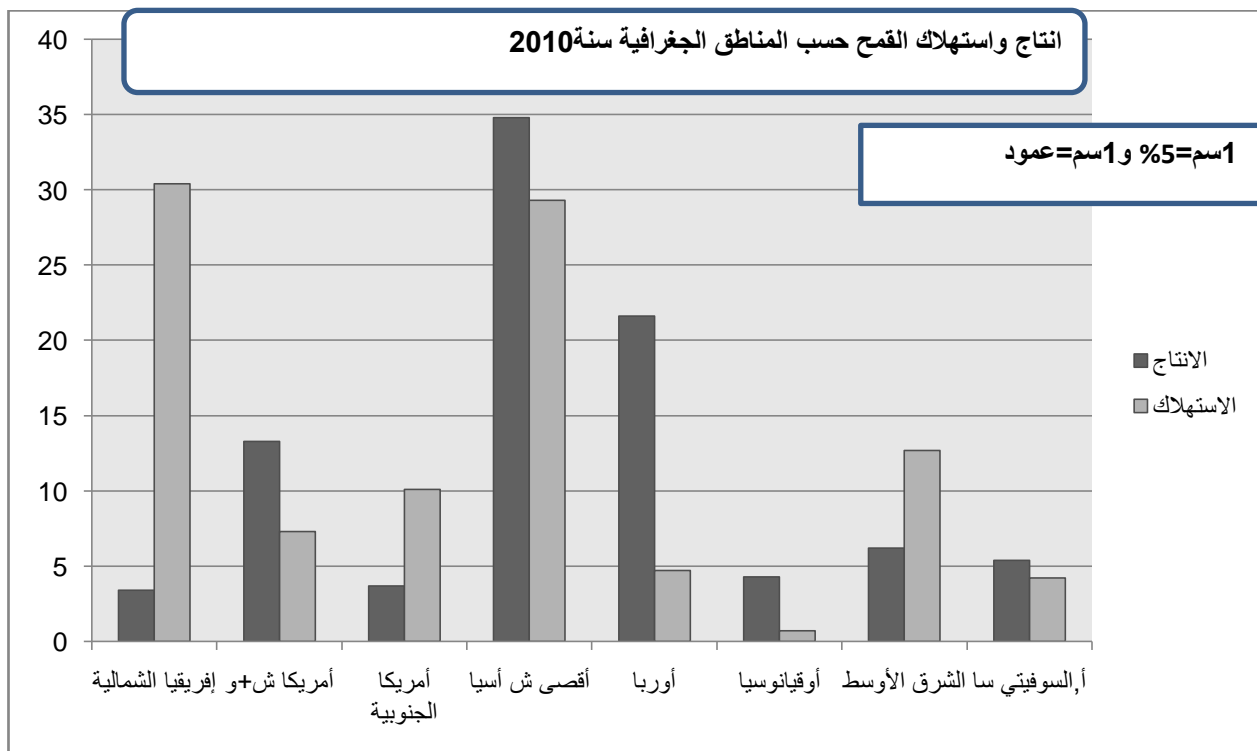
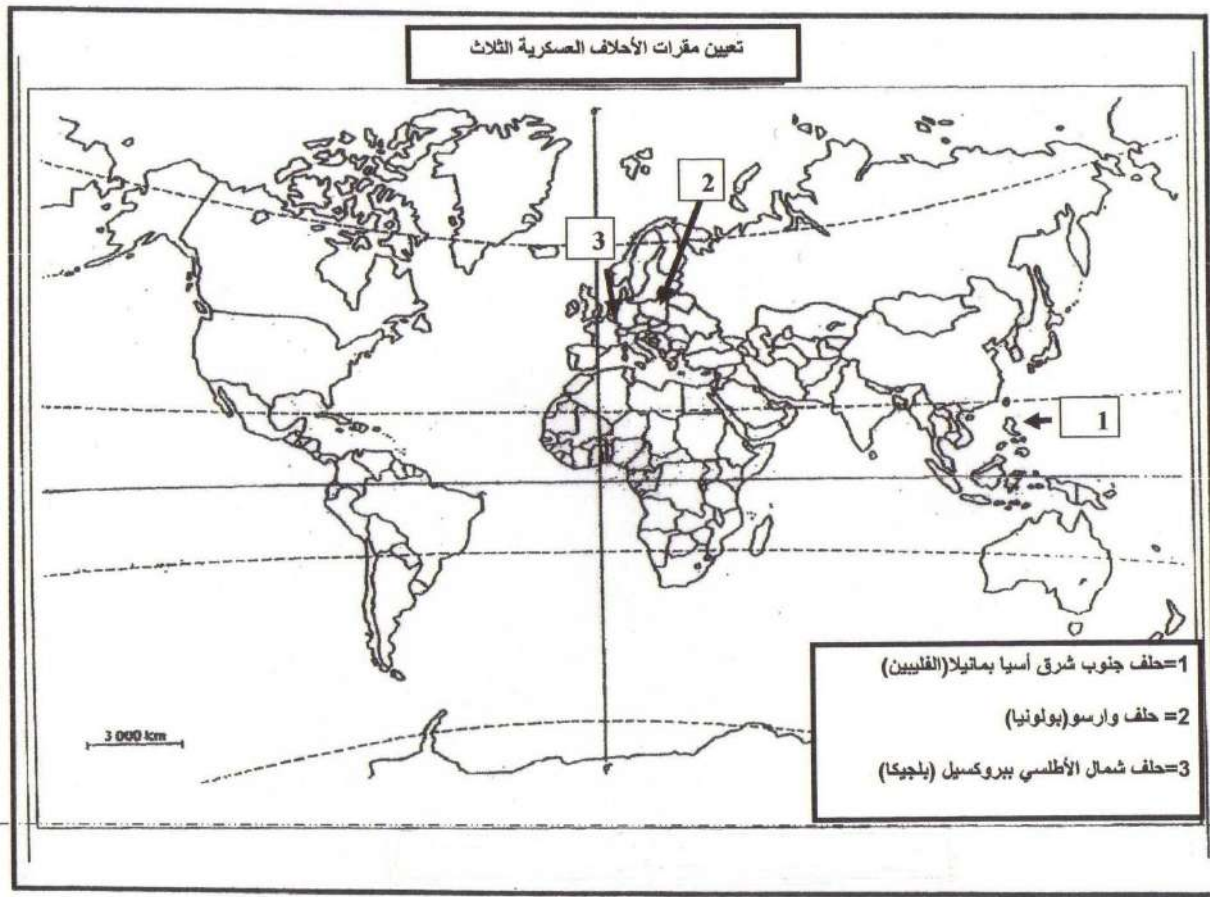
الإجابة النموذجية وسلم التنقيط لامتحان التجريبي الموضوع الأول

العلامة		عناصر الإجابة		محاور الإجابة						
المجموع	مجزأة	1/ التاريخ								
06	0,5	الجزء الأول (6ن)		1- التعريف بالمصطلحات						
	0,5	*سياسة الأحلاف : تعني الاعتماد على الأحلاف كأداة من أدوات السياسة بهدف حماية الأمن القومي لهذه الدول والدفاع مصالحها الوطنية ، ظهرت أثناء الحرب الباردة جمعت دولاً ذات مصالح مشتركة بزعامة إحدى القوتين ، أهمها: الحلف الأطلسي بزعامة الولايات المتحدة الأمريكية ، وحلف وارسو بزعامة الاتحاد السوفيتي.								
	0,5	الحركات التحررية: رد فعل شعبي أو نخبوي ضد التواجد الاستعماري اتخذ عدة أشكال سياسي أو عسكري، برزت بعد الحرب العالمية الثانية في كل من أفريقي وآسيا وأمريكا اللاتيني.								
	0,75	*الامبريالية : هي لون من ألوان الاستعمار الجديد ، و سياسة تقوم على علاقات السيطرة في مختلف المجالات تمارس من طرف قوة عظمى مهيمنة على دول ضعيفة.		2 – التعريف بالشخصيات :						
	0,75	جمال عبد الناصر: عسكري ورجل دولة ، زعيم الثورة المصرية 1952 ، ورئيس مصر من 1954 إلى 1970 ، ومؤمم قناة السويس 1956 ، ناصر الحركات التحررية خاصة الثورة الجزائرية كما كان أحد مؤسسي حركة عدم الانحياز .								
	0,5	دوايت ايزنهاور: عسكري ورجل دولة أمريكي و رئيس الولايات المتحدة الأمريكية بين 1953 و 1961 ، شغل منصب رئيس أركان قوات الحلفاء خلال الحرب ع 2 ، استجاب لدعوة خروتشوف للتعايش السلمي وأنهى الحرب الكورية ، كما جاء بسياسة ملء الفراغ .								
1,5	– جوزيف بروز تيتو: زعيم قومي ثوري ورجل دولة يوغسلافي ، قاد المقاومة ضد النازية وهو رئيس لجمهورية اليوغسلافية ، و أحد مؤسسي حركة عدم الانحياز والأمين العام الأول لها في 1961.		جدول الأحداث							
<table><tr><th>التاريخ</th><th>الحدث</th></tr><tr><td>05 جوان 1947</td><td>مشروع جورج مارشال بغرض مساعدة أوروبا والنهوض باقتصادها .</td></tr><tr><td>18-24 أفريل 1955م</td><td>انعقاد مؤتمر باندونغ</td></tr><tr><td>03-04 ديسمبر 1989 م</td><td>مؤتمر مالطا</td></tr></table>		التاريخ		الحدث	05 جوان 1947	مشروع جورج مارشال بغرض مساعدة أوروبا والنهوض باقتصادها .	18-24 أفريل 1955م	انعقاد مؤتمر باندونغ	03-04 ديسمبر 1989 م	مؤتمر مالطا
التاريخ	الحدث									
05 جوان 1947	مشروع جورج مارشال بغرض مساعدة أوروبا والنهوض باقتصادها .									
18-24 أفريل 1955م	انعقاد مؤتمر باندونغ									
03-04 ديسمبر 1989 م	مؤتمر مالطا									
01	توقيع الأحلاف العسكرية الثلاث (3*0,25)+العنوان (0,25)		3- التوقيع على الخريطة							

04	0,5	الجزء الثاني : (04نقاط) العالم الثالث بعد الحرب العالمية الثانية بين مواجهة القوى التقليدية وقوى الهيمنة والتوسع الأمريكية والسوفياتية أو أي مقدمة وظيفية 1-دوافع المعسكرين من وراء تحرير دول العالم الثالث أ. الأمريكية : - فتح أسواق العالم و تحرير التجارة أمام الشركات الاحتكارية . -استمرار تدفق النفط- محاربة الشيوعية وتطويقها. - دعم الأنظمة الموالية. ب. السوفياتية : - نشر أسواق جديدة للاتحاد السوفياتي . - العمل على حرمان الغرب من الهترول- -تشجيع قيام ثورات مناهضة للرأسمالية، - إقامة تحالفات مع الدول الوطنية ودعم الدول الموالية. 2-الأدوات التي سخرها المعسكرين : 1. الأحلاف العسكرية الجماعية والثنائية 2. إقامة قواعد عسكرية وتقديم المساعدات العسكرية. 3. المساعدات الاقتصادية لربط اقتصاديات دول العالم الثالث بعد نجاح دول العالم الثالث في إنهاء الظاهرة الاستعمارية التقليدية لم تسلم من سياسة الهيمنة والتوسع في إطار الثنائية القطبية.(أو أي خاتمة وظيفية)	المقدمة
	2,25		العرض
	0,75		
	0,5		الخاتمة

العلامة	عناصر الاجابة		محاور الإجابة
	مجزأة	2/ الجغرافيا	
06	0,75	الجزء الأول (6ن)	1- التعريف بالمصطلحات
	0,75	منطقة اليورو: مجموعة دول داخل الاتحاد الأوروبي اعتمدت عملة موحدة "الأورو" أنشئت سنة 1999 وبدا العمل بها في 2002/01/01 وتضم 18 دولة إلى غاية 2014 *تبييض الأموال: عملية تستهدف إضفاء الشرعية على أموال تم الحصول عليها من مصدر غير مشروع (تجارة أسلحة، تهريب، مخدرات...).	
	0,75	*قروض: استئانة مبالغ مالية من البنوك والمؤسسات المالية لأجل محددة مقابل نسبة من الفوائد -الانجاز 1,50ن	التمثيل البياني
	2,25	-العنوان: 0,25ن + -المفتاح: 0,25ن + -السلم 0,25ن	
06	1,5	-التعليق على الرسم (01ن): الإنتاج :- تحتل منطقة جنوب شرق آسيا الرتبة الأولى وخصوصا الصين والهند بحوالي 35% .- تستحوذ منطقة جنوب شرق آسيا والاتحاد الأوروبي وأمريكا الشمالية ومجموعة الاتحاد السوفياتي على جل الإنتاج العالمي ب 82% (الظروف الطبيعية الملائمة وعوامل بشرية تقنية ، مالية وإستراتيجية)، (0,50) الاستهلاك :- تحتل منطقة شمال أفريقيا الرتبة الأولى ب 30,4% من نسبة الاستهلاك العالمي تليها منطقة شرق آسيا ب 29% ثم تأتي منطقة الشرق الأوسط بحوالي 13% - تستحوذ المناطق الثلاث على ثلثي الاستهلاك العالمي بنسبة 72,5% (ضخامة الاستهلاك مرتبط بتزايد سكاني).(0,50)	2 -التعليق

04		<p align="center">الجزء الثاني : (04نقاط)</p> <p>الأهمية الإستراتيجية للتكتلات الاقتصادية الإقليمية بين دول أوروبا ومنطقة شرق وجنوب شرق آسيا في ظل تحديات العولمة(أو أي مقدمة وظيفية)</p> <p><u>1-دور استثمار العنصر البشري في تحقيق التطور الاقتصادي بدول شرق وجنوب شرق آسيا:</u></p> <p>-الافتداء بالنموذج الياباني في الاعتماد على الدعائم البشرية</p> <p>-وفرة القوى العاملة المتميزة (الكفاءة وانخفاض التكلفة) .</p> <p>02 - اتساع السوق الاستهلاكية(تخفيف التبعية لصادراتها)</p> <p>- سرعة التكيف مع التطور التكنولوجي الحاصل في العالم (التقليد والتجديد)</p> <p>- الاستفادة من المهاجرين في تدفق رؤوس الأموال و الاستثمارات</p> <p>-دخول مرحلة الانتقالية الديمغرافية (قلة الأعباء الاجتماعية)</p> <p><u>2-التحديات التي تواجه منطقة شرق وجنوب شرق آسيا:</u></p> <p>01 -شدة الاعتماد على الواردات من السلع الأولية في نمو إنتاجها الصناعي (المحروقات والمواد الخام)</p> <p>-التحدي السكاني.</p> <p>-تأثير الأزمة العالمية على اقتصادياتها (تراجع تدفق الاستثمارات الأجنبية المباشرة و الاحتياطات النقدية)</p> <p>0,5 -المنافسة الخارجية خاصة من طرف الاتحاد الأوروبي والولايات المتحدة</p> <p>على الرغم من المعوقات التي تواجه منطقة شرق وجنوب شرق آسيا إلا أن الإرادة تغلبت وتحققت التنمية الاقتصادية والاجتماعية لتلك الشعوب.(أو أي خاتمة وظيفية)</p>	المقدمة
	02		العرض
	01		
	0,5		الخاتمة



الجمهورية الجزائرية الديمقراطية الشعبية

السنة الدراسية: 2015/2016

دورة ماي 2016

المادة: التاريخ والجغرافيا

وزارة الدفاع الوطني

أركان الجيش الوطني الشعبي

دائرة الإستعمال و التحضير

مديرية مدارس أشبال الأمة

امتحان بكالوريا تجريبي في مادتي التاريخ والجغرافيا

المدة: 03 ساعات و نصف

الشعبة : علوم تجريبية و رياضيات

الإجابة النموذجية وسلم التنقيط لامتحان التجريبي الموضوع الثاني

التاريخ:

النقطة	الإجابة النموذجية	محاوـر الموضوع
0.75 0.75 0.5	القطبية الثنائية : إنقسام العالم إلى كتلتين متصارعتين هما : الكتلة الرأسمالية والكتلة الشيوعية. سلم الشجعان : مشروع جاء به الجنرال ديغول يقضي بأن يسلم المجاهدون أسلحتهم مقابل ضمانات أمنية الانتفاضة : شكل من أشكال مقاومة الفلسطينيين للإسرائيليين تعتمد على المظاهرات والمقاطعة.	الجزء الأول المصطلحات
0.75 0.75 0.5	- محمد بوضياف : سياسي جزائري عضو في المنظمة الخاصة منسق عام للثورة رئيس الجمهورية سنة 1992. - كريم بلقاسم سياسي جزائري عضو لجنة الستة من مؤسسي جبهة التحرير الوطني مثل الوفد الجزائري في مفاوضات إيفيان. ياسر عرفات : سياسي فلسطيني مؤسس حركة فتح قائد الثورة الفلسطينية ورئيس دولة فلسطين.	الشخصيات
4 X 0.25 01	15 فيفري 1947 : تأسيس المنظمة الخاصة. 01 نوفمبر 1954 : بداية الثورة التحريرية. 20 أوت 1955 : هجومات شمال قسنطينة. 19 سبتمبر 1958 تأسيس الحكومة المؤقتة العلاقة بين هذه الأحداث. - تمثل تطورات الثورة التحريرية. - تبين تكامل العمل السياسي والعسكري للثورة.	التواريخ

<p>0.5</p> <p>4 X 0.25</p> <p>4 X 0.25</p> <p>4 X 0.25</p>	<p>الإتحاد السوفياتي بين التشدد الشيوعي والرغبة في الإصلاحات وترتيب البيت الداخلي.</p> <p>1- الظروف المحيطة بإصلاحات غوربا تشوف:</p> <ul style="list-style-type: none"> - تباطؤ التنمية الاقتصادية في الإتحاد السوفياتي. - تراجع مستوى المعيشة للمجتمعات الشيوعية. - إرتفاع تكاليف الحرب الباردة وسباق التسلح. - بداية ظهور النزعة الإستقلالية لدى الدول الشيوعية. <p>2- إنعكاساتها على الإتحاد السوفياتي والعالم:</p> <p>أ - على الإتحاد السوفياتي:</p> <ul style="list-style-type: none"> - ظهور النزعة الإستقلالية داخل الإتحاد السوفياتي. - تدمير الترسانة النووية السوفياتية. - حل حلف وارسو ومنظمة كومكون. - تفكيك الإتحاد السوفياتي. <p>ب- على العالم:</p> <ul style="list-style-type: none"> - تغير السياسة السوفياتية إتجاه العالم الثالث. - سقوط الأنظمة الشيوعية في العالم. - تحول الصراع من حرب باردة إلى حرب ضد الإرهاب. - الإعتداء الأمريكي على أفغانستان والعراق. 	<p>الجزء الثاني : المقدمة</p> <p>العرض</p>
<p>0.5</p>	<p>كان لتفكك الإتحاد السوفياتي آثار سلبية على العالم الثالث والدول الشيوعية</p>	<p>لخاتمة</p>

الجغرافيا :

المحاور	الإجابة النموذجية	النقطة
الجزء الأول المصطلحات	<p>-الثالوث الإقتصادي العالمي : هو القوى الإقتصادية في العالم (الو.م.أ-إ.أ-ج.ش.أ)</p> <p>- الشركات المتعددة الجنسيات : شركات ذات أسهم ورؤوس أموال لها فروع في مختلف دول العالم.</p> <p>- الناتج الداخلي الخام : قيمة ما تنتجه مختلف القطاعات داخل البلد الواحد بالدولار.</p>	<p>0.75</p> <p>0.75</p> <p>0.5</p>
الرسم البياني	<p>- الإنجاز</p> <p>- المقياس</p> <p>- العنوان</p>	<p>1.5</p> <p>0.25</p> <p>0.25</p>
الخريطة	<p>- الإنجاز</p> <p>- العنوان</p>	<p>1.5</p> <p>0.5</p>
الجزء الثاني : المقدمة العرض	<p>دول الجنوب بين تردي أوضاعها الإقتصادية وجور النظام الإقتصادي العالمي.</p> <p>1- أثر الواقع الإقتصادي العالمي على دول الجنوب.</p> <p>- هيمنة المؤسسات الإقتصادية و المالية الكبرى.</p> <p>- التبعية المفرطة للعالم المتقدم.</p> <p>- الإستغلال المجحف لثروات دول الجنوب.</p> <p>- إثارة الحروب والنزاعات الإقليمية.</p> <p>- فقدان دول الجنوب لسيادتها الإقتصادية.</p> <p>- تدني مستوى المعيشة.</p> <p>2 - بعض الحلول لخروج دول الجنوب من التخلف.</p> <p>- إستغلال الإمكانيات.</p> <p>- القيام بإصلاحات جذرية.</p> <p>- خلق عاون جنون جنوب.</p>	<p>0.5</p> <p>6 X 0.25</p> <p>3 X 0.5</p>
الخاتمة	<p>يمكن لدول الجنوب أن تتخلص من الواقع الذي تعيش فيه لو توفرت لديها الإرادة السياسية وروح التعاون.</p>	<p>0.5</p>

الجمهورية الجزائرية الديمقراطية الشعبية

السنة الدراسية : 2015/2014
دورة : ماي 2015
المادة : تاريخ وجغرافيا
الشعبة : رياضيات و علوم تجريبية
المدة : 03 سا و 30 د

وزارة الدفاع الوطني
أركان الجيش الوطني
الشعبي
مديرية مدارس أشبال الأمة

الامتحان التجريبي في مادة التاريخ والجغرافيا

على المترشح أن يختار موضوعا واحدا

الموضوع الأول

1. التاريخ

الجزء الأول : (06 ن)

1. " ... لقد نجحت الثورة التحريرية في تعبئة الشعب الجزائري وإقناعه وتجنيدوه وهو تلك القوة خرج جيش التحرير الوطني وكذا جبهة التحرير اللذان حققا انتصارا كبيرا على العدو من خلال النشاط الدبلوماسي والعسكري على المستويين الداخلي والخارجي .
اشرح المصطلحات التي تحتها خط.
2. عرف الشخصيات التالية : * أحمد سوكارنو * فرحات عباس * فيدال كاسترو * زيغود يوسف.

3. أكمل الجدول بما يناسبه :

التاريخ	الحدث
1990-10-03	
	إنشاء المنظمة الخاصة
1989/12/04-03	
	إنشاء الحكومة المؤقتة

الجزء الثاني : (04 ن)

- " إن تاريخ حرب التحرير الجزائري يفوق بكثير بطولات جورج واشنطن محرر أمريكا ويفوق عظمة غاندي محرر الهند، ويفوق عبقرية جياپ بطل ديان بيان فو، إن هذه الحرب ستبقى أعجب فصل من كتاب تحرير الشعوب".
- د. عبد الله شريط : الثورة الجزائرية في الصحافة الدولية . 1962 ص 70 .

المطلوب : بناء على ما جاء في الوثيقة ودراستك أكتب مقالا تاريخيا تتناول فيه :

1. الأساليب المعتمدة من الثورة الجزائرية في تنظيم الطاقات البشرية وتأثير ذلك على مسار الثورة.
2. انعكاسات الانقلاب العسكري 13 ماي 1958 على استراتيجية فرنسا تجاه الثورة .

2. الجغرافيا

الجزء الأول : (06 ن)

1. اشرح المصطلحات التالية : * البورصة * التكتل * الوزن الديموغرافي .
2. إليك جدول نسب التبادل التجاري للاتحاد الأوروبي مع بعض مناطق العالم.

المنطقة التجارية	النسب المؤوية
دول أوروبية	17
وم أ	23
اليابان	10
الصين	07
الشرق الأوسط	07
جنوب شرق آسيا	06
بقية العالم	30

1. مثل نسب الجدول في دائرة نسبية بمقياس نق = 3 سم
2. علق على نسب الجدول .

الجزء الثاني : (04 ن)

تعد دول شرق وجنوب شرق آسيا مصنع العالم الجديد.

المطلوب : بناء على ما درست أكتب مقالا جغرافيا تتناول فيه :

1. الإستراتيجية المعتمدة من طرف دول المنطقة في التطور الاقتصادي.
2. المكانة الاقتصادية الدولية لشرق وجنوب شرق آسيا والعراقيل التي تواجهها.

بالتوفيق

الجمهورية الجزائرية الديمقراطية الشعبية

السنة الدراسية : 2015/2014
دورة : ماي 2015
المادة : تاريخ وجغرافيا
الشعبة : رياضيات و علوم تجريبية
المدة : 03 سا و 30 د

وزارة الدفاع الوطني
أركان الجيش الوطني
الشعبي
مديرية مدارس أشبال الأمة

الامتحان التجريبي في مادة التاريخ والجغرافيا

الموضوع الثاني

1. التاريخ

الجزء الأول : (06 نقاط)

"لم يكن الصدع الذي وقع بين حلفاء الحرب سببه زوال الخطر المشترك وإنما هو أمر حركته مبادئ وبواعث تعود في الأساس إلى مرجعيات متباينة سابقة للحرب ولم تتوقف أثناءها ثم برزت أكثر بعدها..... وإذا كان الطرف الأول صريحا في توضيح سياسة الاحتواء والاعتراف بالحرب الباردة كوضع قائم في العلاقات، فإن الطرف الثاني قد أقر بوجود معسكرين متصارعين... وظل كل فريق يتربص بالآخر سعيا لتوسيع دائرة نفوذه وبسط سيادته وفرض مذهبه. ولكنهم كانوا يدركون أن الذي سيكسب التحدي هو من سيقود العالم الثالث...."

الكتاب المدرسي يتصرف ص 16

1- عرف ما تحته خط.

2- عرف بالشخصيات الآتية : * هاري ترومان * ميخائيل غورباتشيف * فيدال كاسترو.

3- على خريطة العالم المرفقة وقع الدول دائمة العضوية في مجلس الأمن.

الجزء الثاني : (4 نقاط)

إن الولايات المتحدة انفردت بإرادة واحدة، ولم تشاركها وتوافقها أية أطراف دولية في تبني مشروع نظام دولي جديد، مستغلة ظروف دولية وإقليمية .

المطلوب : اعتمادا من العبارة واعتمادا على ما درست أكتب مقالا تاريخيا تبين فيه :

1-الظروف التي ظهر فيها النظام الدولي الجديد.

2-وسائل الهيمنة الأمريكية في توجيه النظام الدولي الجديد.

2. الجغرافيا

الجزء الأول : (06 نقاط)

"يعتبر الاتحاد الأوروبي قطبا من أقطاب الثالوث الاقتصادي العالمي... وعنصرا فاعلا في العولمة، وقد ينسج علاقات وطيدة مع دول الجنوب... يمكن اعتبار الاتحاد الأوروبي نموذجا للعديد من المناطق في العالم حيث نجد دولا لا تقوى على الاندماج في مسار العولمة بفعل تفككها وانقسامها وهي لا تعرف تعاونا فيما بينها إلا من خلال مناطق التبادل الحر ..".

الكتاب المدرسي - بتصرف ص 106

1. اشرح المصطلحات التي تحتها خط في الوثيقة.

2. إليك جدول تطور قيمة المبادلات التجارية بين بلدان جزأي العالم بين 1980 و 2005 (مليار دولار).

جزأي العالم	1980	1990	2000	2005
البلدان المتقدمة	1759	3464	5576	8339
البلدان المتخلفة	681	1001	2388	4197
مجموع العالم	2440	4465	7964	12536

المصدر: مؤتمر الأمم المتحدة للتجارة والتنمية (إحصائيات التجارة 2005) والمنظمة العالمية للتجارة 2006

المطلوب : 1. علق على الجدول.

2. بين واقع التجارة العالمية (المبادلات العالمية) في أربعة أسطر.

الجزء الثاني : (4 نقاط)

ينقسم العالم المعاصر إلى دول قوية متقدمة صناعيا وتقنيا وأخرى ضعيفة تعاني من التخلف الاقتصادي والتأخر العلمي، وتؤكد كافة الوقائع والحقائق أن هذا الواقع الذي يعيشه العالم المتخلف في ظل النظام الاقتصادي العالمي يزيد من الفجوة بين دول الشمال الغنية ودول الجنوب الفقيرة.

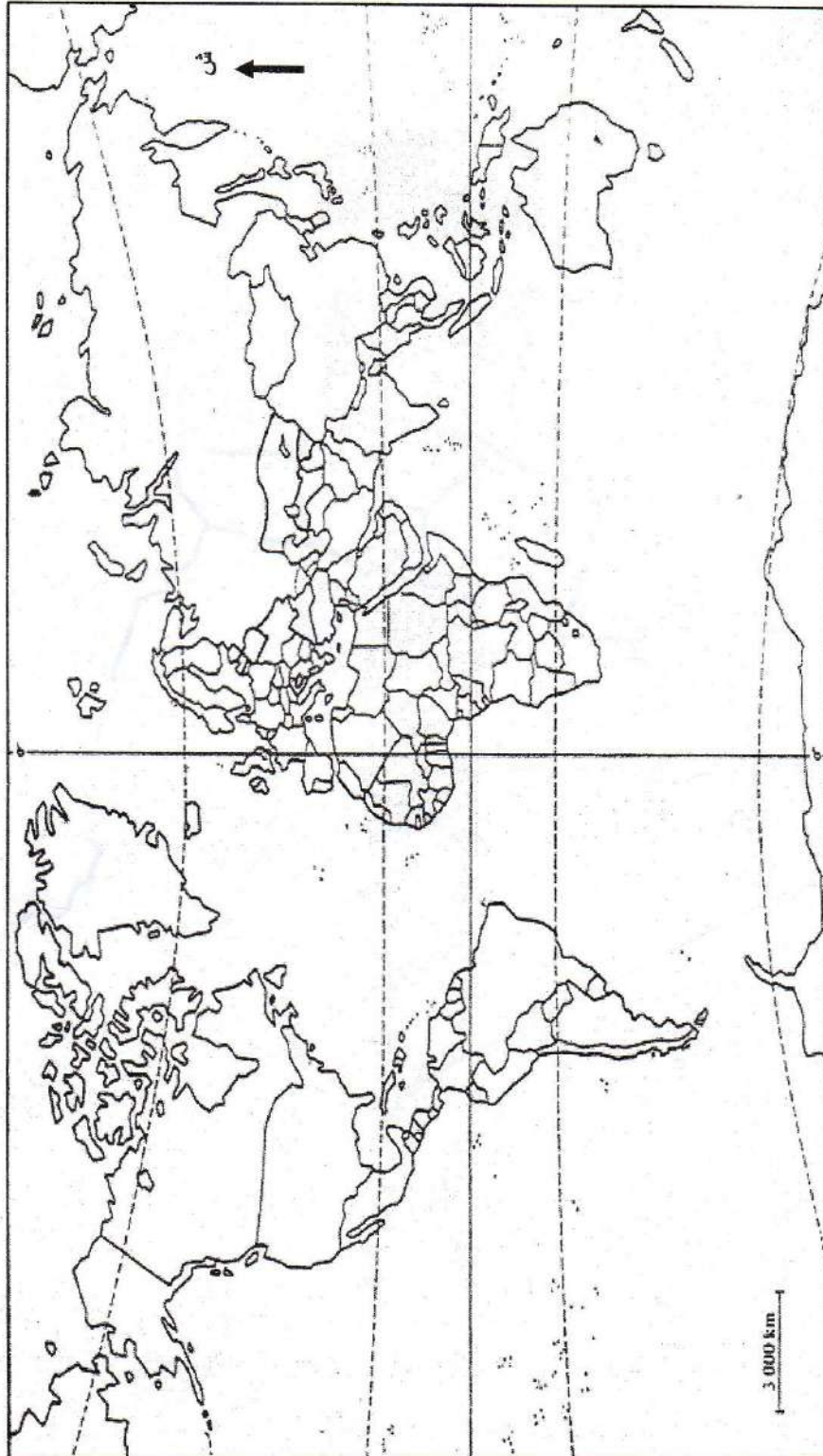
المطلوب : انطلاقا من العبارة واعتمادا على ما درست أكتب مقالا جغرافيا تبين فيه :

1. أثر الواقع الاقتصادي العالمي على دول الجنوب.

2. بعض الحلول للخروج بدول الجنوب من ظاهرة التخلف.

بالتوفيق

خريطة العالم



ينجز العمل المطلوب على الخريطة وتعاد مع أوراق الإجابة

الإجابة النموذجية وسلم التنقيط لامتحان التجريبي في مادة التاريخ والجغرافيا

الموضوع الأول

التاريخ:

النقطة	عناصر الإجابة	محاور الموضوع
0.5X4	<p>- الثورة التحريرية : مجموع الجهود العسكرية والسياسية التي شهدتها الجزائريين 54 و 62 بهدف الاستقلال .</p> <p>- التعبئة الشعبية : تجنيد الشعب الجزائري بمختلف الوسائل لإنجاح الثورة التحريرية .</p> <p>- جيش التحرير الوطني : القوة الضاربة للثورة التحريرية يتكون من مجاهدين فدائيين ومسبلين</p> <p>- النشاط الدبلوماسي الجهود التي بذلتها الثورة في مختلف عواصم العالم والمحافل الدولية لكسب الدعم السياسي</p> <p>- أحمد سوكرانو : سياسي أندونيسي رئيس لأندونيسيا المستقلة أحد الأعضاء المؤسسين لحركة عدم الانحياز.</p> <p>فرحات عباس : سياسي جزائري زعيم تيار الإدماج أول رئيس للحكومة المؤقتة للجمهورية الجزائرية .</p> <p>- فيدال كاسترو : قائد وسياسي كوبي قائد للثورة الكوبية تحالف مع السوفييات وهو أول رئيس لكوبا الشيوعية</p> <p>- زيغود يوسف : من شهداء الثورة الجزائرية</p> <p>تولى قيادة المنطقة الثانية ، قاد هجومات 20 أوت 1955 وهو عضو المجلس الوطني للثورة الجزائرية استشهد يوم 25-09-1956</p>	<p>المصطلحات</p> <p>الشخصيات</p>
0.5X4	<p>1990-10-03 توحيد الألمانيتين</p> <p>16/15 - 02 - 1947 انشاء المنظمة الخاصة</p> <p>04/03 - 12 - 1989 مؤتمر مالطا</p> <p>1985 - 09 - 19 إنشاء الحكومة المؤقتة</p>	الجدول
0.5	<p>إندلاع الثورة واعتماد استراتيجية داخلية وخارجية لإنجاحها</p> <p>1- الأساليب المعتمدة في تنظيم الطاقات البشرية .</p> <p>التعبئة الشعبية بواسطة :</p> <p>اللقاءات المباشرة - البيانات والمناشير - الصحف والجرائد - البث الإذاعي - دور المحافظ السياسي</p>	المقدمة العرض
01	<p>تأثير ذلك على مسار الثورة :</p> <p>- تزايد عدد أفراد جيش التحرير وأعضاء جبهة التحرير</p> <p>- الإلتفاف الشعبي حول الثورة</p> <p>2- انعكاسات الانقلاب العسكري على استراتيجيات فرنسا :</p> <p>- وصول الجنرال ديغول إلى الحكم في فرنسا</p> <p>- تنبيه سياسة عسكرية متشددة اتجاه الثورة .</p> <p>- محاولة فصل الشعب عن الثورة من خلال مشروع قسنطينة</p> <p>- سلم الشجعان ومحاولة تقسيم قادة الثورة</p> <p>- تبنيه مشاريع تقسيم مختلفة</p> <p>- اللجوء إلى التفاوض</p> <p>فشل سياسة ديغول ونجاح الثورة حتم على فرنسا الاعتراف بإستقلال الجزائر .</p>	الخاتمة

الجغرافيا :

النقطة		عناصر الإجابة	محاور الموضوع
06	0.75	البورصة سوق مالية رسمية يتم فيها تبادل الأسهم والسندات وشراء العملات وتحديد أسعار بعض المواد .	شرح المصطلحات
	0.75	- التكتل : اتحاد مجموعة دول في اتفاقية مدعم بهياكل عضوية تنظيمية موحدة	الدائرة النسبية
	0.5	- الوزن الديمغرافي : هو دور الطاقة البشرية في حركة الإقتصاد والتنمية	
	02	الإنجاز - 1.5 المفتاح - 0.25 العنوان - 0.25	
	02	- اختلاف نسب التبادل التجاري للاتحاد الأوروبي - تبادل دول الاتحاد الأوروبي بشكل رئيسي مع الأقطاب الإقتصادية الكبرى - ارتفاع نسبة التبادل مع المستعمرات 30 % - تبين النسب حيوية الإقتصاد الأوروبي	التعليق
	0.5	شرق وجنوب شرق آسيا بين حيوية العنصر البشري والامكانيات الإقتصادية.	المقدمة
04	01	1- الإستراتيجية المعتمدة : - تحسين ظروف التعليم والرعاية الصحية - الإستفادة من وفرة اليد العاملة - الإعتماد على المدن الصناعية الكبرى - إنخفاض الأجور والإنتاجية العالية	الخاتمة
	01	2- المكانة الإقتصادية لشرق وجنوب شرق آسيا : - احتكارها ل 24 % من حجم المبادلات التجارية - كثرة فروع الشركات الكبرى - استحواذها على ربع الثروة العالمية - إحتلالها للمراتب الأولى في العديد من الصناعات	
	01	* العراقيل التي تواجهها : - التلوث الصناعي - الكوارث الطبيعية - المنافسة مع الأقطاب العالمية - إنتشار الصناعات المقلدة	
	0.5	استثمار العنصر البشري هو الركيزة الأساسية في بناء اقتصاد دول شرق وجنوب شرق آسيا .	

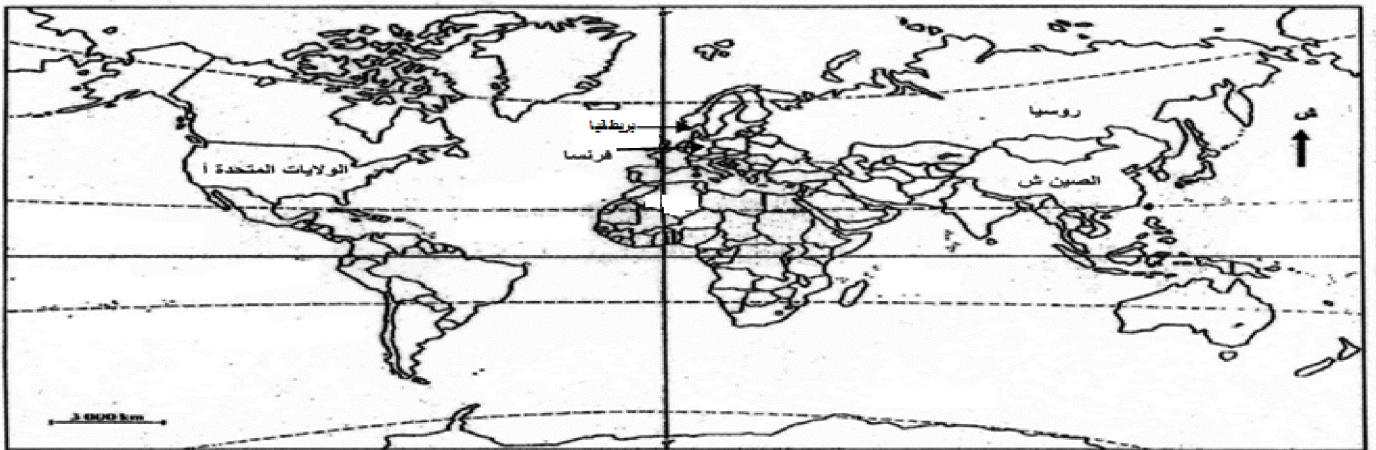
الموضوع الثاني

العلامة		عناصر الإجابة	محاوَر الإجابة
المجموع	مجزأة	1. التاريخ	
06	0,75	الجزء الأول (6) - سياسة الاحتواء: (التطويق): سياسة أمريكية إزاء الاتحاد السوفيتي ،بدأت في 1947 ، ترتكز على فكرة ترويض الاتحاد السوفيتي واحتواء سياسته التوسعية من خلال فرض حصار طويل الأمد .. - الحرب الباردة: يعني المصطلح حالة التصادم بين أيديولوجيتين (رأسمالية واشتراكية) في ظل تحضيرات عسكرية وتهديدات باستعمال القوة العسكرية امتد في الفترة بين 1945 إلى 1989.	1- التعريف بالمصطلحات
	0,75	-العالم الثالث: تسمية أطلقها العالم الفرنسي " الفرد سوفي" في 1952 ، يضم الدول المستقلة حديثا في آسيا ، أفريقيا وأمريكا اللاتينية تميزت بتخلفها وبطموحها للتنمية. *هاري ترومان : (1884-1972)عسكري و رجل دولة أمريكي و رئيس الولايات المتحدة من 1945 إلى 1953، وهو رمز من رموز الحرب الباردة وهو الذي أمر بإلقاء القتلتين الذريتين على مدينتي هيروشيما وناغازاكي اليابانيتين في 1945 .	2 - التعريف بالشخصيات :
	0,75	* ميخائيل غورباتشيف: (1931-؟)رئيس الاتحاد السوفيتي من 1985 إلى 1991 ومهندس الإصلاحات (فكرتا " البريسترويكا " و " الغلاسنوست ") ، كان وراء إنهاء الحرب الباردة مع المعسكر الرأسمالي عام 1989 .	3- التوقيع على الخريطة
	0,75	*فيدال كاسترو:(1927-؟) زعيم ثوري كوبي أطاح بنظام باتيستا ، أصبح رئيسا لكوبا في 07/01/1959 ، عزز علاقاته مع الاتحاد السوفيتي والصين ، ودعم حركات التحرر، تخلى عن الرئاسة لأسباب صحية .	المقدمة
	1,5	الدول دائمة العضوية في مجلس الأمن(5*0,25)+العنوان (0,25)	
	0,25	الجزء الثاني : (4نقاط) العلاقات الدولية من الثنائية إلى الأحادية القطبية والتي تمثلها الولايات المتحدة كدولة واحدة على قمة الهرم الدولي وتريد فرض هيمنتها على العلاقات الدولية (أو مقدمة مرتبطة بالموضوع).	العرض
	1,5	الظروف التي ظهر فيها النظام الدولي الجديد: - * سقوط حائط برلين وتطبيق إصلاحات في الاتحاد السوفيتي و شرق أوروبا تنذر بتحول نحو النظام اللبرالي . *انعقاد قمة مالطا بين الرئيسين جورج بوش الأب وميخائيل غورباتشيف في 03/12/1989 * غزو العراق للكويت في أوت 1990 وقيادة الولايات المتحدة حلفا دوليا لتحرير الكويت (حرب الخليج الثانية).	
	02	وسائل الهيمنة الأمريكية في توجيه النظام الدولي الجديد: - *استخدام الولايات المتحدة الأمريكية هيئة الأمم المتحدة والمنظمات الحكومية وغير الحكومية في إضفاء الشرعية على قراراتها. - *استخدام المنظمات المالية والاقتصادية واستغلال الغذاء والمال كوسيلة ضغط (الحصار) *تفعيل دور الحلف الأطلسي في تنظيم السلم والأمن العالميين وفق المنظور الأمريكي. - *التدخلات العسكرية ضد الدول المعارضة للسياسة الأمريكية. - *الحملة الإعلامية.	الخاتمة
	0,25	غياب التوازن الدولي سمح بانفراد الولايات المتحدة الأمريكية في إرساء النظام الدولي الجديد حسب توجهاتها. (أو خاتمة مرتبطة بالموضوع).	
	04		

2. الجغرافيا

--	--	--	--	--	--	--	--	--	--	--	--	--	--	--	--	--	--	--	--	--	--	--	--	--	--	--	--	--	--	--	--	--	--	--	--	--	--	--	--	--	--	--	--	--	--	--	--	--	--	--	--	--	--	--	--	--	--	--	--	--	--	--	--	--	--	--	--	--	--	--	--	--	--	--	--	--	--	--	--	--	--	--	--	--	--	--	--	--	--	--	--	--	--	--	--	--	--	--	--	--	--	--	--	--	--	--	--	--	--	--	--	--	--	--	--	--	--	--	--	--	--	--	--	--	--	--	--	--	--	--	--	--	--	--	--	--	--	--	--	--	--	--	--	--	--	--	--	--	--	--	--	--	--	--	--	--	--	--	--	--	--	--	--	--	--	--	--	--	--	--	--	--	--	--	--	--	--	--	--	--	--	--	--	--	--	--	--	--	--	--	--	--	--	--	--	--	--	--	--	--	--	--	--	--	--	--	--	--	--	--	--	--	--	--	--	--	--	--	--	--	--	--	--	--	--	--	--	--	--	--	--	--	--	--	--	--	--	--	--	--	--	--	--	--	--	--	--	--	--	--	--	--	--	--	--	--	--	--	--	--	--	--	--	--	--	--	--	--	--	--	--	--	--	--	--	--	--	--	--	--	--	--	--	--	--	--	--	--	--	--	--	--	--	--	--	--	--	--	--	--	--	--	--	--	--	--	--	--	--	--	--	--	--	--	--	--	--	--	--	--	--	--	--	--	--	--	--	--	--	--	--	--	--	--	--	--	--	--	--	--	--	--	--	--	--	--	--	--	--	--	--	--	--	--	--	--	--	--	--	--	--	--	--	--	--	--	--	--	--	--	--	--	--	--	--	--	--	--	--	--	--	--	--	--	--	--	--	--	--	--	--	--	--	--	--	--	--	--	--	--	--	--	--	--	--	--	--	--	--	--	--	--	--	--	--	--	--	--	--	--	--	--	--	--	--	--	--	--	--	--	--	--	--	--	--	--	--	--	--	--	--	--	--	--	--	--	--	--	--	--	--	--	--	--	--	--	--	--	--	--	--	--	--	--	--	--	--	--	--	--	--	--	--	--	--	--	--	--	--	--	--	--	--	--	--	--	--	--	--	--	--	--	--	--	--	--	--	--	--	--	--	--	--	--	--	--	--	--	--	--	--	--	--	--	--	--	--	--	--	--	--	--	--	--	--	--	--	--	--	--	--	--	--	--	--	--	--	--	--	--	--	--	--	--	--	--	--	--	--	--	--	--	--	--	--	--	--	--	--	--	--	--	--	--	--	--	--	--	--	--	--	--	--	--	--	--	--	--	--	--	--	--	--	--	--	--	--	--	--	--	--	--	--	--	--	--	--	--	--	--	--	--	--	--	--	--	--	--	--	--	--	--	--	--	--	--	--	--	--	--	--	--	--	--	--	--	--	--	--	--	--	--	--	--	--	--	--	--	--	--	--	--	--	--	--	--	--	--	--	--	--	--	--	--	--	--	--	--	--	--	--	--	--	--	--	--	--	--	--	--	--	--	--	--	--	--	--	--	--	--	--	--	--	--	--	--	--	--	--	--	--	--	--	--	--	--	--	--	--	--	--	--	--	--	--	--	--	--	--	--	--	--	--	--	--	--	--	--	--	--	--	--	--	--	--	--	--	--	--	--	--	--	--	--	--	--	--	--	--	--	--	--	--	--	--	--	--	--	--	--	--	--	--	--	--	--	--	--	--	--	--	--	--	--	--	--	--	--	--	--	--	--	--	--	--	--	--	--	--	--	--	--	--	--	--	--	--	--	--	--	--	--	--	--	--	--	--	--	--	--	--	--	--	--	--	--	--	--	--	--	--	--	--	--	--	--	--	--	--	--	--	--	--	--	--	--	--	--	--	--	--	--	--	--	--	--	--	--	--	--	--	--	--	--	--	--	--	--	--	--	--	--	--	--	--	--	--	--	--	--	--	--	--	--	--	--	--	--	--	--	--	--	--	--	--	--	--	--	--	--	--	--	--	--	--	--	--	--	--	--	--	--	--	--	--	--	--	--	--	--	--	--	--	--	--	--	--	--	--	--	--	--	--	--	--	--	--	--	--	--	--	--	--	--	--	--	--	--	--	--	--	--	--	--	--	--	--	--	--	--	--	--	--	--	--	--	--	--	--	--	--	--	--	--	--	--	--	--	--	--	--	--	--	--	--	--	--	--	--	--	--	--	--	--	--	--	--	--	--	--	--	--	--	--	--	--	--	--	--	--	--	--	--	--	--	--	--	--	--	--	--	--	--	--	--	--	--	--	--	--	--	--	--	--	--	--	--	--	--	--	--	--	--	--	--	--	--	--	--	--	--	--	--	--	--	--	--	--	--	--	--	--	--	--	--	--	--	--	--	--	--	--	--	--	--	--	--	--	--	--	--	--	--	--	--	--	--	--	--	--	--	--	--	--	--	--	--	--	--	--	--	--	--	--	--	--	--	--	--	--	--	--	--	--	--	--	--	--	--	--	--	--	--	--	--	--	--	--	--	--	--	--	--	--	--	--	--	--	--	--	--	--	--	--	--	--	--	--	--	--	--	--	--	--	--	--	--	--	--	--	--	--	--	--	--	--	--	--	--	--	--	--	--	--	--	--	--	--	--	--	--	--	--	--	--	--	--	--	--	--	--	--	--	--	--	--	--	--	--	--	--	--	--	--	--	--	--	--	--	--	--	--	--	--	--	--	--	--	--	--	--	--	--	--	--	--	--	--	--	--	--	--	--	--	--	--	--	--	--	--	--	--	--	--	--	--	--	--	--	--	--	--	--	--	--	--	--	--	--	--	--	--	--	--	--	--	--	--	--	--	--	--	--	--	--	--	--	--	--	--	--	--	--	--	--	--	--	--	--	--	--	--	--	--	--	--	--	--	--	--	--	--	--	--	--	--	--	--	--	--	--	--	--	--	--	--	--	--	--	--	--	--	--	--	--	--	--	--	--	--	--	--	--	--	--	--	--	--	--	--	--	--	--	--	--	--	--	--	--	--	--	--	--	--	--	--	--	--	--	--	--	--	--	--	--	--	--	--	--	--	--	--	--	--	--	--	--	--	--	--	--	--	--	--	--

الدول دائمة العضوية في مجلس الأمن




شعار العمل في هذا الموسم :

تَعَبُ الْمُرَاجَعَةُ أَفْضَلُ مِنْ أَلَمِ السَّقُوطِ

صناعة الطريق الذهبي نحو بكالوريا 2023

بالتوفيق و النجاح لجموع التلاميذ الشرفاء



<https://www.facebook.com/okba.bac.2010>