

**MATA PELAJARAN**

Mata Pelajaran : Sosiologi
 Jenjang : Paket C
 Program Studi : IPS

WAKTU PELAKSANAAN

Hari/Tanggal : Minggu, 21 April 2013
 Jam : 13.15 – 15.15

PETUNJUK UMUM

- Periksalah Naskah Soal yang Anda terima sebelum mengerjakan soal yang meliputi :
 - Kelengkapan jumlah halaman atau urutannya.
 - Kelengkapan dan urutan nomor soal.
 - Kesesuaian Nama Mata Uji dan Program Studi yang tertera pada kanan atas Naskah Soal dengan Lembar Jawaban Ujian Nasional (LJUN).
 - Pastikan LJUN masih menyatu dengan naskah soal.
- Laporkan kepada pengawas ruang ujian apabila terdapat lembar soal, nomor soal yang tidak lengkap atau tidak urut, serta LJUN yang rusak atau robek untuk mendapat gantinya.
- Tulislah Nama dan Nomor Peserta Ujian Anda pada kolom yang disediakan di halaman pertama butir soal.
- Isilah pada LJUN Anda dengan:
 - Nama Peserta pada kotak yang disediakan, lalu hitamkan bulatan di bawahnya sesuai dengan huruf di atasnya.
 - Nomor Peserta dan Tanggal Lahir pada kolom yang disediakan, lalu hitamkan bulatan di bawahnya sesuai huruf/angka di atasnya
 - Nama Sekolah, Tanggal Ujian, dan bubuhkan Tanda Tangan Anda pada kotak yang disediakan.
- Pisahkan LJUN dari Naskah Soal secara hati-hati dengan cara menyobek pada tempat yang telah ditentukan.
- Tersedia waktu 120 menit untuk mengerjakan Naskah Soal tersebut.
- Jumlah soal sebanyak 50 butir, pada setiap butir soal terdapat 5 (lima) pilihan jawaban.
- Tidak diizinkan menggunakan kalkulator, HP, tabel matematika atau alat bantu hitung lainnya.
- Periksalah pekerjaan Anda sebelum diserahkan kepada pengawas ruang ujian.
- Lembar soal boleh dicorat-coret, sedangkan LJUN tidak boleh dicorat-coret.

SELAMAT MENGERJAKAN

Nama : SDI WAHYUNI

No Peserta : 53-001-041-8

- Aguste Comte membahas sosiologi dengan membagi tiga tahap perkembangan masyarakat, yaitu: Teologis, metafisik dan positivis. Pokok kajian yang sesuai pada tahapan positivis menurut Aguste Comte adalah
 - konflik partai yang terjadi karena perbedaan kepentingan
 - nelayan menangkap ikan di laut untuk dijual ke pedagang
 - ikan lumba-lumba bermain dengan Ira di arena hiburan
 - Hari bernyanyi di panggung untuk menghibur penonton
 - menghormati leluhur dengan upacara membakar sesajen
- Perhatikan gejala sosial berikut!
 - Kehidupan sosial manusia bermasyarakat
 - Di sekolah siswa diwajibkan datang tepat waktu
 - Ketua RT menegur warganya karena tidak bersedia kerja bakti
 - Untuk menafkahi keluarganya seorang ayah bekerja sampai larut malam
 - Siswa diwajibkan menggunakan seragam sekolah dalam proses pembelajaran

Dari pernyataan di atas yang menjadi objek kajian sosiologi adalah

 - (1), (2), dan (3)
 - (1), (2), dan (4)
 - (1), (3), dan (5)
 - (2), (4), dan (5)
 - (3), (4), dan (5)
- Program Bantuan Langsung Tunai (BLT) yang dimaksudkan untuk meringankan beban masyarakat kecil dari tekanan kemiskinan, perlu dikaji lebih lanjut berkaitan dengan keberhasilan mengatasi permasalahan. Peran sosiologi dalam menjelaskan kemajuan program tersebut adalah
 - mencitrakan sebuah tata kelola pemerintahan yang baik
 - menciptakan masyarakat yang aktif dan komunikatif
 - memberikan data berupa baik buruknya kegiatan
 - membebaskan masyarakat dari beban kemiskinan
 - meningkatkan pola pikir masyarakat menjadi maju
- Perceraian sering terjadi dalam kehidupan rumah tangga yang sudah dibangun sejak bertahun-tahun. Komitmen awal untuk membentuk rumah tangga yang langgeng selamanya tidak berhasil dipertahankan karena perbedaan hak dan peran antara laki-laki dan perempuan. Peran sosiologi dalam membantu memecahkan permasalahan tersebut adalah
 - mensosialisasikan kesetaraan gender bagi anggota masyarakat
 - berusaha untuk menghilangkan perbedaan-perbedaan kelas
 - membedakan antara masalah sosial dengan problem sosial
 - melakukan dan mengkaji masalah sosial yang berbeda-beda
 - menghubungkan antara nilai dan norma dalam lembaga sosial

5. Manager perusahaan mengadakan pertemuan dengan wakil buruh perusahaan, yang dihadiri oleh perwakilan dari Kemenakertrans, untuk saling menyampaikan keinginannya guna mencapai kesepakatan dalam hal pengupahan. Bentuk interaksi pada pertemuan tersebut adalah
- sugesti
 - arbitrasi
 - toleransi
 - konsiliasi
 - kontravensi
6. Baskoro mengagumi prestasi ayahnya dalam bidang olah raga dan dari ibunya dalam berkesenian. Ia berharap kelak menjadi seperti kedua orang tuanya yang dinilai sukses dalam hidup. Proses interaksi sosial Baskoro dipengaruhi oleh faktor
- motivasi
 - empati
 - sugesti
 - simpati
 - imitasi
7. Lihan membantu seorang perempuan tua yang merasa takut untuk menyeberang jalan. Tindakan tersebut dilakukan karena Lihan merasa mampu untuk menolong perempuan tersebut. Upaya menolong orang lain tersebut termasuk dalam jenis nilai
- vital
 - moral
 - religius
 - immaterial
 - kebenaran
8. Nilai sosial dalam masyarakat berkaitan dengan cara berfikir, berperasaan, dan bertindak serta menjadi panduan dalam menentukan pilihan. Uraian ini menerangkan tentang fungsi nilai sebagai
- faktor pendorong kebaikan
 - petunjuk berperilaku
 - stabilitas budaya
 - dasar solidaritas
 - alat pengawas
9. Sesuai tugas dan fungsinya, polisi lalu lintas membantu penyeberang jalan dengan mengamankan kendaraan agar tidak terjadi kecelakaan. Tindakan yang dilakukan polisi sesuai dengan ilustrasi tersebut berkaitan dengan
- sistem norma dan nilai
 - kebiasaan masyarakat
 - keteraturan masyarakat
 - etika pergaulan
 - keajegan sosial

10. Anna terlahir dari keluarga kaya. Sejak kecil ia diasuh oleh orang lain di luar keluarganya. Ketika sudah besar Anna bersikap tidak patuh terhadap orang tuanya. Untuk mengatasi perilaku Anna tersebut keluarganya menghukum dengan cara keras. Pola sosialisasi yang dilakukan oleh keluarga Anna bersifat
- primer
 - represif
 - persuasif
 - sekunder
 - preventif
11. Beberapa pemilik kendaraan bermotor mengaku terkejut dengan naiknya pajak kendaraan bermotor dan diberlakukannya pajak progresif, sehingga mereka harus membayar pajak lebih tinggi dari biasanya. Hal ini tidak akan terjadi jika diadakan sosialisasi dengan baik. Tujuan sosialisasi terhadap permasalahan tersebut adalah
- memberikan keterampilan dan pengetahuan yang dibutuhkan untuk melangsungkan kehidupan
 - mengembangkan kemampuan seseorang untuk berkomunikasi secara efektif melalui menulis dan bercerita
 - membantu seseorang mengendalikan fungsi-fungsi organik melalui latihan dan mawas diri yang tepat
 - menanamkan kepada seseorang nilai-nilai dan kepercayaan pokok pada masyarakat
 - mengkomunikasikan kepada masyarakat untuk menerima dan menyesuaikan dengan unsur kebudayaan yang baru
12. Perhatikan pernyataan berikut!
- (1) Mempunyai kegunaan sebagai media reproduksi alami
 - (2) Memberikan kebutuhan akan rasa aman dari ancaman
 - (3) Mencoba memahami orang lain dalam kerjasama tim
 - (4) Melatih perkembangan individu untuk berkompetisi
 - (5) Memberikan ruang untuk mengaktualisasikan diri
- Di antara pernyataan tersebut, yang merupakan fungsi dari teman bermain (*peer group*) sebagai agen atau media sosialisasi adalah ...
- (1), (2), dan (3)
 - (1), (2), dan (4)
 - (1), (3), dan (5)
 - (2), (4), dan (5)
 - (3), (4), dan (5)
13. Pak Budi sejak kecil tinggal di sebuah desa di Jawa yang menjunjung tinggi bahasa dan budaya Jawa. Pak Budi pandai berbahasa Jawa dan selalu bertutur kata halus terhadap siapa saja. Contoh ini merupakan pembentukan kepribadian yang dipengaruhi oleh faktor
- lingkungan pekerjaan
 - subkultur kedaerahan
 - lingkungan alam
 - subkultur agama
 - subkultur desa

14. Seorang penjual minuman keras sekaligus juga peminum sering mabuk-mabukan baik di rumah, di pesta, maupun di tempat umum. Tindakan ini meresahkan masyarakat sekitarnya. Perilaku seperti contoh tersebut termasuk penyimpangan

A. sekunder
B. primer
C. positif
D. negatif
E. kelompok

15. Donkey adalah pencopet di terminal bus yang ditangkap aparat dan dipenjarakan. Di dalam penjara ia berdiskusi dengan pelaku tindak kejahatan yang lebih hebat. Setelah ke luar dari penjara, Donkey menerapkan keahlian barunya. Faktor yang mempengaruhi Donkey dalam melakukan penyimpangan adalah

A. ketegangan antara kebudayaan dan struktur sosial
B. proses mediasi nilai-nilai kebudayaan menyimpang
C. proses identifikasi dan imitasi kelompok sosial yang lain
D. proses internalisasi pembelajaran nilai-nilai menyimpang
E. ketidak sanggupan menyerap nilai dan norma di masyarakat

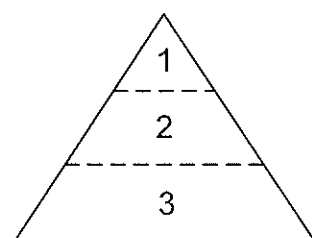
16. Seorang hakim pengadilan negeri terbukti korupsi dengan menerima gratifikasi atau suap dari tersangka untuk diringankan hukumannya. Maka cara yang tepat mengendalikan penyimpangan tersebut yaitu, menggunakan

A. desas-desus
B. intimidasi
C. tekanan sosial
D. sosialisasi nilai dan norma
E. pengendalian formal /hukum

17. Polisi bertugas menjaga keamanan dan ketertiban masyarakat. Salah satunya upaya yang dilakukan adalah menghukum pelanggar lalu lintas. Tujuan adanya pengendalian dalam masyarakat oleh lembaga tersebut adalah

A. menegakkan kaidah-kaidah sesuai dengan nilai sosial masyarakat
B. memberikan efek jera terhadap pelaku kejahatan agar tidak diulang
C. mengadili pelaku tindak kejahatan dengan hukuman yang setimpal
D. membentuk perilaku masyarakat sesuai dengan norma yang berlaku
E. mengutamakan nilai-nilai budaya dan memperkuat hukum adat setempat

18. Perhatikan gambar berikut!

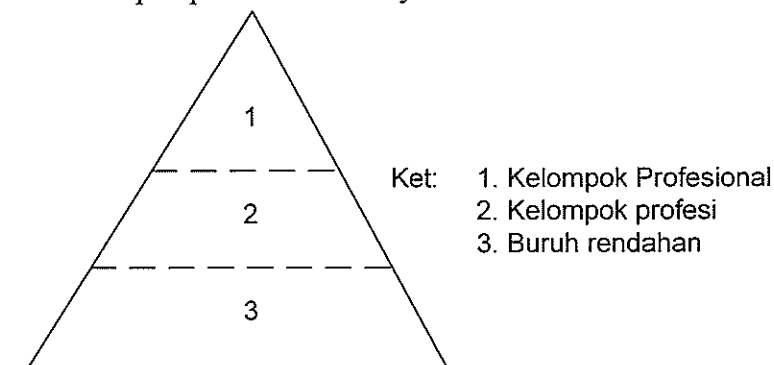


(1) Petani memiliki rumah, pekarangan dan lahan
(2) Petani memiliki rumah dan pekarangan
(3) Petani tidak memiliki rumah, pekarangan dan lahan

Stratifikasi pada masyarakat tersebut bersifat ...

A. terarah
B. tertutup
C. terbuka
D. tersebar
E. campuran

19. Gambar pelapisan sosial masyarakat:



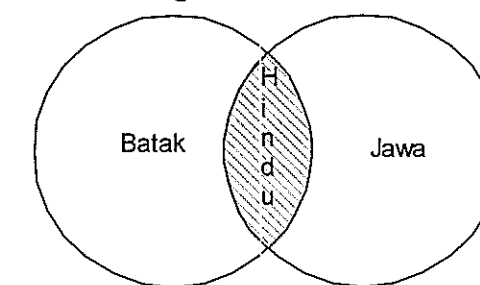
Dasar atau kriteria pelapisan sosial pada gambar di atas adalah ...

A. pemilik tanah dan keturunan
B. pendidikan dan keahlian
C. kekuasaan dan wewenang
D. kekayaan dan pendidikan
E. kekayaan dan keturunan

20. Dalam pemerintahan daerah setingkat kecamatan terdapat lapisan dan jajaran yang menunjukkan status dan peran masing-masing individu. Hal ini menunjukkan salah satu ciri dari adanya struktur sosial yaitu

A. menjalin hubungan sosial antarstatus
B. realitas sosial yang bersifat berjenjang
C. membentuk teori kebudayaan masyarakat
D. peranan pimpinan menjadi penentu struktur
E. membentuk kerjasama kelompok sosial tertentu

21. Perhatikan gambar berikut!



Daerah yang diarsir di atas menunjukkan hasil suatu proses sosial dalam bentuk

A. konsolidasi
B. akomodasi
C. interseksi
D. asimilasi
E. interaksi



22. Konflik antara bank swasta dengan nasabah sehubungan dengan jumlah tagihan pada kartu kredit yang menurut nasabah tidak sesuai dengan penggunaannya diselesaikan dengan mendatangkan petugas Bank Indonesia yang mempertemukan kepentingan bank dan nasabah sehingga didapatkan penyelesaian yang adil dan tidak merugikan kedua belah pihak. Penyelesaian konflik demikian merupakan bentuk
- ☒ A. ajudikasi
B. kompromi
C. toleransi
D. mediasi
E. arbitrase
23. Adanya perbedaan pendapat peserta rapat dalam membahas anggaran rumah tangga menimbulkan konflik, namun kemudian melahirkan suatu konsensus yang menghasilkan usulan perbaikan. Berdasarkan sifatnya bentuk konflik yang demikian disebut sebagai
- A. pertentangan kelompok
B. pertikaian kelompok
C. perbedaan sepihak
D. konflik destruktif
☒ E. konflik konstruktif
24. Perusahaan menginginkan pekerja yang terampil, rajin, tetapi upah rendah. Pekerja menginginkan pekerjaan yang ringan, mudah, jam kerja yang pendek, tetapi upahnya tinggi. Keadaan demikian dapat memicu timbulnya konflik. Jenis konflik demikian disebabkan oleh faktor
- ☒ A. perubahan sosial
B. benturan kepentingan
C. perbedaan kebudayaan
D. perbedaan kepribadian
E. perbedaan faktor politik
25. Beberapa gejala sosial:
- (1) Adanya keinginan untuk maju dan mengembangkan potensinya
 - (2) Adanya pertemuan baru dan kontak dengan budaya lain
 - ☒ (3) Komunikasi hanya berlangsung dalam kelompoknya
 - (4) Sikap pasrah pada nasib dan menerima apa adanya
 - (5) Cara berfikir masyarakat yang irasional dan mistik
- Yang termasuk faktor penghambat proses mobilitas sosial adalah....
- A. (1), (2), dan (3)
B. (1), (2), dan (4)
C. (2), (3), dan (5)
D. (2), (3), dan (4)
☒ E. (3), (4), dan (5)

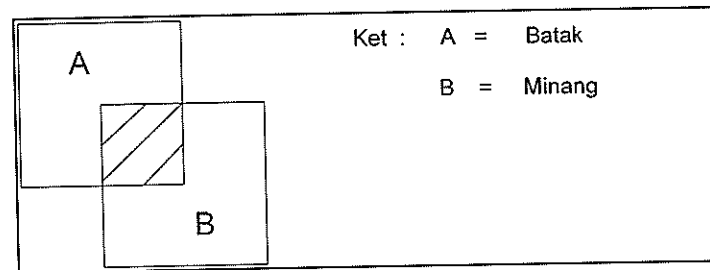


26. Tika ingin mencari pekerjaan di ibu kota sesuai dengan pendidikannya, tetapi ia kesulitan karena tidak ada lowongan pekerjaan yang sesuai. Ia menerima kerja sebagai buruh kasar, meskipun di desa ia adalah anak orang kaya yang terpandang. Bentuk mobilitas yang dialami Tika adalah
- A. vertikal naik
☒ B. vertikal turun
C. horizontal geografi
D. antargenerasi naik
E. antar generasi turun
27. Prof. Dr. Alimudin adalah seorang dokter yang memiliki banyak pasien, karena terkenal ramah dan suka menolong pasien kurang mampu. Selain terkenal sebagai dokter spesialis, beliau terpilih juga menjadi ketua Ikatan Dokter Indonesia untuk lima tahun mendatang. Dari contoh tersebut saluran mobilitas yang digunakan adalah
- ☒ A. lembaga pendidikan
B. organisasi ekonomi
C. organisasi keahlian
D. organisasi politik
E. lembaga potensi
28. Rukun Tetangga (RT) merupakan bentuk kelompok sosial yang anggotanya saling kenal dan dapat bekerja sama. Ikatan kelompok tersebut dapat dikatakan sebagai paguyuban (*gemeinschaft*) yang terbentuk karena adanya
- A. besar dan kecilnya jumlah anggota
B. pola kesadaran dan tujuan yang sama
C. hubungan sosial dan tujuan yang sama
D. wilayah geografi dan tujuan yang sama
☒ E. kepentingan secara kelompok dan wilayah
29. Perhatikan pernyataan berikut!
- (1) Terikat oleh hubungan batin yang murni dan alamiah.
 - ☒ (2) Hubungan sosial bersifat pribadi khusus untuk beberapa orang saja.
 - (3) Ikatan di antara para anggotanya adalah kepentingan yang bersifat sementara.
 - (4) Terbentuk dalam jangka waktu yang relatif lama.
 - ☒ (5) Bersifat umum dan terbuka bagi siapa saja yang ingin bergabung.
- Kelompok paguyuban (*gemeinschaft*) memiliki ciri-ciri nomor ...
- A. (1), (2), dan (3)
B. (1), (2), dan (4)
C. (2), (3), dan (5)
☒ D. (2), (4), dan (5)
E. (3), (4), dan (5)

30. Adanya masyarakat multikultural dapat diketahui dari keragaman penerapan teknologi budaya, seni, dan bahasa. Seperti perbedaan budaya pada kelompok masyarakat yang hidup di pesisir pantai dengan kelompok masyarakat yang tinggal di dataran tinggi. Faktor yang melatarbelakangi perbedaan tersebut adalah

- A. latar belakang sejarah yang sama
- B. berada di jalur transportasi dunia
- C. mempunyai jenis vegetasi beragam
- D. wilayah yang terdiri dari kepulauan
- E. adanya pembagian tiga zona yang berbeda

31. Perhatikan gambar berikut!



Gambar di atas menunjukkan adanya proses

- A. interseksi melahirkan integrasi sosial
- B. konsolidasi melahirkan integrasi sosial
- C. interseksi melahirkan konsolidasi
- D. konsolidasi melahirkan konflik
- E. integrasi melahirkan konflik

32. Perhatikan pernyataan berikut!

- (1) Bersifat terbuka mau menerima pendapat dari kelompok lain tanpa memandang suku bangsa, agama, ras atau aliran
- (2) Membentuk kelompok usaha dagang dengan keanggotaan lintas-etnis, lintas-agama, lintas-ras dan aliran
- (3) Memberikan perlakuan istimewa kepada orang-orang yang berlatar belakang agama atau suku bangsa yang sama dengan dirinya
- (4) Memilih calon pimpinan kepala daerah berdasarkan latar belakang kedaerahan yang sama
- (5) Membentuk partai politik berbasis agama atau aliran tertentu

Di antara perilaku tersebut yang merupakan pernyataan sesuai dengan unsur primordial adalah

- A. (1), (2), dan (3)
- B. (1), (2), dan (4)
- C. (1), (3), dan (5)
- D. (2), (4), dan (5)
- E. (3), (4), dan (5)

33. Perubahan sosial dengan proses lambat, membutuhkan waktu lama dan disertai dengan beberapa rentetan perubahan kecil yang saling mengikuti, terjadi dengan sendirinya tanpa ada rencana atau kehendak dari siapapun, dan merupakan usaha masyarakat untuk menyesuaikan diri seiring dengan pertumbuhan masyarakat. Deskripsi tersebut sesuai dengan konsep pertumbuhan

- A. teori fungsional
- B. teori revolusi
- C. teori konflik
- D. teori evolusi
- E. teori siklus

34. Lahan tidur yang tadinya kumuh dan dipergunakan oleh masyarakat untuk membuang sampah, sekarang dibangun menjadi taman kota yang indah dan asri. Banyak masyarakat yang memanfaatkan taman tersebut sebagai sarana rekreasi keluarga. Berdasarkan ilustrasi di atas jenis perubahan sosial yang terjadi bersifat

- A. intern
- B. ekstern
- C. regres
- D. progres
- E. evolusi

35. Pembangunan jalan tol dan pembangunan jembatan dapat memperlancar arus lalu lintas dan menjadikan semakin banyaknya perkembangan kawasan industri yang dapat menyerap banyak tenaga kerja. Contoh tersebut termasuk bentuk perubahan....

- A. progresif
- B. revolusi
- C. lambat
- D. regres
- E. linear

36. Perhatikan pernyataan berikut!

- (1) Adanya kepentingan yang tertanam kuat
- (2) Kontak dan komunikasi dengan masyarakat lain
- (3) Sikap menghargai karya orang lain dan keinginan untuk maju
- (4) Ikatan adat/tradisi yang kuat dan prasangka terhadap hal baru
- (5) Perilaku senang menerima masukan dari orang lain

Yang merupakan faktor pendorong perubahan sosial adalah

- A. (1), (2), dan (3)
- B. (1), (3), dan (4)
- C. (2), (3), dan (5)
- D. (2), (4), dan (5)
- E. (3), (4), dan (5)



37. Negara Jepang mengalami perubahan dari negara agraris menjadi negara industri yang sangat maju. Hal ini dapat terjadi karena adanya pemaksaan kebijakan negara terhadap masyarakatnya setelah peperangan berakhir. Perubahan yang dialami oleh negara Jepang disebabkan
- inisiatif rakyat
 - dominasi negara
 - kondisi peperangan
 - persaingan dengan bangsa lain
 - konflik antarkelompok sosial
38. Pada masyarakat agraris perubahan sosial berkaitan dengan teknologi dan informasi dapat bermakna sebagai suatu hal yang positif. Salah satu indikator keberhasilan perubahan sosial di masyarakat petani adalah
- menyerap segala informasi dari penggunaan teknologi televisi dan radio
 - mendapatkan informasi yang berguna untuk melakukan urbanisasi di kota
 - meningkatkan permintaan pasar terhadap kebutuhan hasil olahan pertanian
 - menerapkan teknologi rekayasa genetik demi peningkatan kualitas pertanian
 - memanfaatkan pola gaya hidup konsumtif seiring dengan perkembangan
39. Globalisasi telah menjadikan orang-orang dari berbagai belahan dunia dan lapisan sosial mudah mengakses informasi dan saling berinteraksi. Salah satu dampaknya, adalah orang-orang Indonesia meniru kebiasaan-kebiasaan dari cara hidup orang Eropa dan Amerika, seperti memanggil orangtuanya dengan menyebut nama saja, penggunaan istilah-istilah dan kebudayaan Barat dalam pergaulan, hubungan muda-mudi yang nyaris tanpa batas dan bebas. Pola yang demikian biasa disebut sebagai
- konsumtisme
 - westernisasi
 - modernisasi
 - hedonisme
 - liberalisme
40. Pendidikan yang diselenggarakan bagi warga masyarakat sebagai pengganti, penambah, dan pelengkap pendidikan formal dalam rangka mendukung pendidikan sepanjang hayat, merupakan tujuan dari lembaga pendidikan
- non formal
 - informal
 - usia dini
 - luar sekolah
 - kedinasan
41. Semakin sulitnya seseorang untuk mencari pekerjaan, memunculkan ide dan usaha baru yang bersifat ilegal, seperti membuat minuman kemasan dengan jalan mengisi ulang dengan air biasa tanpa pemrosesan sesuai prosedur yang berlaku. Lembaga yang berperan seperti YLKI, BPOM dan kepolisian bergerak cepat untuk mencegah peredarannya dan menangkap pelakunya. Berdasarkan fungsinya, tipe lembaga tersebut termasuk dalam
- unsanctioned institution*
 - restructured institution*
 - operative institution*
 - regulative institution*
 - general institution*



42. Sebagai seorang muslim, untuk meningkatkan keimanannya setiap seminggu sekali bu Ani mengikuti pengajian di masjid dekat tempat tinggalnya. Dalam hal ini lembaga agama berfungsi
- membekali manusia dengan keterampilan hidup untuk bekal menuju akhirat
 - mendekatkan manusia dengan penciptanya untuk keselamatan dunia akhirat
 - meningkatkan kesejahteraan masyarakat secara kolektif bagi penganutnya
 - meningkatkan ketaqwaan agar lebih dekat dengan sang penciptanya
 - menciptakan rasa kasih sayang bagi segenap pemeluk-pemeluknya
43. DPR merupakan lembaga politik yang mempunyai wewenang untuk mengatur dan mensejahterakan rakyat. Fungsi lembaga politik tersebut bagi perkembangan masyarakat adalah
- menjaga kelangsungan hidup masyarakat dengan mengawasi kinerja pemerintah
 - menciptakan stratifikasi politik antara pihak yang berkuasa dan yang dikuasai
 - sebagai saluran mobilitas untuk menaikkan status sosial di mata rakyat
 - menjadi alat pihak tertentu untuk memperoleh dan mempertahankan kekuasaan
 - menjaga keamanan warga dari ancaman yang datang dari luar masyarakat
44. Berdasarkan judul penelitian “Pengaruh kelengkapan infrastruktur media pembelajaran terhadap prestasi belajar siswa kelas XII SMA Negeri 13 Kota Baru” dapat ditentukan variabel bebasnya, yaitu
- kelengkapan infrastruktur
 - media pembelajaran
 - prestasi belajar siswa
 - siswa kelas XII
 - SMA Negeri 13 Kota baru
45. Apabila dalam melaksanakan penelitian, peneliti mendefinisikan sesuai konteks ketika penelitian berlangsung, serta data hasil penelitian berupa kata-kata, ungkapan, atau pernyataan yang merupakan narasi deskriptif dari subjek penelitian. Maka dapat disimpulkan bahwa penelitian tersebut merupakan penelitian
- mendasar
 - kualitatif
 - kuantitatif
 - aplikatif
 - verifikatif
46. Seorang peneliti ingin mengetahui kondisi SMA di kabupaten Sidoarjo, yang berkualitas baik. Sampel yang dipilih adalah mereka yang mengerti dunia pendidikan, antara lain, Kepala Dinas Pendidikan, komite sekolah, guru berprestasi, dan tokoh masyarakat. Teknik pengambilan sampel yang paling tepat adalah
- random sampling*
 - cluster sampling*
 - purposive sampling*
 - stratifikasi sampling*
 - quota sampling*

47. Seorang peneliti ingin mengetahui lebih mendalam tentang kehidupan suku Tengger di Bromo. Peneliti terjun langsung ikut serta menjadi bagian dari kehidupan mereka sehari-hari untuk dapat mengetahui secara nyata apa yang dilakukan oleh suku tersebut. Kelebihan teknik pengumpulan data tersebut adalah

- A. efisiensi waktu dan tempat
- B. lebih akrab dengan warga masyarakat
- C. menjadi bagian kehidupan masyarakat
- D. data dikumpulkan melalui pengamatan
- E. data yang dikumpulkan valid dan mendalam

48. Sebuah rangkaian penelitian dilakukan di RT 9/RW 3 kelurahan Bangkit Sari. Peneliti telah berhasil mengidentifikasi data jajak pendapat mengenai pembangunan taman bermain. Hasil yang didapatkan masih berupa angka-angka kasar yang belum bisa dimaknai. Langkah prosedur pengolahan data yang harus dilakukan berikutnya adalah

- A. editing
- B. koding
- C. persiapan
- D. perhitungan
- E. analisis statistik

49. Pendapat masyarakat tentang hukuman bagi siswa yang terlibat tawuran:

No	Sanksi	Persentase
1.	Denda ganti rugi	25%
2.	Dikeluarkan dari sekolah	10%
3.	Diadili di pengadilan	35%
4.	Dihakimi masyarakat	10%
5.	Dimasukkan penjara	20%
	Jumlah	100%

Dari tabel di atas dapat disimpulkan bahwa hukuman yang dikehendaki masyarakat bagi siswa yang terlibat tawuran adalah

- A. diadili di pengadilan
- B. dikeluarkan dari sekolah
- C. didenda ganti rugi
- D. dihakimi masyarakat
- E. dimasukkan penjara

50. Tanda catatan kaki diletakkan di ujung kalimat yang kita kutip dengan menggunakan huruf Arab yang di ketik naik setengah spasi. Fungsi catatan tersebut dalam sistematika penulisan ilmiah adalah

- A. menunjukkan dari mana sebuah kutipan diambil
- B. pendapat pribadi peneliti terhadap suatu masalah
- C. sebagai lanjutan dari bab analisis dan pembahasan
- D. menunjukkan kesungguhan peneliti dalam menulis
- E. bagian pelengkap dari kalimat yang tidak jelas artinya



UJIAN NASIONAL

TAHUN PELAJARAN 2012/2013

Paket C

PROGRAM STUDI IPS

SOSIOLOGI

Minggu, 21 April 2013 (13.15 – 15.15)



PUSPENDIK
BALITBANG

KEMENTERIAN PENDIDIKAN DAN KEBUDAYAAN

BSNP
Badan Standar Nasional Pendidikan